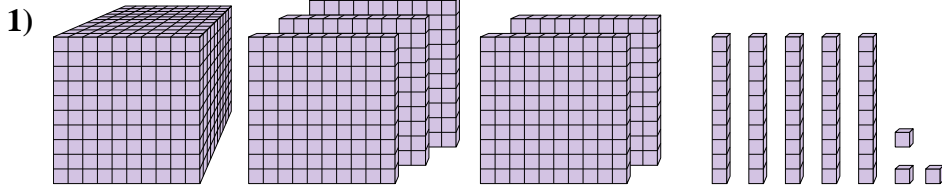
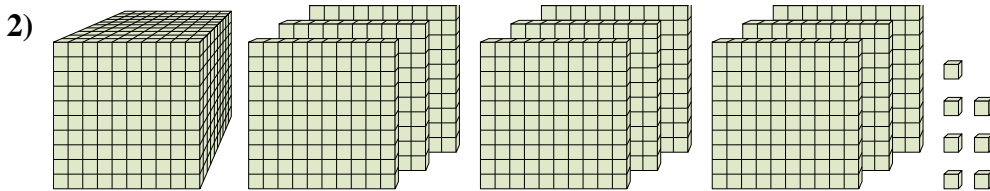




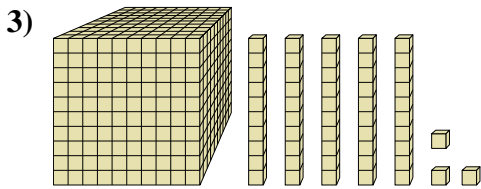
Risolvi ogni problema.



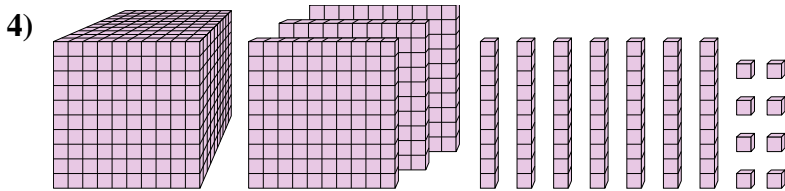
Quale cifra è nella posizione delle centinaia nel numero qui sopra?



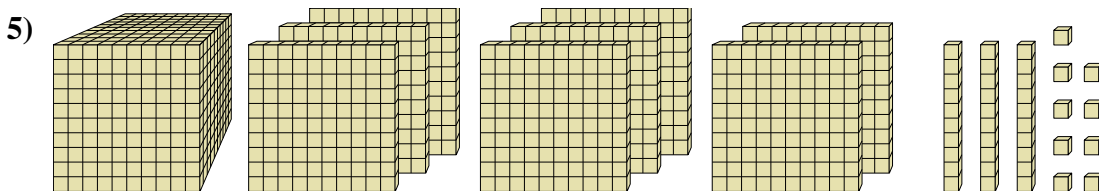
Quale cifra è nella posizione delle migliaia nel numero qui sopra?



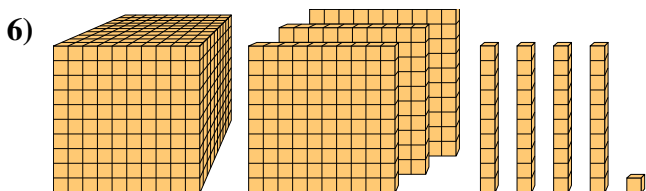
Quale cifra è nella posizione delle migliaia nel numero qui sopra?



Quale cifra è nella posizione delle decine nel numero qui sopra?



Quale cifra è nella posizione delle migliaia nel numero qui sopra?



Quale cifra è nella posizione delle unità nel numero qui sopra?

Risposte

1. _____

2. _____

3. _____

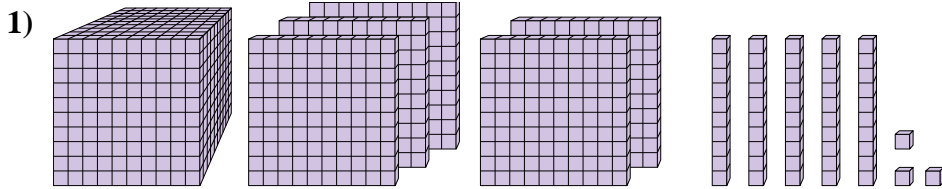
4. _____

5. _____

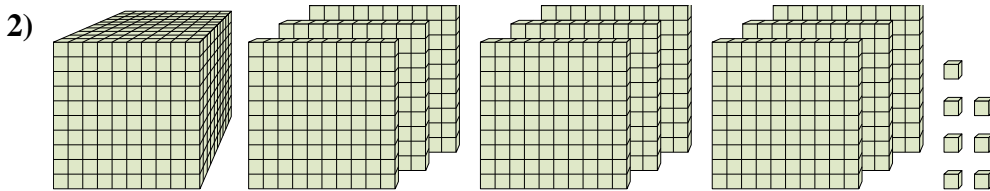
6. _____



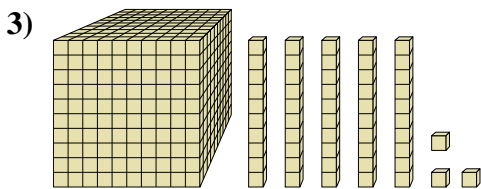
Risolvi ogni problema.



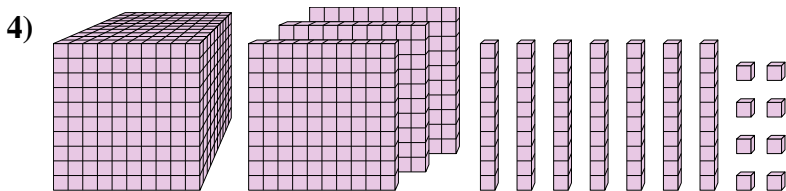
Quale cifra è nella posizione delle centinaia nel numero qui sopra?



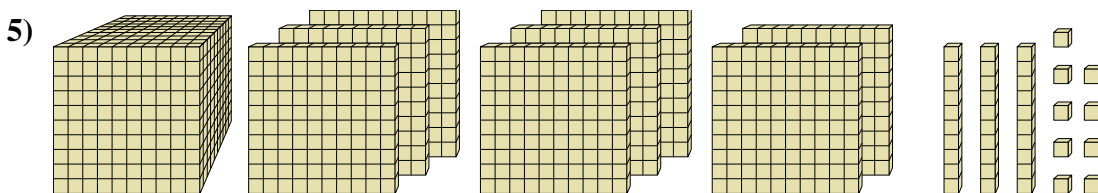
Quale cifra è nella posizione delle migliaia nel numero qui sopra?



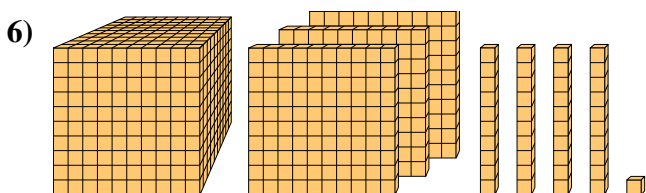
Quale cifra è nella posizione delle migliaia nel numero qui sopra?



Quale cifra è nella posizione delle decine nel numero qui sopra?



Quale cifra è nella posizione delle migliaia nel numero qui sopra?



Quale cifra è nella posizione delle unità nel numero qui sopra?

Risposte

1. 5

2. 1

3. 1

4. 7

5. 1

6. 1