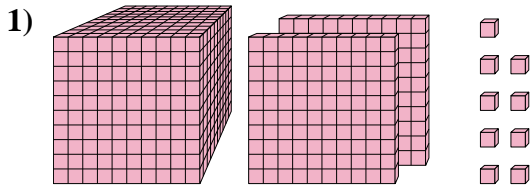
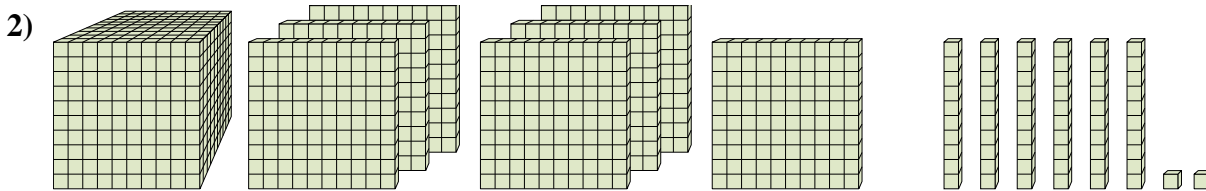




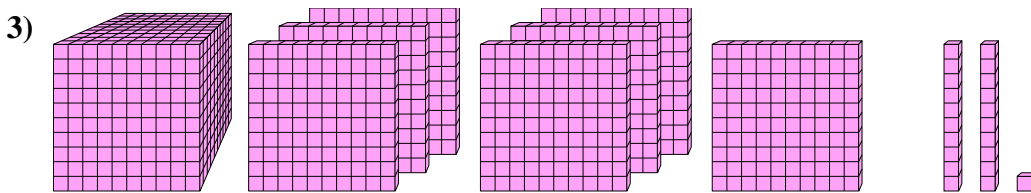
Risolvi ogni problema.



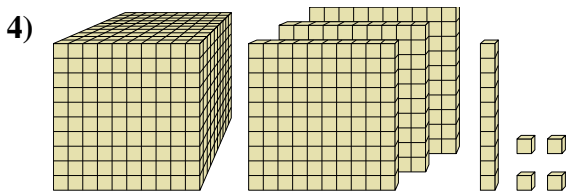
Quale cifra è nella posizione delle unità nel numero qui sopra?



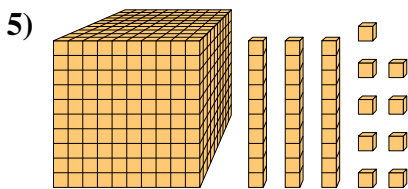
Quale cifra è nella posizione delle migliaia nel numero qui sopra?



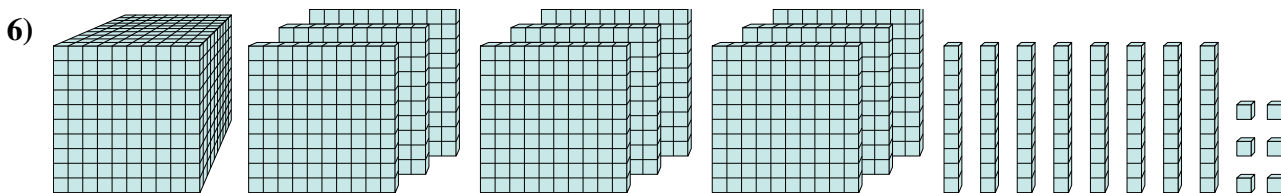
Quale cifra è nella posizione delle unità nel numero qui sopra?



Quale cifra è nella posizione delle decine nel numero qui sopra?



Quale cifra è nella posizione delle centinaia nel numero qui sopra?



Quale cifra è nella posizione delle decine nel numero qui sopra?

**Risposte**

1. \_\_\_\_\_

2. \_\_\_\_\_

3. \_\_\_\_\_

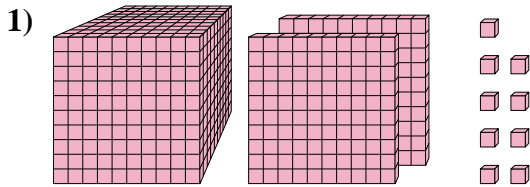
4. \_\_\_\_\_

5. \_\_\_\_\_

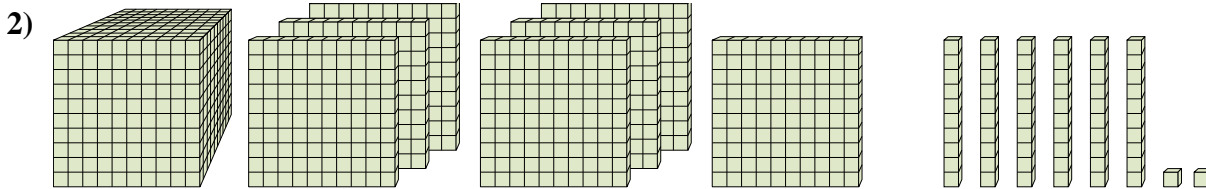
6. \_\_\_\_\_



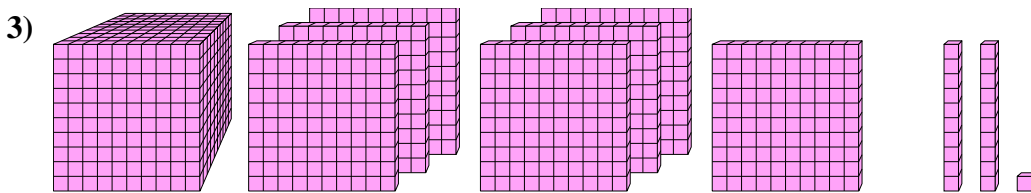
Risolvi ogni problema.



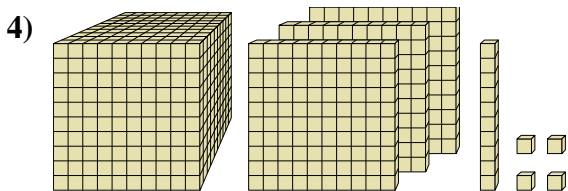
Quale cifra è nella posizione delle unità nel numero qui sopra?



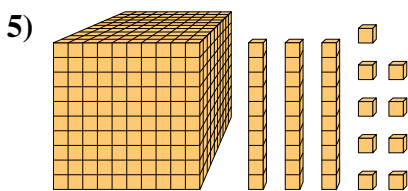
Quale cifra è nella posizione delle migliaia nel numero qui sopra?



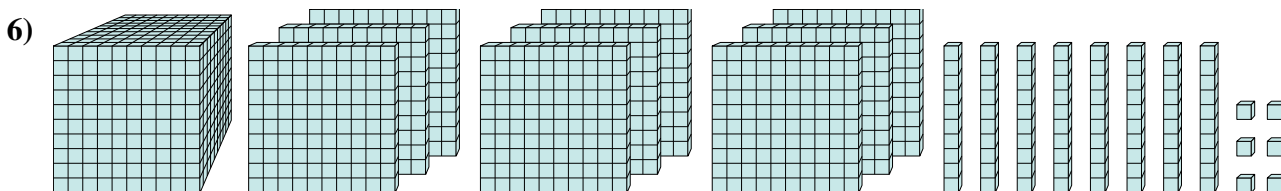
Quale cifra è nella posizione delle unità nel numero qui sopra?



Quale cifra è nella posizione delle decine nel numero qui sopra?



Quale cifra è nella posizione delle centinaia nel numero qui sopra?



Quale cifra è nella posizione delle decine nel numero qui sopra?

**Risposte**

1. 9

2. 1

3. 1

4. 1

5. 0

6. 8