



Usa "<", ">", o "=" per confrontare i numeri.

1) 57 ___ 95

2) 37 ___ 70

3) 12 ___ 40

4) 41 ___ 40

5) 21 ___ 92

6) 25 ___ 93

7) 15 ___ 51

8) 71 ___ 17

9) 56 ___ 65

10) 58 ___ 85

11) 78 ___ 87

12) 58 ___ 85

13) 57 ___ 75

14) 28 ___ 82

15) 12 ___ 11

16) 44 ___ 45

17) 17 ___ 19

18) 64 ___ 62

19) 77 ___ 74

20) 49 ___ 46

Risposte

1. _____

2. _____

3. _____

4. _____

5. _____

6. _____

7. _____

8. _____

9. _____

10. _____

11. _____

12. _____

13. _____

14. _____

15. _____

16. _____

17. _____

18. _____

19. _____

20. _____



Usa "<", ">", o "=" per confrontare i numeri.

1) $57 < 95$

2) $37 < 70$

3) $12 < 40$

4) $41 > 40$

5) $21 < 92$

6) $25 < 93$

7) $15 < 51$

8) $71 > 17$

9) $56 < 65$

10) $58 < 85$

11) $78 < 87$

12) $58 < 85$

13) $57 < 75$

14) $28 < 82$

15) $12 > 11$

16) $44 < 45$

17) $17 < 19$

18) $64 > 62$

19) $77 > 74$



20) $49 > 46$

Risposte1. $<$ 2. $<$ 3. $<$ 4. $>$ 5. $<$ 6. $<$ 7. $<$ 8. $>$ 9. $<$ 10. $<$ 11. $<$ 12. $<$ 13. $<$ 14. $<$ 15. $>$ 16. $<$ 17. $<$ 18. $>$ 19. $>$ 20. $>$





Usa "<", ">", o "=" per confrontare i numeri.



1) 57 _____ 95



2) 37 _____ 70



3) 12 _____ 40



4) 41 _____ 40



5) 21 _____ 92



6) 25 _____ 93



7) 15 _____ 51



8) 71 _____ 17

9) 56 _____ 65

10) 58 _____ 85

Risposte

1. _____
2. _____
3. _____
4. _____
5. _____
6. _____
7. _____
8. _____
9. _____
10. _____