



Usa "<", ">", o "=" per confrontare i numeri.

1) 80 ___ 58

2) 29 ___ 74

3) 55 ___ 85

4) 78 ___ 71

5) 46 ___ 56

6) 96 ___ 83

7) 81 ___ 18

8) 93 ___ 39

9) 64 ___ 46

10) 39 ___ 93

11) 19 ___ 91

12) 19 ___ 91

13) 28 ___ 82

14) 89 ___ 98

15) 18 ___ 17

16) 75 ___ 73

17) 79 ___ 80

18) 44 ___ 43

19) 58 ___ 55

20) 86 ___ 89

Risposte

1. _____

2. _____

3. _____

4. _____

5. _____

6. _____

7. _____

8. _____

9. _____

10. _____

11. _____

12. _____

13. _____

14. _____

15. _____

16. _____

17. _____

18. _____

19. _____

20. _____



Usa "<", ">", o "=" per confrontare i numeri.

1) $80 > 58$

2) $29 < 74$

3) $55 < 85$

4) $78 > 71$

5) $46 < 56$

6) $96 > 83$

7) $81 > 18$

8) $93 > 39$

9) $64 > 46$

10) $39 < 93$

11) $19 < 91$

12) $19 < 91$

13) $28 < 82$

14) $89 < 98$

15) $18 > 17$

16) $75 > 73$

17) $79 < 80$

18) $44 > 43$

19) $58 > 55$

20) $86 < 89$

Risposte

1. $>$

2. $<$

3. $<$

4. $>$

5. $<$

6. $>$

7. $>$

8. $>$

9. $>$

10. $<$

11. $<$

12. $<$

13. $<$

14. $<$

15. $>$

16. $>$

17. $<$

18. $>$


19. $>$

20. $<$




Usa "<", ">", o "=" per confrontare i numeri.


1) 80 58




2) 29 74




3) 55 85




4) 78 71




5) 46 56




6) 96 83




7) 81 18




8) 93 39



9) 64 46



10) 39 93



Risposte

1. _____
2. _____
3. _____
4. _____
5. _____
6. _____
7. _____
8. _____
9. _____
10. _____