

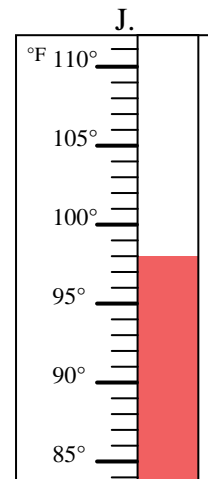
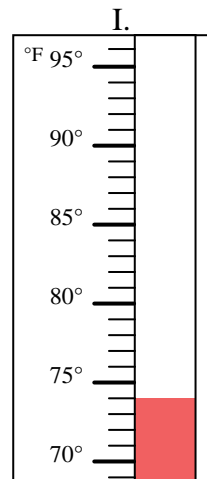
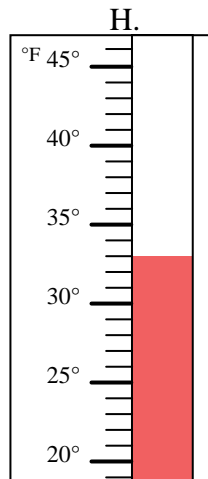
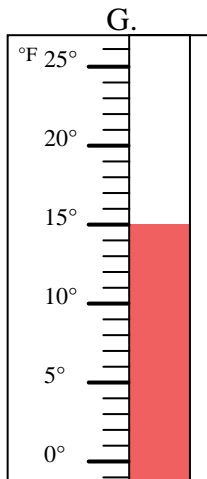
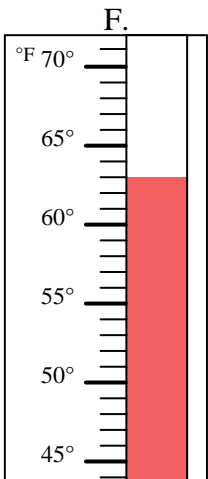
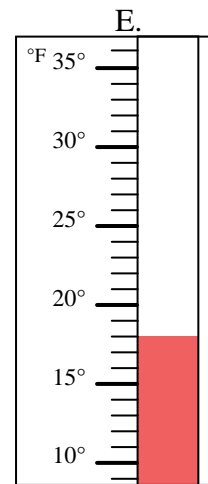
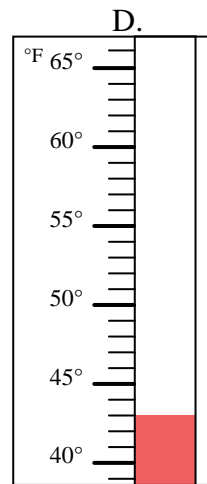
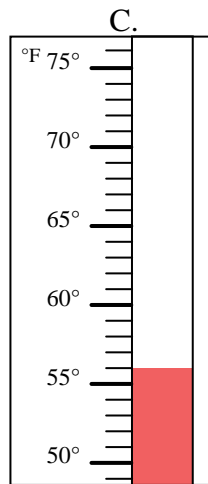
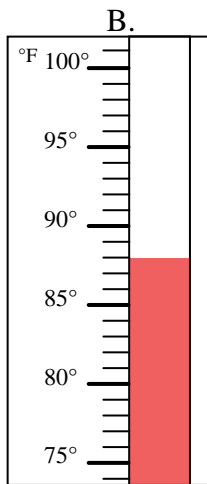
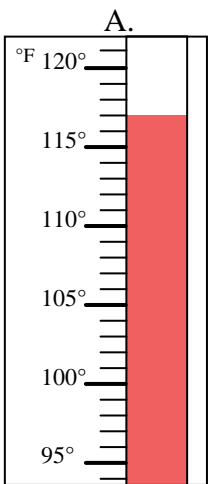


Indica quale lettera risponde correttamente ad ogni domanda.

**Risposte**

- 1) Quale termometro rappresenta correttamente una temperatura di 117? \_\_\_\_\_
- 2) Quale termometro rappresenta correttamente una temperatura di 33? \_\_\_\_\_
- 3) Quale termometro rappresenta correttamente una temperatura di 88? \_\_\_\_\_
- 4) Quale termometro rappresenta correttamente una temperatura di 63? \_\_\_\_\_
- 5) Quale termometro rappresenta correttamente una temperatura di 56? \_\_\_\_\_
- 6) Quale termometro rappresenta correttamente una temperatura di 74? \_\_\_\_\_
- 7) Quale termometro rappresenta correttamente una temperatura di 43? \_\_\_\_\_
- 8) Quale termometro rappresenta correttamente una temperatura di 18? \_\_\_\_\_
- 9) Quale termometro rappresenta correttamente una temperatura di 15? \_\_\_\_\_
- 10) Quale termometro rappresenta correttamente una temperatura di 98? \_\_\_\_\_

1. \_\_\_\_\_
2. \_\_\_\_\_
3. \_\_\_\_\_
4. \_\_\_\_\_
5. \_\_\_\_\_
6. \_\_\_\_\_
7. \_\_\_\_\_
8. \_\_\_\_\_
9. \_\_\_\_\_
10. \_\_\_\_\_





Indica quale lettera risponde correttamente ad ogni domanda.

- 1) Quale termometro rappresenta correttamente una temperatura di 117? A
- 2) Quale termometro rappresenta correttamente una temperatura di 33? H
- 3) Quale termometro rappresenta correttamente una temperatura di 88? B
- 4) Quale termometro rappresenta correttamente una temperatura di 63? F
- 5) Quale termometro rappresenta correttamente una temperatura di 56? C
- 6) Quale termometro rappresenta correttamente una temperatura di 74? I
- 7) Quale termometro rappresenta correttamente una temperatura di 43? D
- 8) Quale termometro rappresenta correttamente una temperatura di 18? E
- 9) Quale termometro rappresenta correttamente una temperatura di 15? G
- 10) Quale termometro rappresenta correttamente una temperatura di 98? J

**Risposte**

1. A
2. H
3. B
4. F
5. C
6. I
7. D
8. E
9. G
10. J

