

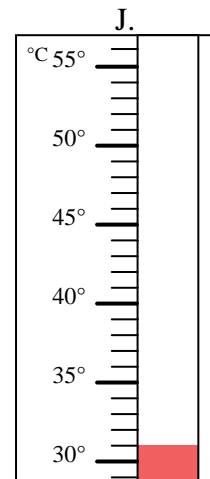
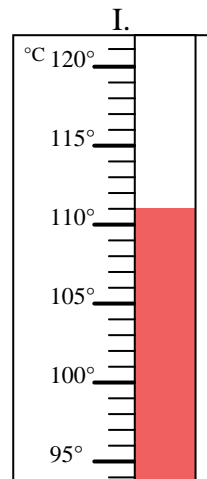
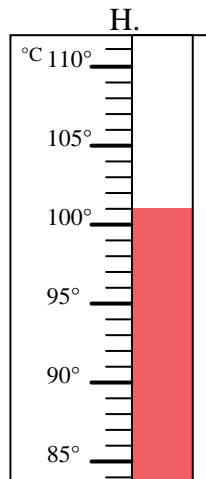
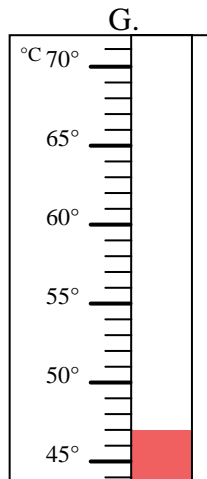
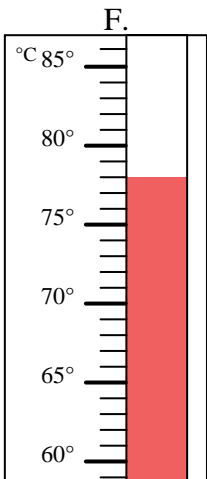
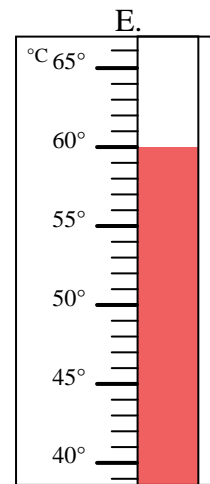
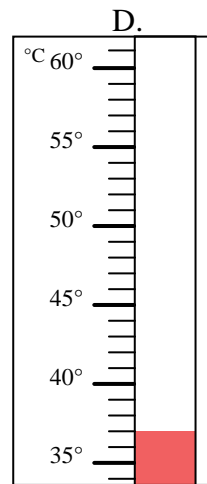
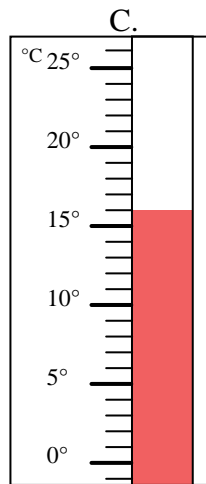
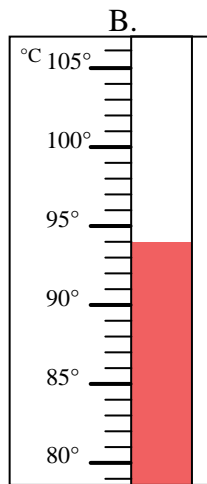
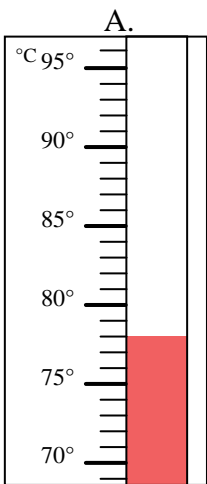


Indica quale lettera risponde correttamente ad ogni domanda.

- 1) Quale termometro rappresenta correttamente una temperatura di 47°? _____
- 2) Quale termometro rappresenta correttamente una temperatura di 78°? _____
- 3) Quale termometro rappresenta correttamente una temperatura di 101°? _____
- 4) Quale termometro rappresenta correttamente una temperatura di 31°? _____
- 5) Quale termometro rappresenta correttamente una temperatura di 37°? _____
- 6) Quale termometro rappresenta correttamente una temperatura di 16°? _____
- 7) Quale termometro rappresenta correttamente una temperatura di 60°? _____
- 8) Quale termometro rappresenta correttamente una temperatura di 78°? _____
- 9) Quale termometro rappresenta correttamente una temperatura di 111°? _____
- 10) Quale termometro rappresenta correttamente una temperatura di 94°? _____

Risposte

1. _____
2. _____
3. _____
4. _____
5. _____
6. _____
7. _____
8. _____
9. _____
10. _____





Indica quale lettera risponde correttamente ad ogni domanda.

- 1) Quale termometro rappresenta correttamente una temperatura di 47°? G
- 2) Quale termometro rappresenta correttamente una temperatura di 78°? A
- 3) Quale termometro rappresenta correttamente una temperatura di 101°? H
- 4) Quale termometro rappresenta correttamente una temperatura di 31°? J
- 5) Quale termometro rappresenta correttamente una temperatura di 37°? D
- 6) Quale termometro rappresenta correttamente una temperatura di 16°? C
- 7) Quale termometro rappresenta correttamente una temperatura di 60°? E
- 8) Quale termometro rappresenta correttamente una temperatura di 78°? F
- 9) Quale termometro rappresenta correttamente una temperatura di 111°? I
- 10) Quale termometro rappresenta correttamente una temperatura di 94°? B

Risposte

1. G
2. A
3. H
4. J
5. D
6. C
7. E
8. F
9. I
10. B

