

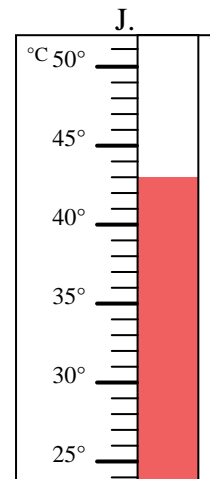
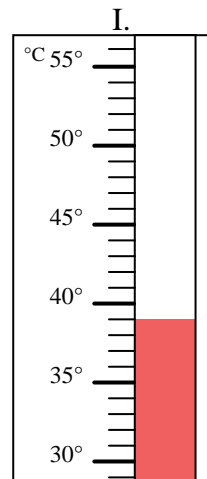
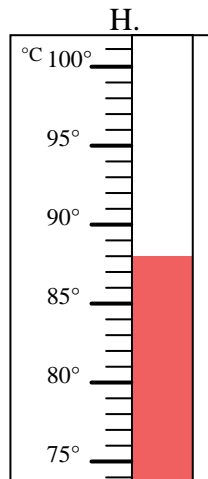
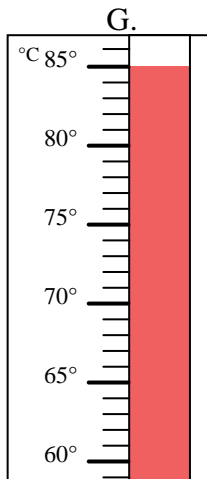
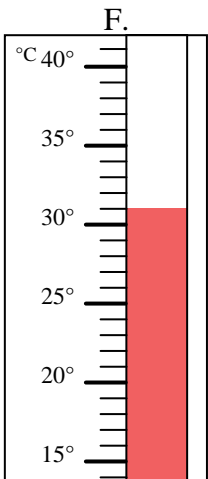
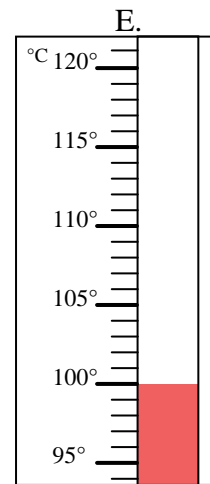
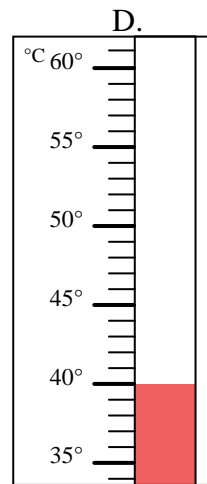
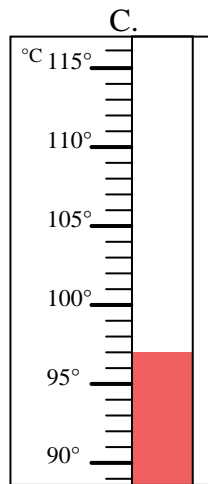
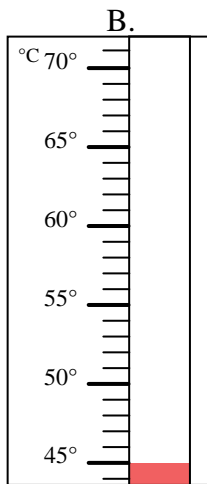
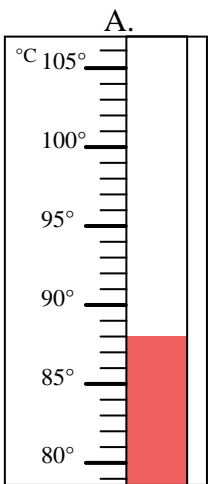


Indica quale lettera risponde correttamente ad ogni domanda.

- 1) Quale termometro rappresenta correttamente una temperatura di 45°? _____
- 2) Quale termometro rappresenta correttamente una temperatura di 97°? _____
- 3) Quale termometro rappresenta correttamente una temperatura di 100°? _____
- 4) Quale termometro rappresenta correttamente una temperatura di 39°? _____
- 5) Quale termometro rappresenta correttamente una temperatura di 88°? _____
- 6) Quale termometro rappresenta correttamente una temperatura di 88°? _____
- 7) Quale termometro rappresenta correttamente una temperatura di 31°? _____
- 8) Quale termometro rappresenta correttamente una temperatura di 85°? _____
- 9) Quale termometro rappresenta correttamente una temperatura di 40°? _____
- 10) Quale termometro rappresenta correttamente una temperatura di 43°? _____

Risposte

1. _____
2. _____
3. _____
4. _____
5. _____
6. _____
7. _____
8. _____
9. _____
10. _____





Indica quale lettera risponde correttamente ad ogni domanda.

- 1) Quale termometro rappresenta correttamente una temperatura di 45°? B
- 2) Quale termometro rappresenta correttamente una temperatura di 97°? C
- 3) Quale termometro rappresenta correttamente una temperatura di 100°? E
- 4) Quale termometro rappresenta correttamente una temperatura di 39°? I
- 5) Quale termometro rappresenta correttamente una temperatura di 88°? H
- 6) Quale termometro rappresenta correttamente una temperatura di 88°? A
- 7) Quale termometro rappresenta correttamente una temperatura di 31°? F
- 8) Quale termometro rappresenta correttamente una temperatura di 85°? G
- 9) Quale termometro rappresenta correttamente una temperatura di 40°? D
- 10) Quale termometro rappresenta correttamente una temperatura di 43°? J

Risposte

1. B
2. C
3. E
4. I
5. H
6. A
7. F
8. G
9. D
10. J

