

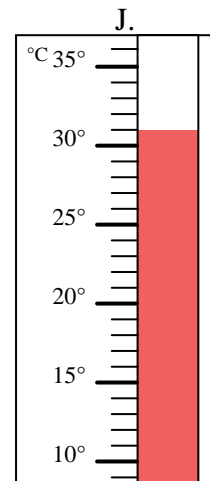
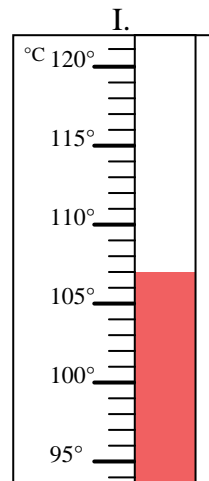
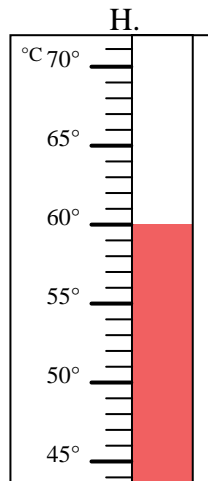
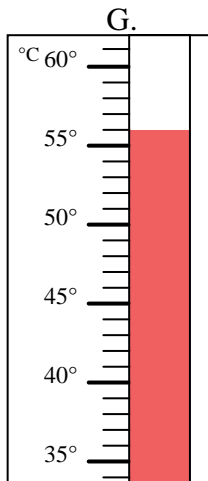
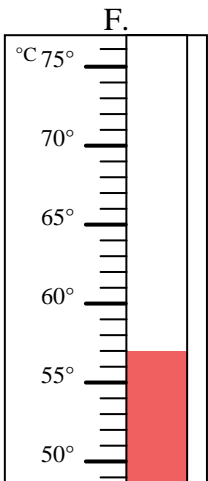
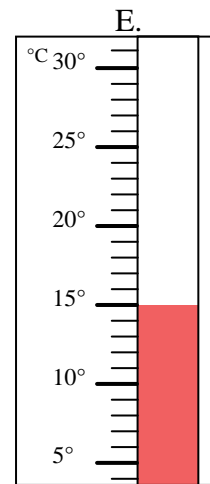
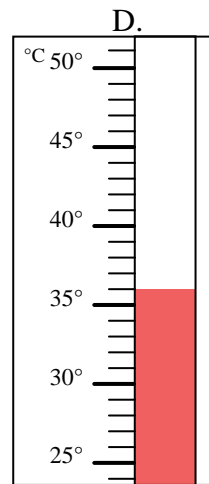
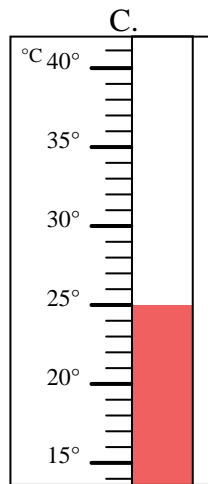
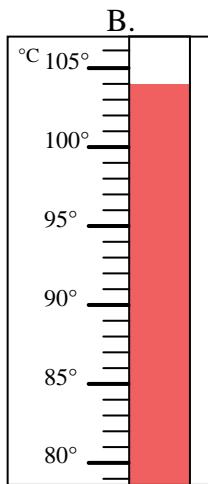
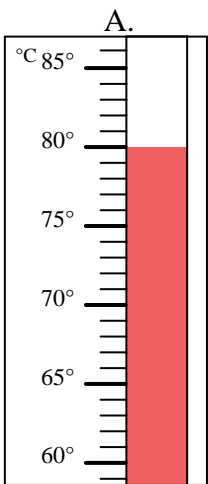


Indica quale lettera risponde correttamente ad ogni domanda.

Risposte

- 1) Quale termometro rappresenta correttamente una temperatura di 25°? _____
- 2) Quale termometro rappresenta correttamente una temperatura di 107°? _____
- 3) Quale termometro rappresenta correttamente una temperatura di 15°? _____
- 4) Quale termometro rappresenta correttamente una temperatura di 57°? _____
- 5) Quale termometro rappresenta correttamente una temperatura di 80°? _____
- 6) Quale termometro rappresenta correttamente una temperatura di 104°? _____
- 7) Quale termometro rappresenta correttamente una temperatura di 60°? _____
- 8) Quale termometro rappresenta correttamente una temperatura di 31°? _____
- 9) Quale termometro rappresenta correttamente una temperatura di 36°? _____
- 10) Quale termometro rappresenta correttamente una temperatura di 56°? _____

1. _____
2. _____
3. _____
4. _____
5. _____
6. _____
7. _____
8. _____
9. _____
10. _____





Indica quale lettera risponde correttamente ad ogni domanda.

- 1) Quale termometro rappresenta correttamente una temperatura di 25°? C
- 2) Quale termometro rappresenta correttamente una temperatura di 107°? I
- 3) Quale termometro rappresenta correttamente una temperatura di 15°? E
- 4) Quale termometro rappresenta correttamente una temperatura di 57°? F
- 5) Quale termometro rappresenta correttamente una temperatura di 80°? A
- 6) Quale termometro rappresenta correttamente una temperatura di 104°? B
- 7) Quale termometro rappresenta correttamente una temperatura di 60°? H
- 8) Quale termometro rappresenta correttamente una temperatura di 31°? J
- 9) Quale termometro rappresenta correttamente una temperatura di 36°? D
- 10) Quale termometro rappresenta correttamente una temperatura di 56°? G

Risposte

- 1. C
- 2. I
- 3. E
- 4. F
- 5. A
- 6. B
- 7. H
- 8. J
- 9. D
- 10. G

