

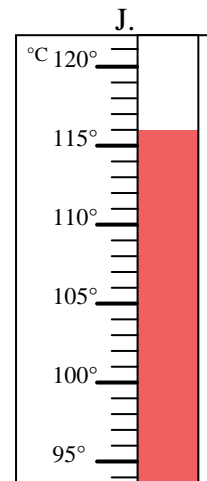
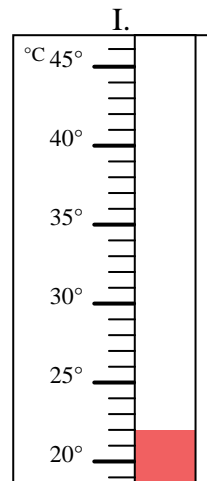
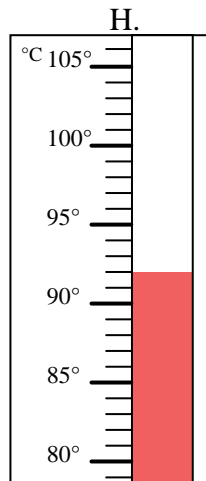
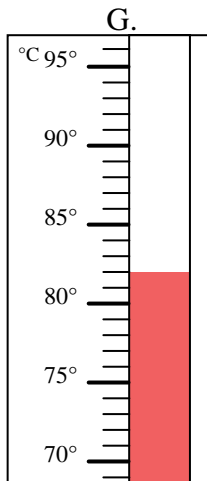
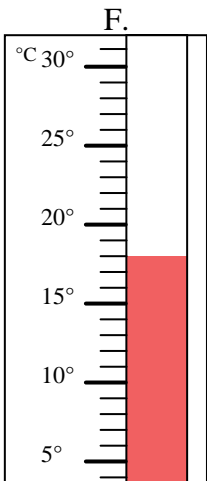
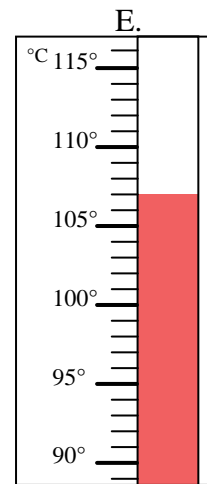
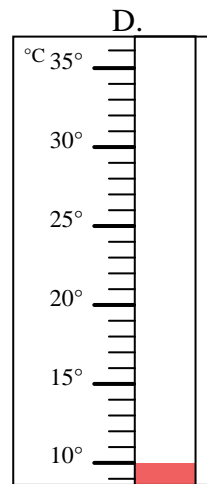
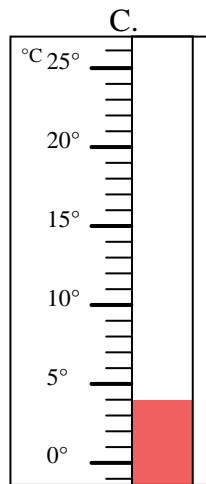
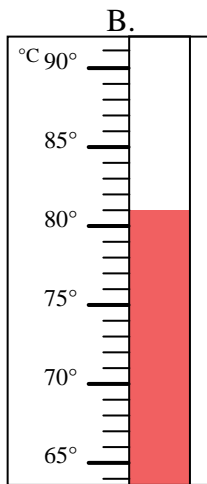
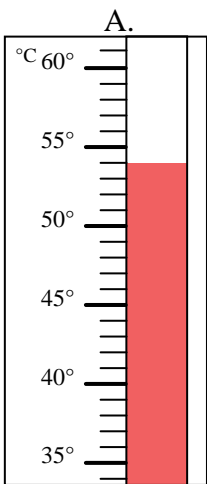


Indica quale lettera risponde correttamente ad ogni domanda.

Risposte

- 1) Quale termometro rappresenta correttamente una temperatura di 107°? _____
- 2) Quale termometro rappresenta correttamente una temperatura di 92°? _____
- 3) Quale termometro rappresenta correttamente una temperatura di 82°? _____
- 4) Quale termometro rappresenta correttamente una temperatura di 81°? _____
- 5) Quale termometro rappresenta correttamente una temperatura di 22°? _____
- 6) Quale termometro rappresenta correttamente una temperatura di 10°? _____
- 7) Quale termometro rappresenta correttamente una temperatura di 54°? _____
- 8) Quale termometro rappresenta correttamente una temperatura di 116°? _____
- 9) Quale termometro rappresenta correttamente una temperatura di 18°? _____
- 10) Quale termometro rappresenta correttamente una temperatura di 4°? _____

1. _____
2. _____
3. _____
4. _____
5. _____
6. _____
7. _____
8. _____
9. _____
10. _____





Indica quale lettera risponde correttamente ad ogni domanda.

- 1) Quale termometro rappresenta correttamente una temperatura di 107°? E
- 2) Quale termometro rappresenta correttamente una temperatura di 92°? H
- 3) Quale termometro rappresenta correttamente una temperatura di 82°? G
- 4) Quale termometro rappresenta correttamente una temperatura di 81°? B
- 5) Quale termometro rappresenta correttamente una temperatura di 22°? I
- 6) Quale termometro rappresenta correttamente una temperatura di 10°? D
- 7) Quale termometro rappresenta correttamente una temperatura di 54°? A
- 8) Quale termometro rappresenta correttamente una temperatura di 116°? J
- 9) Quale termometro rappresenta correttamente una temperatura di 18°? F
- 10) Quale termometro rappresenta correttamente una temperatura di 4°? C

Risposte

1. E
2. H
3. G
4. B
5. I
6. D
7. A
8. J
9. F
10. C

