

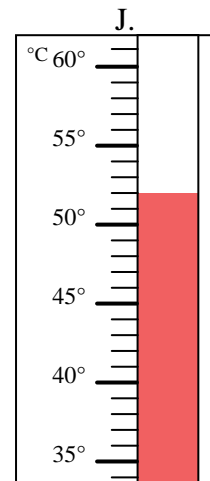
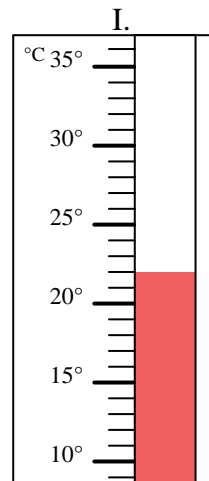
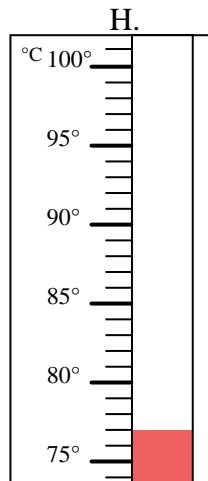
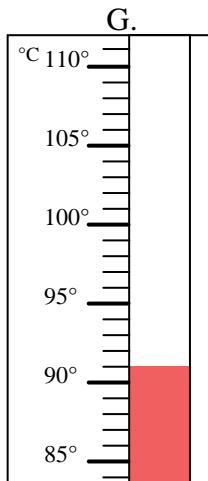
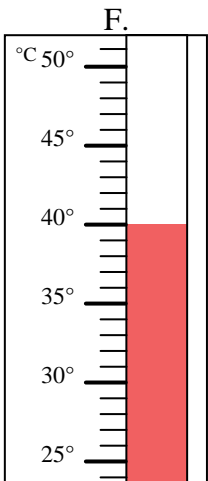
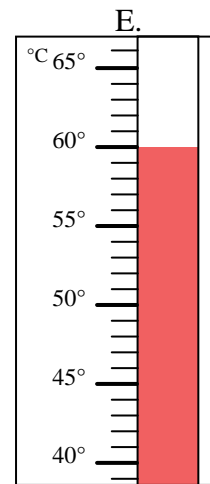
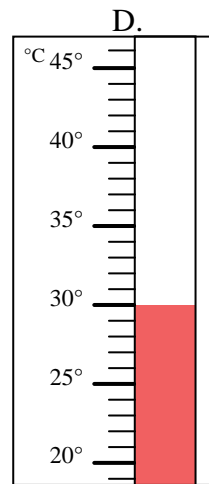
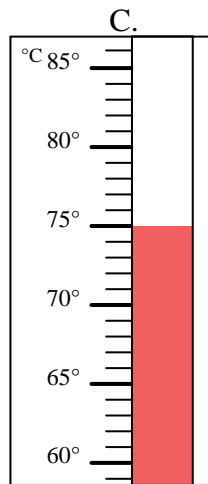
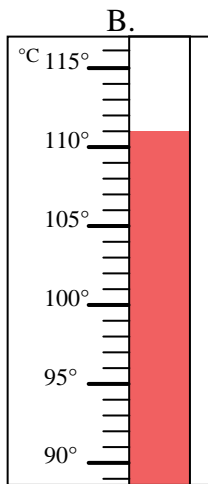
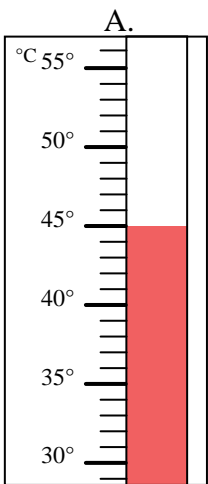


Indica quale lettera risponde correttamente ad ogni domanda.

- 1) Quale termometro rappresenta correttamente una temperatura di 60°? _____
- 2) Quale termometro rappresenta correttamente una temperatura di 91°? _____
- 3) Quale termometro rappresenta correttamente una temperatura di 52°? _____
- 4) Quale termometro rappresenta correttamente una temperatura di 75°? _____
- 5) Quale termometro rappresenta correttamente una temperatura di 40°? _____
- 6) Quale termometro rappresenta correttamente una temperatura di 30°? _____
- 7) Quale termometro rappresenta correttamente una temperatura di 77°? _____
- 8) Quale termometro rappresenta correttamente una temperatura di 45°? _____
- 9) Quale termometro rappresenta correttamente una temperatura di 22°? _____
- 10) Quale termometro rappresenta correttamente una temperatura di 111°? _____

Risposte

1. _____
2. _____
3. _____
4. _____
5. _____
6. _____
7. _____
8. _____
9. _____
10. _____





Indica quale lettera risponde correttamente ad ogni domanda.

- 1) Quale termometro rappresenta correttamente una temperatura di 60° ? E
- 2) Quale termometro rappresenta correttamente una temperatura di 91° ? G
- 3) Quale termometro rappresenta correttamente una temperatura di 52° ? J
- 4) Quale termometro rappresenta correttamente una temperatura di 75° ? C
- 5) Quale termometro rappresenta correttamente una temperatura di 40° ? F
- 6) Quale termometro rappresenta correttamente una temperatura di 30° ? D
- 7) Quale termometro rappresenta correttamente una temperatura di 77° ? H
- 8) Quale termometro rappresenta correttamente una temperatura di 45° ? A
- 9) Quale termometro rappresenta correttamente una temperatura di 22° ? I
- 10) Quale termometro rappresenta correttamente una temperatura di 111° ? B

Risposte

1. E
2. G
3. J
4. C
5. F
6. D
7. H
8. A
9. I
10. B

