

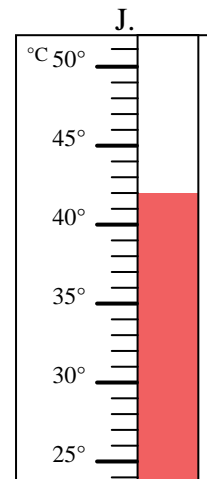
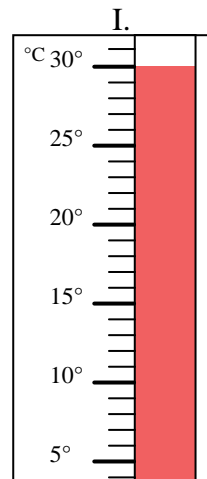
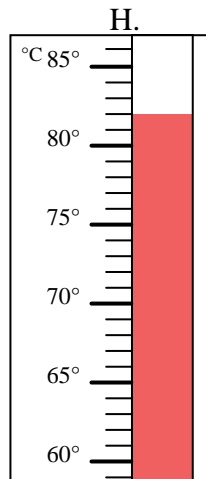
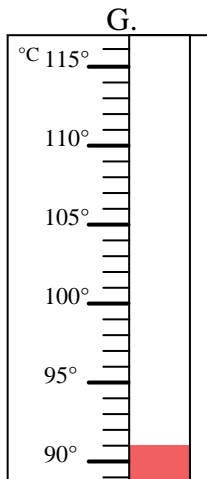
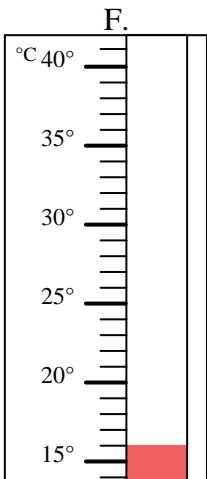
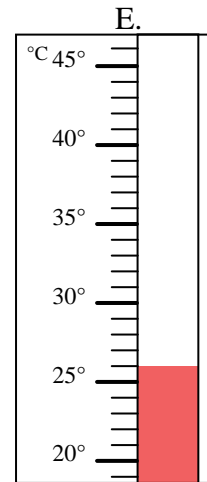
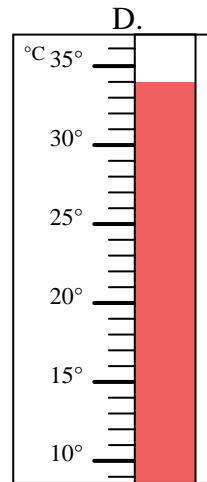
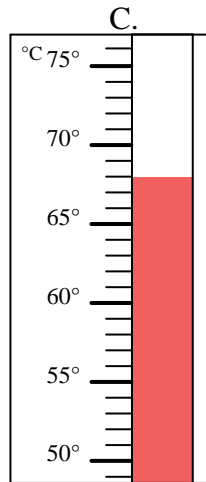
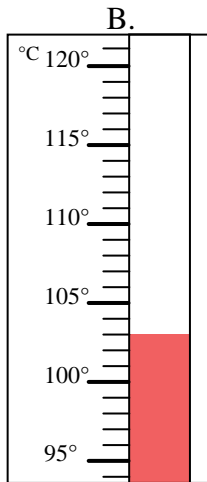
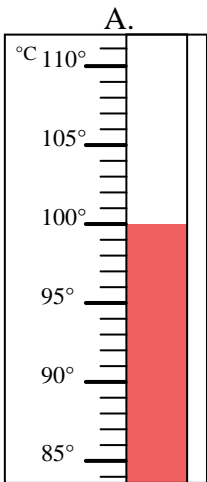


Indica quale lettera risponde correttamente ad ogni domanda.

- 1) Quale termometro rappresenta correttamente una temperatura di 100°? _____
- 2) Quale termometro rappresenta correttamente una temperatura di 103°? _____
- 3) Quale termometro rappresenta correttamente una temperatura di 26°? _____
- 4) Quale termometro rappresenta correttamente una temperatura di 91°? _____
- 5) Quale termometro rappresenta correttamente una temperatura di 34°? _____
- 6) Quale termometro rappresenta correttamente una temperatura di 16°? _____
- 7) Quale termometro rappresenta correttamente una temperatura di 68°? _____
- 8) Quale termometro rappresenta correttamente una temperatura di 42°? _____
- 9) Quale termometro rappresenta correttamente una temperatura di 82°? _____
- 10) Quale termometro rappresenta correttamente una temperatura di 30°? _____

Risposte

1. _____
2. _____
3. _____
4. _____
5. _____
6. _____
7. _____
8. _____
9. _____
10. _____





Indica quale lettera risponde correttamente ad ogni domanda.

- 1) Quale termometro rappresenta correttamente una temperatura di 100°? A
- 2) Quale termometro rappresenta correttamente una temperatura di 103°? B
- 3) Quale termometro rappresenta correttamente una temperatura di 26°? E
- 4) Quale termometro rappresenta correttamente una temperatura di 91°? G
- 5) Quale termometro rappresenta correttamente una temperatura di 34°? D
- 6) Quale termometro rappresenta correttamente una temperatura di 16°? F
- 7) Quale termometro rappresenta correttamente una temperatura di 68°? C
- 8) Quale termometro rappresenta correttamente una temperatura di 42°? J
- 9) Quale termometro rappresenta correttamente una temperatura di 82°? H
- 10) Quale termometro rappresenta correttamente una temperatura di 30°? I

Risposte

1. A
2. B
3. E
4. G
5. D
6. F
7. C
8. J
9. H
10. I

