

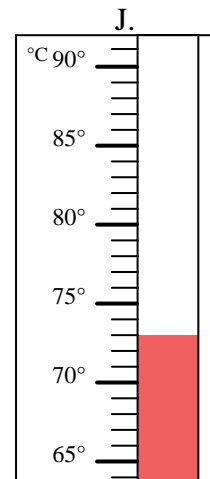
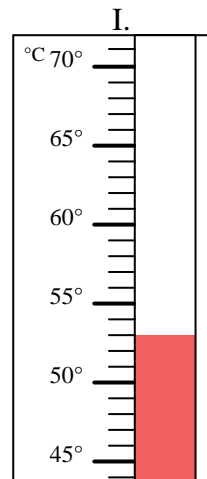
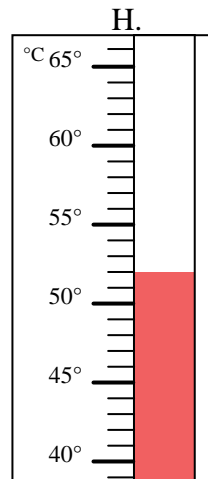
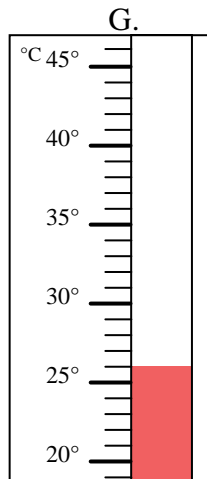
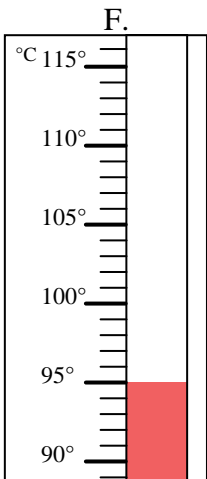
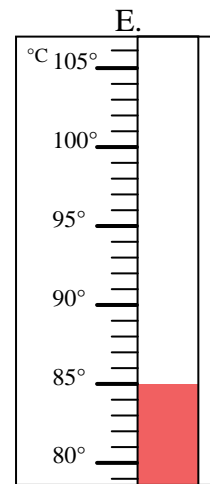
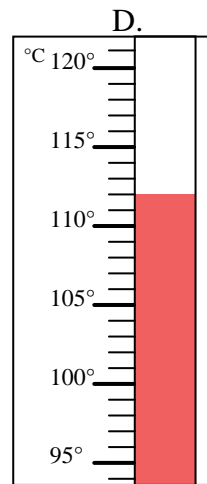
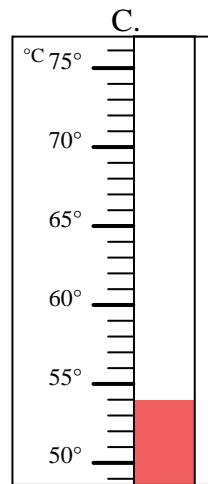
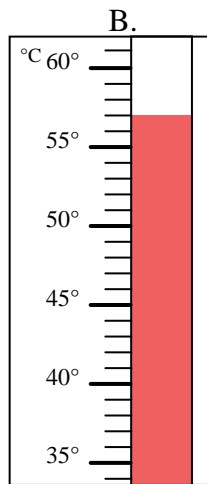
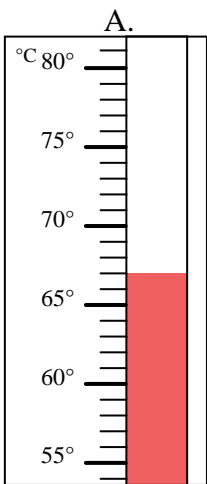


Indica quale lettera risponde correttamente ad ogni domanda.

- 1) Quale termometro rappresenta correttamente una temperatura di 73° ? _____
- 2) Quale termometro rappresenta correttamente una temperatura di 26° ? _____
- 3) Quale termometro rappresenta correttamente una temperatura di 53° ? _____
- 4) Quale termometro rappresenta correttamente una temperatura di 52° ? _____
- 5) Quale termometro rappresenta correttamente una temperatura di 95° ? _____
- 6) Quale termometro rappresenta correttamente una temperatura di 112° ? _____
- 7) Quale termometro rappresenta correttamente una temperatura di 67° ? _____
- 8) Quale termometro rappresenta correttamente una temperatura di 57° ? _____
- 9) Quale termometro rappresenta correttamente una temperatura di 54° ? _____
- 10) Quale termometro rappresenta correttamente una temperatura di 85° ? _____

Risposte

1. _____
2. _____
3. _____
4. _____
5. _____
6. _____
7. _____
8. _____
9. _____
10. _____





Indica quale lettera risponde correttamente ad ogni domanda.

- 1) Quale termometro rappresenta correttamente una temperatura di 73° ? J
- 2) Quale termometro rappresenta correttamente una temperatura di 26° ? G
- 3) Quale termometro rappresenta correttamente una temperatura di 53° ? I
- 4) Quale termometro rappresenta correttamente una temperatura di 52° ? H
- 5) Quale termometro rappresenta correttamente una temperatura di 95° ? F
- 6) Quale termometro rappresenta correttamente una temperatura di 112° ? D
- 7) Quale termometro rappresenta correttamente una temperatura di 67° ? A
- 8) Quale termometro rappresenta correttamente una temperatura di 57° ? B
- 9) Quale termometro rappresenta correttamente una temperatura di 54° ? C
- 10) Quale termometro rappresenta correttamente una temperatura di 85° ? E

Risposte

1. J
2. G
3. I
4. H
5. F
6. D
7. A
8. B
9. C
10. E

