

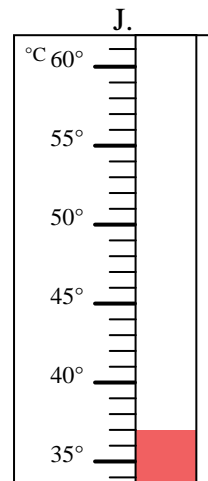
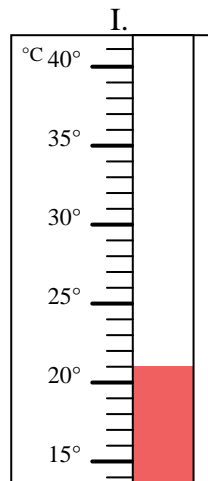
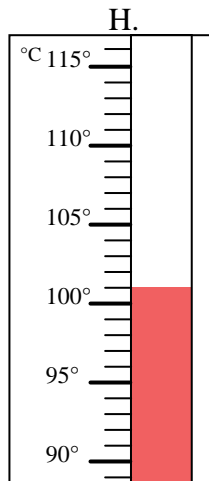
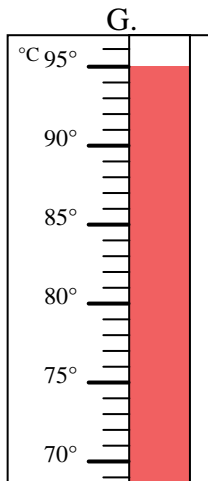
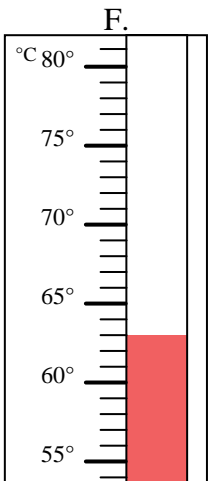
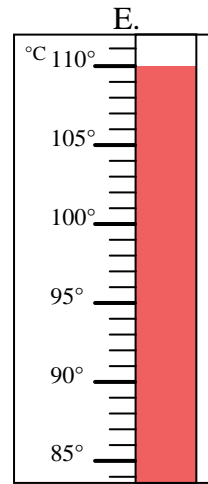
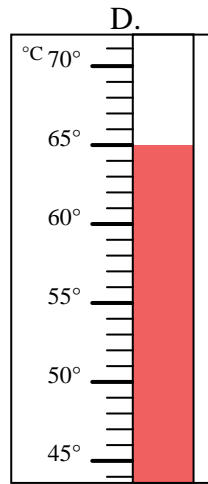
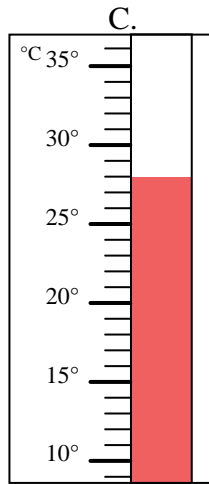
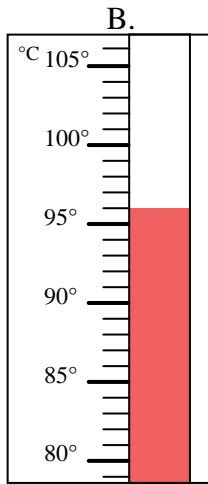
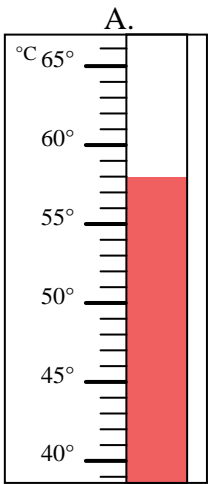


Indica quale lettera risponde correttamente ad ogni domanda.

**Risposte**

- 1) Quale termometro rappresenta correttamente una temperatura di 96°? \_\_\_\_\_
- 2) Quale termometro rappresenta correttamente una temperatura di 110°? \_\_\_\_\_
- 3) Quale termometro rappresenta correttamente una temperatura di 28°? \_\_\_\_\_
- 4) Quale termometro rappresenta correttamente una temperatura di 58°? \_\_\_\_\_
- 5) Quale termometro rappresenta correttamente una temperatura di 37°? \_\_\_\_\_
- 6) Quale termometro rappresenta correttamente una temperatura di 95°? \_\_\_\_\_
- 7) Quale termometro rappresenta correttamente una temperatura di 101°? \_\_\_\_\_
- 8) Quale termometro rappresenta correttamente una temperatura di 63°? \_\_\_\_\_
- 9) Quale termometro rappresenta correttamente una temperatura di 21°? \_\_\_\_\_
- 10) Quale termometro rappresenta correttamente una temperatura di 65°? \_\_\_\_\_

1. \_\_\_\_\_
2. \_\_\_\_\_
3. \_\_\_\_\_
4. \_\_\_\_\_
5. \_\_\_\_\_
6. \_\_\_\_\_
7. \_\_\_\_\_
8. \_\_\_\_\_
9. \_\_\_\_\_
10. \_\_\_\_\_





Indica quale lettera risponde correttamente ad ogni domanda.

- 1) Quale termometro rappresenta correttamente una temperatura di 96°? B
- 2) Quale termometro rappresenta correttamente una temperatura di 110°? E
- 3) Quale termometro rappresenta correttamente una temperatura di 28°? C
- 4) Quale termometro rappresenta correttamente una temperatura di 58°? A
- 5) Quale termometro rappresenta correttamente una temperatura di 37°? J
- 6) Quale termometro rappresenta correttamente una temperatura di 95°? G
- 7) Quale termometro rappresenta correttamente una temperatura di 101°? H
- 8) Quale termometro rappresenta correttamente una temperatura di 63°? F
- 9) Quale termometro rappresenta correttamente una temperatura di 21°? I
- 10) Quale termometro rappresenta correttamente una temperatura di 65°? D

**Risposte**

1. B
2. E
3. C
4. A
5. J
6. G
7. H
8. F
9. I
10. D

