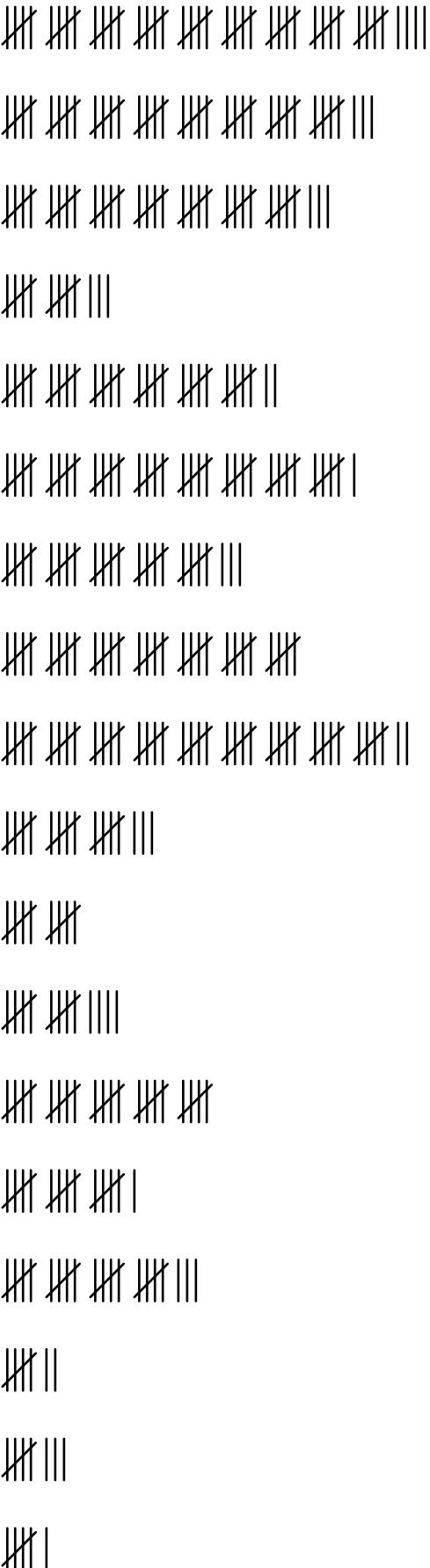

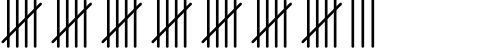



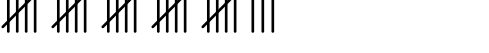

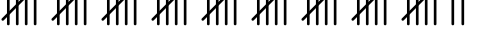













Determina il valore di ogni segno di conteggio.

Risposte

- 1) 
- 2) 
- 3) 
- 4) 
- 5) 
- 6) 
- 7) 
- 8) 
- 9) 
- 10) 
- 11) 
- 12) 
- 13) 
- 14) 
- 15) 
- 16) 
- 17) 
- 18) 

1. _____
2. _____
3. _____
4. _____
5. _____
6. _____
7. _____
8. _____
9. _____
10. _____
11. _____
12. _____
13. _____
14. _____
15. _____
16. _____
17. _____
18. _____



Determina il valore di ogni segno di conteggio.

- 1)
- 2)
- 3)
- 4)
- 5)
- 6)
- 7)
- 8)
- 9)
- 10)
- 11)
- 12)
- 13)
- 14)
- 15)
- 16)
- 17)
- 18)

Risposte

1. 49
2. 43
3. 38
4. 13
5. 32
6. 41
7. 28
8. 35
9. 47
10. 18
11. 10
12. 14
13. 25
14. 16
15. 23
16. 7
17. 8
18. 6