




Usa il modello grafico per risolvere ogni problema.

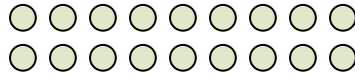
- 1) Queste sono le seguenti 18 cerchi.



Se ne devi togliere 10, quante ne rimangono??

$$18 - 10 = ?$$

- 2) Queste sono le seguenti 18 cerchi.



Se ne devi togliere 7, quante ne rimangono??

$$18 - 7 = ?$$

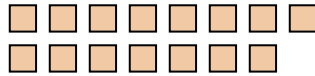
- 3) Queste sono le seguenti 8 triangoli.



Se ne devi togliere 3, quante ne rimangono??

$$8 - 3 = ?$$

- 4) Queste sono le seguenti 15 quadrati.



Se ne devi togliere 14, quante ne rimangono??

$$15 - 14 = ?$$

- 5) Queste sono le seguenti 2 pentagoni.



Se ne devi togliere 1, quante ne rimangono??

$$2 - 1 = ?$$

- 6) Queste sono le seguenti 7 esagoni.



Se ne devi togliere 5, quante ne rimangono??

$$7 - 5 = ?$$

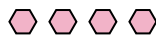
- 7) Queste sono le seguenti 3 stelle.



Se ne devi togliere 2, quante ne rimangono??

$$3 - 2 = ?$$

- 8) Queste sono le seguenti 4 esagoni.



Se ne devi togliere 2, quante ne rimangono??

$$4 - 2 = ?$$

- 9) Queste sono le seguenti 6 quadrati.



Se ne devi togliere 2, quante ne rimangono??

$$6 - 2 = ?$$

- 10) Queste sono le seguenti 20 stelle.



Se ne devi togliere 19, quante ne rimangono??

$$20 - 19 = ?$$

Risposte

1. _____

2. _____

3. _____

4. _____

5. _____

6. _____

7. _____

8. _____


9. _____

10. _____



Usa il modello grafico per risolvere ogni problema.

- 1) Queste sono le seguenti 18 cerchi.



Se ne devi togliere 10, quante ne rimangono??

$18 - 10 = ?$

- 3) Queste sono le seguenti 8 triangoli.



Se ne devi togliere 3, quante ne rimangono??

$8 - 3 = ?$

- 5) Queste sono le seguenti 2 pentagoni.



Se ne devi togliere 1, quante ne rimangono??

$2 - 1 = ?$

- 7) Queste sono le seguenti 3 stelle.



Se ne devi togliere 2, quante ne rimangono??

$3 - 2 = ?$

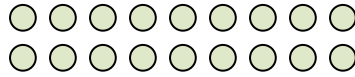
- 9) Queste sono le seguenti 6 quadrati.



Se ne devi togliere 2, quante ne rimangono??

$6 - 2 = ?$

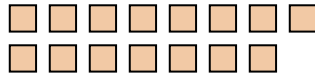
- 2) Queste sono le seguenti 18 cerchi.



Se ne devi togliere 7, quante ne rimangono??

$18 - 7 = ?$

- 4) Queste sono le seguenti 15 quadrati.



Se ne devi togliere 14, quante ne rimangono??

$15 - 14 = ?$

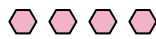
- 6) Queste sono le seguenti 7 esagoni.



Se ne devi togliere 5, quante ne rimangono??

$7 - 5 = ?$

- 8) Queste sono le seguenti 4 esagoni.



Se ne devi togliere 2, quante ne rimangono??

$4 - 2 = ?$

- 10) Queste sono le seguenti 20 stelle.



Se ne devi togliere 19, quante ne rimangono??

$20 - 19 = ?$

Risposte1. 82. 113. 54. 15. 16. 27. 18. 29. 410. 1