



Usa il modello grafico per risolvere ogni problema.

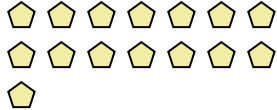
- 1) Queste sono le seguenti 11 pentagoni.



Se ne devi togliere 5, quante ne rimangono?

$$11 - 5 = ?$$

- 3) Queste sono le seguenti 15 pentagoni.



Se ne devi togliere 8, quante ne rimangono?

$$15 - 8 = ?$$

- 5) Queste sono le seguenti 7 cerchi.



Se ne devi togliere 3, quante ne rimangono?

$$7 - 3 = ?$$

- 7) Queste sono le seguenti 8 cerchi.



Se ne devi togliere 3, quante ne rimangono?

$$8 - 3 = ?$$

- 9) Queste sono le seguenti 10 stelle.



Se ne devi togliere 3, quante ne rimangono?

$$10 - 3 = ?$$

- 2) Queste sono le seguenti 2 stelle.



Se ne devi togliere 1, quante ne rimangono?

$$2 - 1 = ?$$

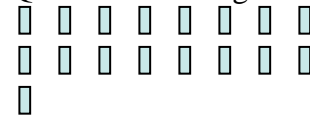
- 4) Queste sono le seguenti 4 esagoni.



Se ne devi togliere 1, quante ne rimangono?

$$4 - 1 = ?$$

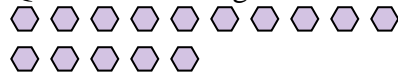
- 6) Queste sono le seguenti 17 rettangoli.



Se ne devi togliere 4, quante ne rimangono?

$$17 - 4 = ?$$

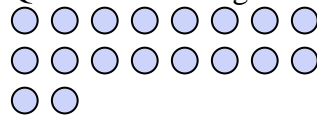
- 8) Queste sono le seguenti 15 esagoni.



Se ne devi togliere 11, quante ne rimangono?

$$15 - 11 = ?$$

- 10) Queste sono le seguenti 18 cerchi.



Se ne devi togliere 11, quante ne rimangono?

$$18 - 11 = ?$$

Risposte

1. _____

2. _____

3. _____

4. _____

5. _____

6. _____

7. _____

8. _____

9. _____

10. _____



Usa il modello grafico per risolvere ogni problema.

1) Queste sono le seguenti 11 pentagoni.



Se ne devi togliere 5, quante ne rimangono?

$11 - 5 = ?$

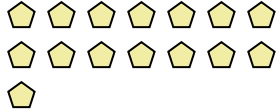
2) Queste sono le seguenti 2 stelle.



Se ne devi togliere 1, quante ne rimangono?

$2 - 1 = ?$

3) Queste sono le seguenti 15 pentagoni.



Se ne devi togliere 8, quante ne rimangono?

$15 - 8 = ?$

4) Queste sono le seguenti 4 esagoni.



Se ne devi togliere 1, quante ne rimangono?

$4 - 1 = ?$

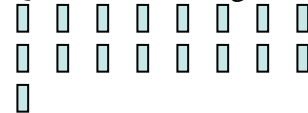
5) Queste sono le seguenti 7 cerchi.



Se ne devi togliere 3, quante ne rimangono?

$7 - 3 = ?$

6) Queste sono le seguenti 17 rettangoli.



Se ne devi togliere 4, quante ne rimangono?

$17 - 4 = ?$

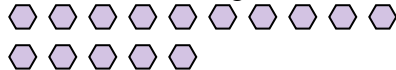
7) Queste sono le seguenti 8 cerchi.



Se ne devi togliere 3, quante ne rimangono?

$8 - 3 = ?$

8) Queste sono le seguenti 15 esagoni.



Se ne devi togliere 11, quante ne rimangono?

$15 - 11 = ?$

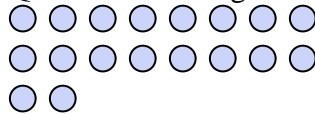
9) Queste sono le seguenti 10 stelle.



Se ne devi togliere 3, quante ne rimangono?

$10 - 3 = ?$

10) Queste sono le seguenti 18 cerchi.



Se ne devi togliere 11, quante ne rimangono?

$18 - 11 = ?$

Risposte

1. 6

2. 1

3. 7

4. 3

5. 4

6. 13

7. 5

8. 4

9. 7

10. 7