



Usa il modello grafico per risolvere ogni problema.

1) Queste sono le seguenti 6 rettangoli.



Se ne devi togliere 5, quante ne rimangono?

$6 - 5 = ?$

2) Queste sono le seguenti 18 stelle.



Se ne devi togliere 14, quante ne rimangono?

$18 - 14 = ?$

3) Queste sono le seguenti 9 pentagoni.



Se ne devi togliere 1, quante ne rimangono?

$9 - 1 = ?$

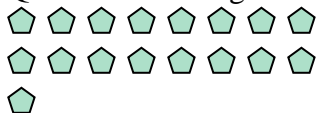
4) Queste sono le seguenti 10 quadrati.



Se ne devi togliere 3, quante ne rimangono?

$10 - 3 = ?$

5) Queste sono le seguenti 17 pentagoni.



Se ne devi togliere 10, quante ne rimangono?

$17 - 10 = ?$


6) Queste sono le seguenti 5 pentagoni.



Se ne devi togliere 3, quante ne rimangono?

$5 - 3 = ?$

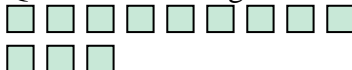
7) Queste sono le seguenti 19 pentagoni.



Se ne devi togliere 5, quante ne rimangono?

$19 - 5 = ?$

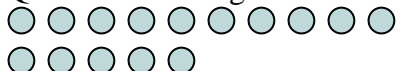
8) Queste sono le seguenti 12 quadrati.



Se ne devi togliere 7, quante ne rimangono?

$12 - 7 = ?$


9) Queste sono le seguenti 15 cerchi.



Se ne devi togliere 3, quante ne rimangono?

$15 - 3 = ?$

10) Queste sono le seguenti 13 rettangoli.



Se ne devi togliere 6, quante ne rimangono?

$13 - 6 = ?$

**Risposte**

1. \_\_\_\_\_

2. \_\_\_\_\_

3. \_\_\_\_\_

4. \_\_\_\_\_

5. \_\_\_\_\_

6. \_\_\_\_\_

7. \_\_\_\_\_

8. \_\_\_\_\_

9. \_\_\_\_\_

10. \_\_\_\_\_



Usa il modello grafico per risolvere ogni problema.

1) Queste sono le seguenti 6 rettangoli.



Se ne devi togliere 5, quante ne rimangono?

$6 - 5 = ?$

2) Queste sono le seguenti 18 stelle.



Se ne devi togliere 14, quante ne rimangono?

$18 - 14 = ?$

3) Queste sono le seguenti 9 pentagoni.



Se ne devi togliere 1, quante ne rimangono?

$9 - 1 = ?$

4) Queste sono le seguenti 10 quadrati.



Se ne devi togliere 3, quante ne rimangono?

$10 - 3 = ?$

5) Queste sono le seguenti 17 pentagoni.



Se ne devi togliere 10, quante ne rimangono?

$17 - 10 = ?$

6) Queste sono le seguenti 5 pentagoni.



Se ne devi togliere 3, quante ne rimangono?

$5 - 3 = ?$

7) Queste sono le seguenti 19 pentagoni.



Se ne devi togliere 5, quante ne rimangono?

$19 - 5 = ?$

8) Queste sono le seguenti 12 quadrati.



Se ne devi togliere 7, quante ne rimangono?

$12 - 7 = ?$

9) Queste sono le seguenti 15 cerchi.



Se ne devi togliere 3, quante ne rimangono?

$15 - 3 = ?$

10) Queste sono le seguenti 13 rettangoli.



Se ne devi togliere 6, quante ne rimangono?

$13 - 6 = ?$

Risposte

1. 1

2. 4

3. 8

4. 7

5. 7

6. 2

7. 14

8. 5

9. 12

10. 7