



Usa il modello grafico per risolvere ogni problema.

1) Queste sono le seguenti 4 rettangoli.



Se ne devi togliere 3, quante ne rimangono?

$4 - 3 = ?$

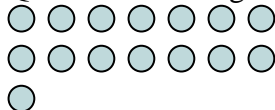
2) Queste sono le seguenti 9 quadrati.



Se ne devi togliere 7, quante ne rimangono?

$9 - 7 = ?$

3) Queste sono le seguenti 15 cerchi.



Se ne devi togliere 10, quante ne rimangono?

$15 - 10 = ?$

4) Queste sono le seguenti 13 triangoli.



Se ne devi togliere 6, quante ne rimangono?

$13 - 6 = ?$

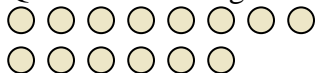
5) Queste sono le seguenti 16 quadrati.



Se ne devi togliere 4, quante ne rimangono?

$16 - 4 = ?$

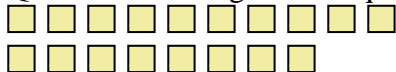
6) Queste sono le seguenti 14 cerchi.



Se ne devi togliere 3, quante ne rimangono?

$14 - 3 = ?$

7) Queste sono le seguenti 18 quadrati.



Se ne devi togliere 9, quante ne rimangono?

$18 - 9 = ?$

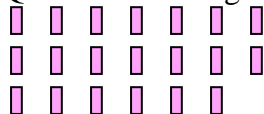
8) Queste sono le seguenti 4 triangoli.



Se ne devi togliere 2, quante ne rimangono?

$4 - 2 = ?$

9) Queste sono le seguenti 20 rettangoli.



Se ne devi togliere 3, quante ne rimangono?

$20 - 3 = ?$

10) Queste sono le seguenti 15 stelle.



Se ne devi togliere 1, quante ne rimangono?

$15 - 1 = ?$

Risposte

1. _____

2. _____

3. _____

4. _____

5. _____

6. _____

7. _____

8. _____

9. _____

10. _____



Usa il modello grafico per risolvere ogni problema.

- 1) Queste sono le seguenti 4 rettangoli.



Se ne devi togliere 3, quante ne rimangono?

$4 - 3 = ?$

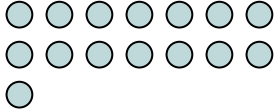
- 2) Queste sono le seguenti 9 quadrati.



Se ne devi togliere 7, quante ne rimangono?

$9 - 7 = ?$

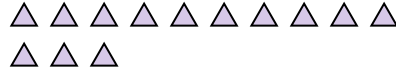
- 3) Queste sono le seguenti 15 cerchi.



Se ne devi togliere 10, quante ne rimangono?

$15 - 10 = ?$

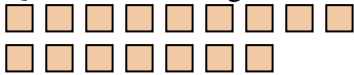
- 4) Queste sono le seguenti 13 triangoli.



Se ne devi togliere 6, quante ne rimangono?

$13 - 6 = ?$

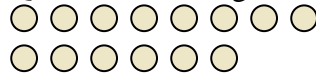
- 5) Queste sono le seguenti 16 quadrati.



Se ne devi togliere 4, quante ne rimangono?

$16 - 4 = ?$

- 6) Queste sono le seguenti 14 cerchi.



Se ne devi togliere 3, quante ne rimangono?

$14 - 3 = ?$

- 7) Queste sono le seguenti 18 quadrati.



Se ne devi togliere 9, quante ne rimangono?

$18 - 9 = ?$

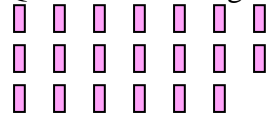
- 8) Queste sono le seguenti 4 triangoli.



Se ne devi togliere 2, quante ne rimangono?

$4 - 2 = ?$

- 9) Queste sono le seguenti 20 rettangoli.



Se ne devi togliere 3, quante ne rimangono?

$20 - 3 = ?$

- 10) Queste sono le seguenti 15 stelle.



Se ne devi togliere 1, quante ne rimangono?

$15 - 1 = ?$

Risposte1. 12. 23. 54. 75. 126. 117. 98. 29. 1710. 14