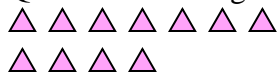




Usa il modello grafico per risolvere ogni problema.

1) Queste sono le seguenti 11 triangoli.



Se ne devi togliere 3, quante ne rimangono?

$$11 - 3 = ?$$

2) Queste sono le seguenti 7 triangoli.



Se ne devi togliere 4, quante ne rimangono?

$$7 - 4 = ?$$

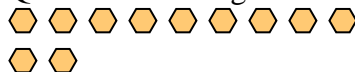
3) Queste sono le seguenti 8 rettangoli.



Se ne devi togliere 3, quante ne rimangono?

$$8 - 3 = ?$$

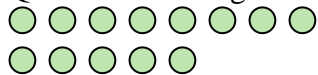
4) Queste sono le seguenti 11 esagoni.



Se ne devi togliere 6, quante ne rimangono?

$$11 - 6 = ?$$

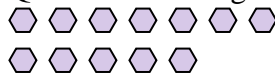
5) Queste sono le seguenti 13 cerchi.



Se ne devi togliere 3, quante ne rimangono?

$$13 - 3 = ?$$

6) Queste sono le seguenti 12 esagoni.



Se ne devi togliere 9, quante ne rimangono?

$$12 - 9 = ?$$

7) Queste sono le seguenti 7 quadrati.



Se ne devi togliere 5, quante ne rimangono?

$$7 - 5 = ?$$

8) Queste sono le seguenti 7 quadrati.



Se ne devi togliere 3, quante ne rimangono?

$$7 - 3 = ?$$

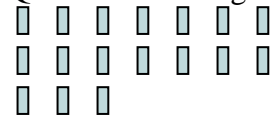
9) Queste sono le seguenti 4 pentagoni.



Se ne devi togliere 3, quante ne rimangono?

$$4 - 3 = ?$$

10) Queste sono le seguenti 17 rettangoli.



Se ne devi togliere 8, quante ne rimangono?

$$17 - 8 = ?$$

**Risposte**

1. \_\_\_\_\_

2. \_\_\_\_\_

3. \_\_\_\_\_

4. \_\_\_\_\_

5. \_\_\_\_\_

6. \_\_\_\_\_

7. \_\_\_\_\_

8. \_\_\_\_\_

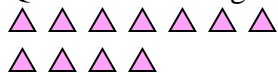
9. \_\_\_\_\_

10. \_\_\_\_\_



Usa il modello grafico per risolvere ogni problema.

1) Queste sono le seguenti 11 triangoli.



Se ne devi togliere 3, quante ne rimangono?

$11 - 3 = ?$

2) Queste sono le seguenti 7 triangoli.



Se ne devi togliere 4, quante ne rimangono?

$7 - 4 = ?$

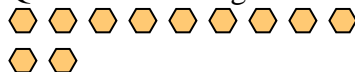
3) Queste sono le seguenti 8 rettangoli.



Se ne devi togliere 3, quante ne rimangono?

$8 - 3 = ?$

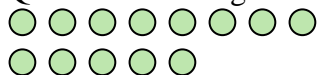
4) Queste sono le seguenti 11 esagoni.



Se ne devi togliere 6, quante ne rimangono?

$11 - 6 = ?$

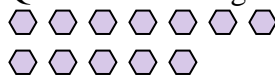
5) Queste sono le seguenti 13 cerchi.



Se ne devi togliere 3, quante ne rimangono?

$13 - 3 = ?$

6) Queste sono le seguenti 12 esagoni.



Se ne devi togliere 9, quante ne rimangono?

$12 - 9 = ?$

7) Queste sono le seguenti 7 quadrati.



Se ne devi togliere 5, quante ne rimangono?

$7 - 5 = ?$

8) Queste sono le seguenti 7 quadrati.



Se ne devi togliere 3, quante ne rimangono?

$7 - 3 = ?$

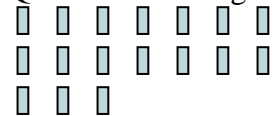
9) Queste sono le seguenti 4 pentagoni.



Se ne devi togliere 3, quante ne rimangono?

$4 - 3 = ?$

10) Queste sono le seguenti 17 rettangoli.



Se ne devi togliere 8, quante ne rimangono?

$17 - 8 = ?$

**Risposte**1. 82. 33. 54. 55. 106. 37. 28. 49. 110. 9