



Usa il modello grafico per risolvere ogni problema.

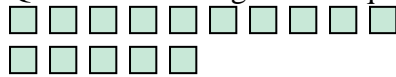
1) Queste sono le seguenti 4 stelle.



Se ne devi togliere 3, quante ne rimangono?

$$4 - 3 = ?$$

2) Queste sono le seguenti 15 quadrati.



Se ne devi togliere 4, quante ne rimangono?

$$15 - 4 = ?$$

3) Queste sono le seguenti 6 triangoli.



Se ne devi togliere 3, quante ne rimangono?

$$6 - 3 = ?$$

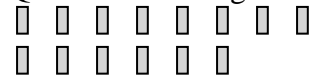
4) Queste sono le seguenti 10 rettangoli.



Se ne devi togliere 1, quante ne rimangono?

$$10 - 1 = ?$$

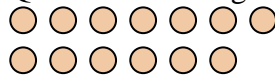
5) Queste sono le seguenti 14 rettangoli.



Se ne devi togliere 1, quante ne rimangono?

$$14 - 1 = ?$$

6) Queste sono le seguenti 13 cerchi.



Se ne devi togliere 11, quante ne rimangono?

$$13 - 11 = ?$$


7) Queste sono le seguenti 16 stelle.



Se ne devi togliere 9, quante ne rimangono?

$$16 - 9 = ?$$

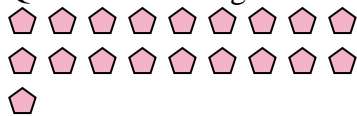
8) Queste sono le seguenti 19 cerchi.



Se ne devi togliere 2, quante ne rimangono?

$$19 - 2 = ?$$

9) Queste sono le seguenti 19 pentagoni.



Se ne devi togliere 15, quante ne rimangono?

$$19 - 15 = ?$$

10) Queste sono le seguenti 4 cerchi.



Se ne devi togliere 2, quante ne rimangono?

$$4 - 2 = ?$$

Risposte

1. _____

2. _____

3. _____

4. _____

5. _____

6. _____

7. _____

8. _____

9. _____

10. _____



Usa il modello grafico per risolvere ogni problema.

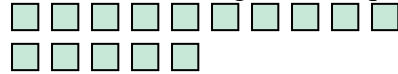
1) Queste sono le seguenti 4 stelle.



Se ne devi togliere 3, quante ne rimangono?

$4 - 3 = ?$

2) Queste sono le seguenti 15 quadrati.



Se ne devi togliere 4, quante ne rimangono?

$15 - 4 = ?$

3) Queste sono le seguenti 6 triangoli.



Se ne devi togliere 3, quante ne rimangono?

$6 - 3 = ?$

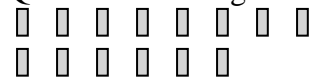
4) Queste sono le seguenti 10 rettangoli.



Se ne devi togliere 1, quante ne rimangono?

$10 - 1 = ?$

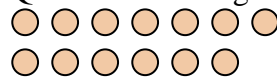
5) Queste sono le seguenti 14 rettangoli.



Se ne devi togliere 1, quante ne rimangono?

$14 - 1 = ?$

6) Queste sono le seguenti 13 cerchi.



Se ne devi togliere 11, quante ne rimangono?

$13 - 11 = ?$


7) Queste sono le seguenti 16 stelle.



Se ne devi togliere 9, quante ne rimangono?

$16 - 9 = ?$

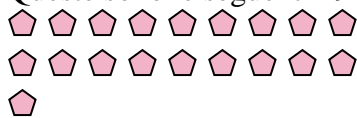
8) Queste sono le seguenti 19 cerchi.



Se ne devi togliere 2, quante ne rimangono?

$19 - 2 = ?$

9) Queste sono le seguenti 19 pentagoni.



Se ne devi togliere 15, quante ne rimangono?

$19 - 15 = ?$

10) Queste sono le seguenti 4 cerchi.



Se ne devi togliere 2, quante ne rimangono?

$4 - 2 = ?$

Risposte1. 12. 113. 34. 95. 136. 27. 78. 179. 410. 2