



Usa il modello grafico per risolvere ogni problema.

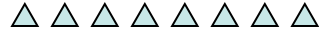
- 1) Queste sono le seguenti 6 pentagoni.



Se ne devi togliere 2, quante ne rimangono?

$$6 - 2 = ?$$

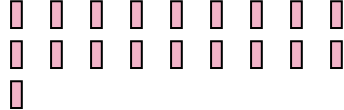
- 2) Queste sono le seguenti 8 triangoli.



Se ne devi togliere 3, quante ne rimangono?

$$8 - 3 = ?$$

- 3) Queste sono le seguenti 19 rettangoli.



Se ne devi togliere 17, quante ne rimangono?

$$19 - 17 = ?$$

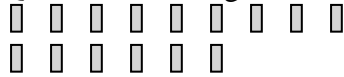
- 4) Queste sono le seguenti 11 stelle.



Se ne devi togliere 6, quante ne rimangono?

$$11 - 6 = ?$$

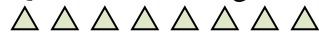
- 5) Queste sono le seguenti 15 rettangoli.



Se ne devi togliere 1, quante ne rimangono?

$$15 - 1 = ?$$

- 6) Queste sono le seguenti 19 triangoli.



Se ne devi togliere 12, quante ne rimangono?

$$19 - 12 = ?$$

- 7) Queste sono le seguenti 5 rettangoli.



Se ne devi togliere 3, quante ne rimangono?

$$5 - 3 = ?$$

- 8) Queste sono le seguenti 10 esagoni.



Se ne devi togliere 7, quante ne rimangono?

$$10 - 7 = ?$$

- 9) Queste sono le seguenti 15 pentagoni.



Se ne devi togliere 5, quante ne rimangono?

$$15 - 5 = ?$$

- 10) Queste sono le seguenti 7 cerchi.



Se ne devi togliere 1, quante ne rimangono?

$$7 - 1 = ?$$

Risposte

1. _____

2. _____

3. _____

4. _____

5. _____

6. _____

7. _____

8. _____

9. _____

10. _____



Usa il modello grafico per risolvere ogni problema.

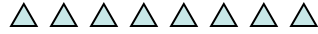
- 1) Queste sono le seguenti 6 pentagoni.



Se ne devi togliere 2, quante ne rimangono?

$6 - 2 = ?$

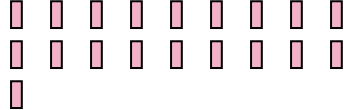
- 2) Queste sono le seguenti 8 triangoli.



Se ne devi togliere 3, quante ne rimangono?

$8 - 3 = ?$

- 3) Queste sono le seguenti 19 rettangoli.



Se ne devi togliere 17, quante ne rimangono?

$19 - 17 = ?$

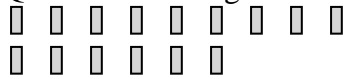
- 4) Queste sono le seguenti 11 stelle.



Se ne devi togliere 6, quante ne rimangono?

$11 - 6 = ?$

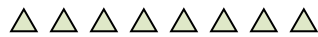
- 5) Queste sono le seguenti 15 rettangoli.



Se ne devi togliere 1, quante ne rimangono?

$15 - 1 = ?$

- 6) Queste sono le seguenti 19 triangoli.



Se ne devi togliere 12, quante ne rimangono?

$19 - 12 = ?$

- 7) Queste sono le seguenti 5 rettangoli.



Se ne devi togliere 3, quante ne rimangono?

$5 - 3 = ?$

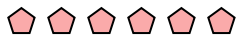
- 8) Queste sono le seguenti 10 esagoni.



Se ne devi togliere 7, quante ne rimangono?

$10 - 7 = ?$

- 9) Queste sono le seguenti 15 pentagoni.



Se ne devi togliere 5, quante ne rimangono?

$15 - 5 = ?$

- 10) Queste sono le seguenti 7 cerchi.



Se ne devi togliere 1, quante ne rimangono?

$7 - 1 = ?$

Risposte1. 42. 53. 24. 55. 146. 77. 28. 39. 1010. 6