



Usa il modello grafico per risolvere ogni problema.

- 1) Queste sono le seguenti 6 cerchi.



Se ne devi togliere 5, quante ne rimangono?

$$6 - 5 = ?$$

- 2) Queste sono le seguenti 6 pentagoni.



Se ne devi togliere 2, quante ne rimangono?

$$6 - 2 = ?$$

- 3) Queste sono le seguenti 4 esagoni.



Se ne devi togliere 3, quante ne rimangono?

$$4 - 3 = ?$$

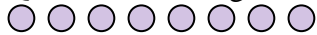
- 4) Queste sono le seguenti 9 pentagoni.



Se ne devi togliere 3, quante ne rimangono?

$$9 - 3 = ?$$

- 5) Queste sono le seguenti 15 cerchi.



Se ne devi togliere 2, quante ne rimangono?

$$15 - 2 = ?$$

- 6) Queste sono le seguenti 12 stelle.



Se ne devi togliere 8, quante ne rimangono?

$$12 - 8 = ?$$

- 7) Queste sono le seguenti 2 rettangoli.



Se ne devi togliere 1, quante ne rimangono?

$$2 - 1 = ?$$

- 8) Queste sono le seguenti 7 esagoni.



Se ne devi togliere 6, quante ne rimangono?

$$7 - 6 = ?$$

- 9) Queste sono le seguenti 12 stelle.



Se ne devi togliere 6, quante ne rimangono?

$$12 - 6 = ?$$

- 10) Queste sono le seguenti 11 stelle.



Se ne devi togliere 10, quante ne rimangono?

$$11 - 10 = ?$$

Risposte

1. _____

2. _____

3. _____

4. _____

5. _____

6. _____

7. _____

8. _____

9. _____

10. _____



Usa il modello grafico per risolvere ogni problema.

- 1) Queste sono le seguenti 6 cerchi.



Se ne devi togliere 5, quante ne rimangono?

$$6 - 5 = ?$$

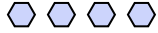
- 2) Queste sono le seguenti 6 pentagoni.



Se ne devi togliere 2, quante ne rimangono?

$$6 - 2 = ?$$

- 3) Queste sono le seguenti 4 esagoni.



Se ne devi togliere 3, quante ne rimangono?

$$4 - 3 = ?$$


- 4) Queste sono le seguenti 9 pentagoni.



Se ne devi togliere 3, quante ne rimangono?

$$9 - 3 = ?$$

- 5) Queste sono le seguenti 15 cerchi.



Se ne devi togliere 2, quante ne rimangono?

$$15 - 2 = ?$$

- 6) Queste sono le seguenti 12 stelle.



Se ne devi togliere 8, quante ne rimangono?

$$12 - 8 = ?$$

- 7) Queste sono le seguenti 2 rettangoli.



Se ne devi togliere 1, quante ne rimangono?

$$2 - 1 = ?$$

- 8) Queste sono le seguenti 7 esagoni.



Se ne devi togliere 6, quante ne rimangono?

$$7 - 6 = ?$$

- 9) Queste sono le seguenti 12 stelle.



Se ne devi togliere 6, quante ne rimangono?

$$12 - 6 = ?$$

- 10) Queste sono le seguenti 11 stelle.



Se ne devi togliere 10, quante ne rimangono?

$$11 - 10 = ?$$

Risposte

1. 1

2. 4

3. 1

4. 6

5. 13

6. 4

7. 1

8. 1

9. 6

10. 1