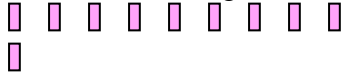




Usa il modello grafico per risolvere ogni problema.

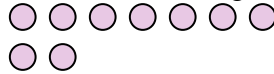
1) Queste sono le seguenti 10 rettangoli.



Se ne devi togliere 2, quante ne rimangono?

$10 - 2 = ?$

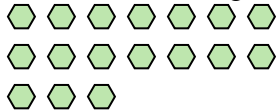
2) Queste sono le seguenti 9 cerchi.



Se ne devi togliere 1, quante ne rimangono?

$9 - 1 = ?$

3) Queste sono le seguenti 17 esagoni.



Se ne devi togliere 16, quante ne rimangono?

$17 - 16 = ?$

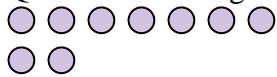
4) Queste sono le seguenti 17 stelle.



Se ne devi togliere 2, quante ne rimangono?

$17 - 2 = ?$

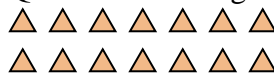
5) Queste sono le seguenti 9 cerchi.



Se ne devi togliere 7, quante ne rimangono?

$9 - 7 = ?$

6) Queste sono le seguenti 14 triangoli.



Se ne devi togliere 1, quante ne rimangono?

$14 - 1 = ?$

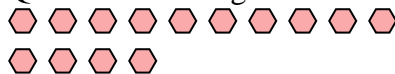
7) Queste sono le seguenti 3 triangoli.



Se ne devi togliere 1, quante ne rimangono?

$3 - 1 = ?$

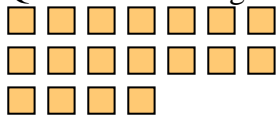
8) Queste sono le seguenti 14 esagoni.



Se ne devi togliere 12, quante ne rimangono?

$14 - 12 = ?$

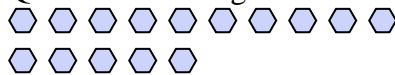
9) Queste sono le seguenti 18 quadrati.



Se ne devi togliere 12, quante ne rimangono?

$18 - 12 = ?$

10) Queste sono le seguenti 15 esagoni.



Se ne devi togliere 6, quante ne rimangono?

$15 - 6 = ?$

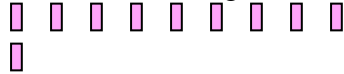
Risposte

1. _____
2. _____
3. _____
4. _____
5. _____
6. _____
7. _____
8. _____
9. _____
10. _____



Usa il modello grafico per risolvere ogni problema.

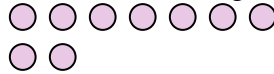
1) Queste sono le seguenti 10 rettangoli.



Se ne devi togliere 2, quante ne rimangono?

$10 - 2 = ?$

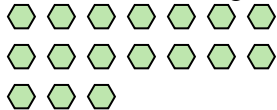
2) Queste sono le seguenti 9 cerchi.



Se ne devi togliere 1, quante ne rimangono?

$9 - 1 = ?$

3) Queste sono le seguenti 17 esagoni.



Se ne devi togliere 16, quante ne rimangono?

$17 - 16 = ?$

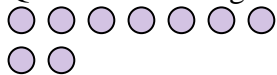
4) Queste sono le seguenti 17 stelle.



Se ne devi togliere 2, quante ne rimangono?

$17 - 2 = ?$

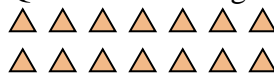
5) Queste sono le seguenti 9 cerchi.



Se ne devi togliere 7, quante ne rimangono?

$9 - 7 = ?$

6) Queste sono le seguenti 14 triangoli.



Se ne devi togliere 1, quante ne rimangono?

$14 - 1 = ?$

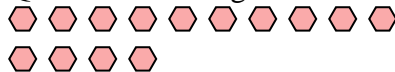
7) Queste sono le seguenti 3 triangoli.



Se ne devi togliere 1, quante ne rimangono?

$3 - 1 = ?$

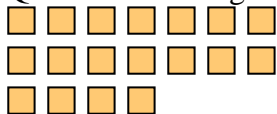
8) Queste sono le seguenti 14 esagoni.



Se ne devi togliere 12, quante ne rimangono?

$14 - 12 = ?$

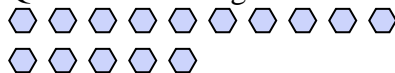
9) Queste sono le seguenti 18 quadrati.



Se ne devi togliere 12, quante ne rimangono?

$18 - 12 = ?$

10) Queste sono le seguenti 15 esagoni.



Se ne devi togliere 6, quante ne rimangono?

$15 - 6 = ?$

Risposte

1. 8

2. 8

3. 1

4. 15

5. 2

6. 13

7. 2

8. 2

9. 6

10. 9