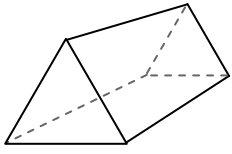




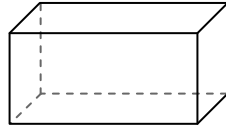
Usa il diagramma per identificare le facce, i vertici e le superfici delle forme

**Risposte**



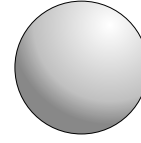
prisma triangolare

- 1) facce: \_\_\_\_\_
- 2) vertici: \_\_\_\_\_
- 3) lati: \_\_\_\_\_



prisma rettangolare

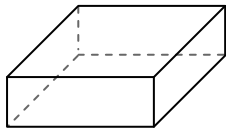
- 4) facce: \_\_\_\_\_
- 5) vertici: \_\_\_\_\_
- 6) lati: \_\_\_\_\_



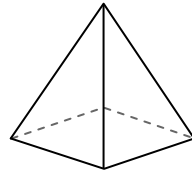
sfera

- 7) facce: \_\_\_\_\_
- 8) vertici: \_\_\_\_\_
- 9) lati: \_\_\_\_\_

- 1. \_\_\_\_\_
- 2. \_\_\_\_\_
- 3. \_\_\_\_\_
- 4. \_\_\_\_\_
- 5. \_\_\_\_\_
- 6. \_\_\_\_\_
- 7. \_\_\_\_\_
- 8. \_\_\_\_\_
- 9. \_\_\_\_\_
- 10. \_\_\_\_\_
- 11. \_\_\_\_\_
- 12. \_\_\_\_\_

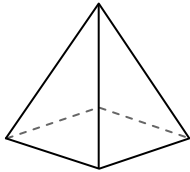


prisma rettangolare

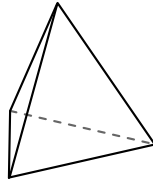


piramide rettangolare

- 10) Quale forma ha più facce?
- A. prisma rettangolare
  - B. piramide rettangolare
  - C. Entrambi hanno lo stesso numero di facce.

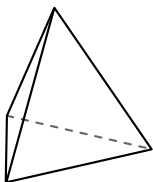


piramide rettangolare

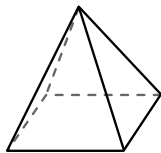


piramide triangolare

- 11) Quale forma ha più vertici?
- A. piramide rettangolare
  - B. piramide triangolare
  - C. Entrambi hanno lo stesso numero di vertici.



piramide triangolare

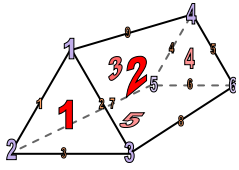


piramide rettangolare

- 12) Quale forma ha più lati?
- A. piramide triangolare
  - B. piramide rettangolare
  - C. Entrambi hanno lo stesso numero di lati.

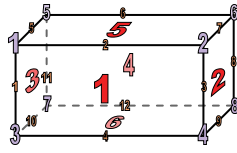


Usa il diagramma per identificare le facce, i vertici e le superfici delle forme



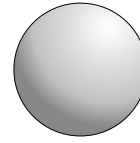
prisma triangolare

- 1) facce: 5
- 2) vertici: 6
- 3) lati: 9



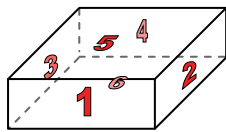
prisma rettangolare

- 4) facce: 6
- 5) vertici: 8
- 6) lati: 12

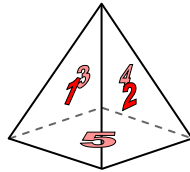


sfera

- 7) facce: 0
- 8) vertici: 0
- 9) lati: 0



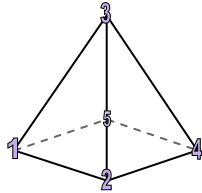
prisma rettangolare



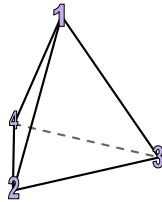
piramide rettangolare

10) Quale forma ha più facce?

- A. prisma rettangolare
- B. piramide rettangolare
- C. Entrambi hanno lo stesso numero di facce.



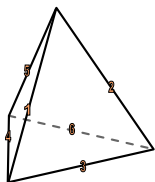
piramide rettangolare



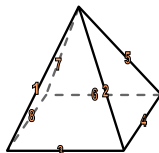
piramide triangolare

11) Quale forma ha più vertici?

- A. piramide rettangolare
- B. piramide triangolare
- C. Entrambi hanno lo stesso numero di vertici.



piramide triangolare



piramide rettangolare

12) Quale forma ha più lati?

- A. piramide triangolare
- B. piramide rettangolare
- C. Entrambi hanno lo stesso numero di lati.

**Risposte**

- 1. 5
- 2. 6
- 3. 9
- 4. 6
- 5. 8
- 6. 12
- 7. 0
- 8. 0
- 9. 0
- 10. A
- 11. A
- 12. B