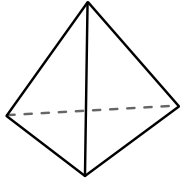




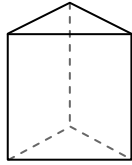
Usa il diagramma per identificare le facce, i vertici e le superfici delle forme

Risposte



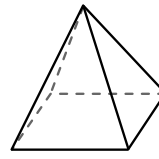
piramide triangolare

- 1) facce: _____
- 2) vertici: _____
- 3) lati: _____



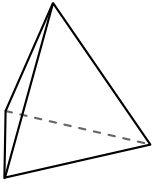
prisma triangolare

- 4) facce: _____
- 5) vertici: _____
- 6) lati: _____

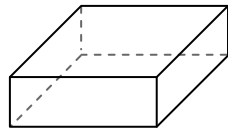


piramide rettangolare

- 7) facce: _____
- 8) vertici: _____
- 9) lati: _____

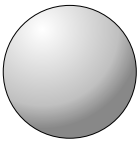


piramide triangolare

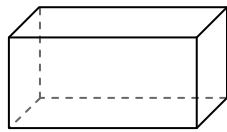


prisma rettangolare

- 10) Quale forma ha più facce?
- A. piramide triangolare
 - B. prisma rettangolare
 - C. Entrambi hanno lo stesso numero di facce.

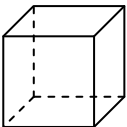


sfera

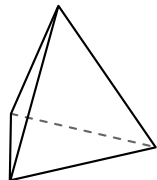


prisma rettangolare

- 11) Quale forma ha più vertici?
- A. sfera
 - B. prisma rettangolare
 - C. Entrambi hanno lo stesso numero di vertici.



cube



piramide triangolare

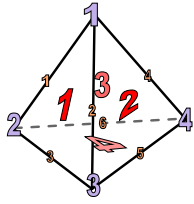
- 12) Quale forma ha più lati?
- A. cube
 - B. piramide triangolare
 - C. Entrambi hanno lo stesso numero di lati.

- 1. _____
- 2. _____
- 3. _____
- 4. _____
- 5. _____
- 6. _____
- 7. _____
- 8. _____
- 9. _____
- 10. _____
- 11. _____
- 12. _____



Usa il diagramma per identificare le facce, i vertici e le superfici delle forme

Risposte



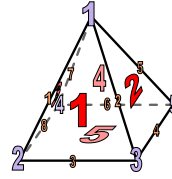
piramide triangolare

- 1) facce: 4
- 2) vertici: 4
- 3) lati: 6



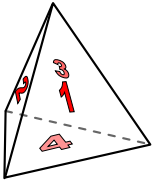
prisma triangolare

- 4) facce: 5
- 5) vertici: 6
- 6) lati: 9

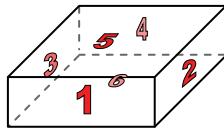


piramide rettangolare

- 7) facce: 5
- 8) vertici: 5
- 9) lati: 8



piramide triangolare

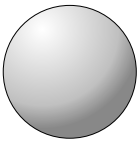


prisma rettangolare

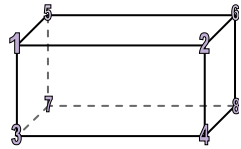
10) Quale forma ha più facce?

- A. piramide triangolare
- B. prisma rettangolare
- C. Entrambi hanno lo stesso numero di facce.

- 1. 4
- 2. 4
- 3. 6
- 4. 5
- 5. 6
- 6. 9
- 7. 5
- 8. 5
- 9. 8
- 10. B
- 11. B
- 12. A



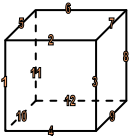
sfera



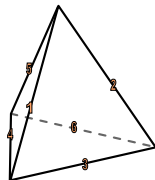
prisma rettangolare

11) Quale forma ha più vertici?

- A. sfera
- B. prisma rettangolare
- C. Entrambi hanno lo stesso numero di vertici.



cube



piramide triangolare

12) Quale forma ha più lati?

- A. cube
- B. piramide triangolare
- C. Entrambi hanno lo stesso numero di lati.