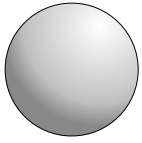


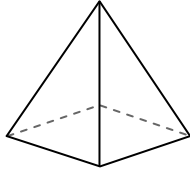


Usa il diagramma per identificare le facce, i vertici e le superfici delle forme

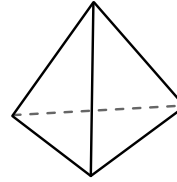
Risposte



sfera



piramide rettangolare

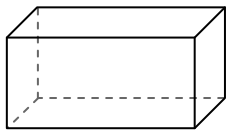


piramide triangolare

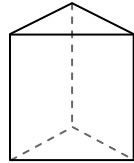
- 1) facce: _____
 2) vertici: _____
 3) lati: _____

- 4) facce: _____
 5) vertici: _____
 6) lati: _____

- 7) facce: _____
 8) vertici: _____
 9) lati: _____



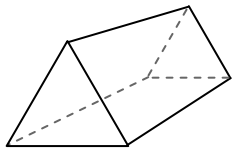
prisma rettangolare



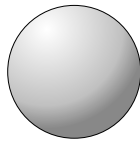
prisma triangolare

10) Quale forma ha più facce?

- A. prisma rettangolare
 B. prisma triangolare
 C. Entrambi hanno lo stesso numero di facce.



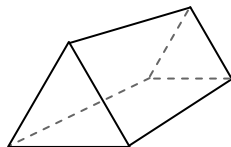
prisma triangolare



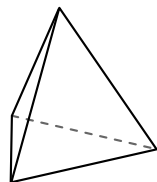
sfera

11) Quale forma ha più vertici?

- A. prisma triangolare
 B. sfera
 C. Entrambi hanno lo stesso numero di vertici.



prisma triangolare



piramide triangolare

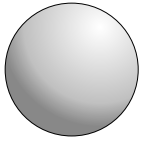
12) Quale forma ha più lati?

- A. prisma triangolare
 B. piramide triangolare
 C. Entrambi hanno lo stesso numero di lati.

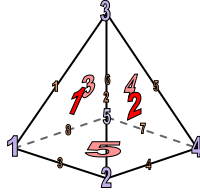
1. _____
 2. _____
 3. _____
 4. _____
 5. _____
 6. _____
 7. _____
 8. _____
 9. _____
 10. _____
 11. _____
 12. _____



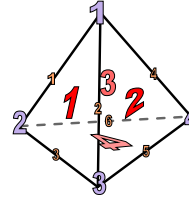
Usa il diagramma per identificare le facce, i vertici e le superfici delle forme



sfera



piramide rettangolare

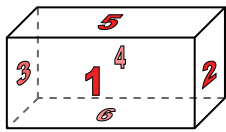


piramide triangolare

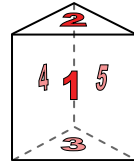
- 1) facce: 0
- 2) vertici: 0
- 3) lati: 0

- 4) facce: 5
- 5) vertici: 5
- 6) lati: 8

- 7) facce: 4
- 8) vertici: 4
- 9) lati: 6

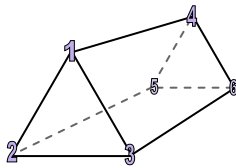


prisma rettangolare

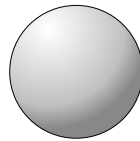


prisma triangolare

- 10) Quale forma ha più facce?
- A. prisma rettangolare
 - B. prisma triangolare
 - C. Entrambi hanno lo stesso numero di facce.

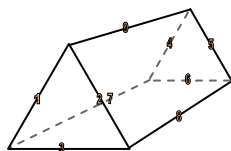


prisma triangolare

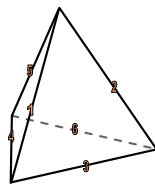


sfera

- 11) Quale forma ha più vertici?
- A. prisma triangolare
 - B. sfera
 - C. Entrambi hanno lo stesso numero di vertici.



prisma triangolare



piramide triangolare

- 12) Quale forma ha più lati?
- A. prisma triangolare
 - B. piramide triangolare
 - C. Entrambi hanno lo stesso numero di lati.

Risposte

- 1. 0
- 2. 0
- 3. 0
- 4. 5
- 5. 5
- 6. 8
- 7. 4
- 8. 4
- 9. 6
- 10. A
- 11. A
- 12. A