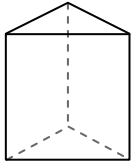


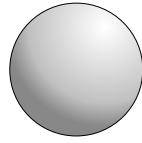


Usa il diagramma per identificare le facce, i vertici e le superfici delle forme

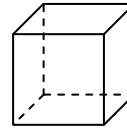
Risposte



prisma triangolare



sfera



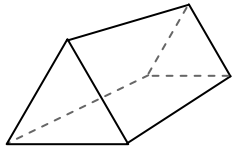
cube

- 1) facce: _____
- 2) vertici: _____
- 3) lati: _____

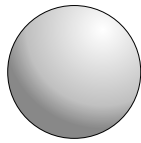
- 4) facce: _____
- 5) vertici: _____
- 6) lati: _____

- 7) facce: _____
- 8) vertici: _____
- 9) lati: _____

- 1. _____
- 2. _____
- 3. _____
- 4. _____
- 5. _____
- 6. _____
- 7. _____
- 8. _____
- 9. _____
- 10. _____
- 11. _____
- 12. _____



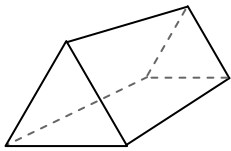
prisma triangolare



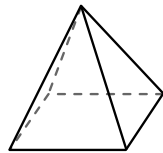
sfera

10) Quale forma ha più facce?

- A. prisma triangolare
- B. sfera
- C. Entrambi hanno lo stesso numero di facce.



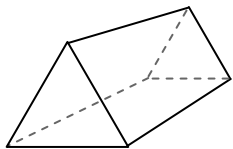
prisma triangolare



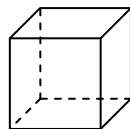
piramide rettangolare

11) Quale forma ha più vertici?

- A. prisma triangolare
- B. piramide rettangolare
- C. Entrambi hanno lo stesso numero di vertici.



prisma triangolare



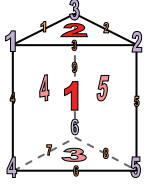
cube

12) Quale forma ha più lati?

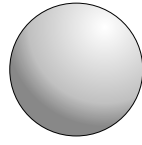
- A. prisma triangolare
- B. cube
- C. Entrambi hanno lo stesso numero di lati.



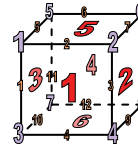
Usa il diagramma per identificare le facce, i vertici e le superfici delle forme



prisma triangolare



sfera

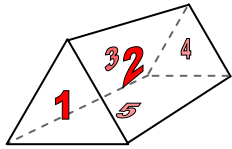


cube

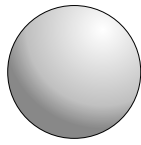
- 1) facce: 5
- 2) vertici: 6
- 3) lati: 9

- 4) facce: 0
- 5) vertici: 0
- 6) lati: 0

- 7) facce: 6
- 8) vertici: 8
- 9) lati: 12



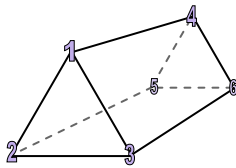
prisma triangolare



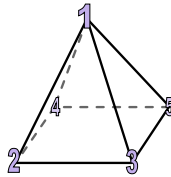
sfera

10) Quale forma ha più facce?

- A. prisma triangolare
- B. sfera
- C. Entrambi hanno lo stesso numero di facce.



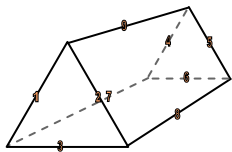
prisma triangolare



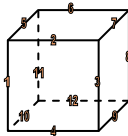
piramide rettangolare

11) Quale forma ha più vertici?

- A. prisma triangolare
- B. piramide rettangolare
- C. Entrambi hanno lo stesso numero di vertici.



prisma triangolare



cube

12) Quale forma ha più lati?

- A. prisma triangolare
- B. cube
- C. Entrambi hanno lo stesso numero di lati.

Risposte

- 1. 5
- 2. 6
- 3. 9
- 4. 0
- 5. 0
- 6. 0
- 7. 6
- 8. 8
- 9. 12
- 10. A
- 11. A
- 12. B