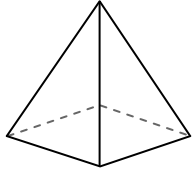




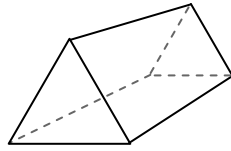
Usa il diagramma per identificare le facce, i vertici e le superfici delle forme

**Risposte**



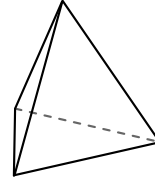
piramide rettangolare

- 1) facce: \_\_\_\_\_
- 2) vertici: \_\_\_\_\_
- 3) lati: \_\_\_\_\_



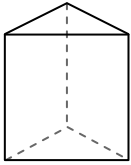
prisma triangolare

- 4) facce: \_\_\_\_\_
- 5) vertici: \_\_\_\_\_
- 6) lati: \_\_\_\_\_

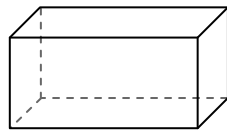


piramide triangolare

- 7) facce: \_\_\_\_\_
- 8) vertici: \_\_\_\_\_
- 9) lati: \_\_\_\_\_



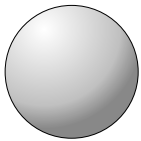
prisma triangolare



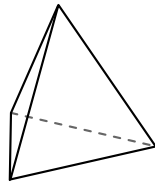
prisma rettangolare

10) Quale forma ha più facce?

- A. prisma triangolare
- B. prisma rettangolare
- C. Entrambi hanno lo stesso numero di facce.



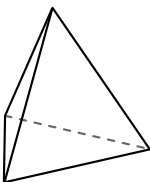
sfera



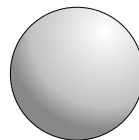
piramide triangolare

11) Quale forma ha più vertici?

- A. sfera
- B. piramide triangolare
- C. Entrambi hanno lo stesso numero di vertici.



piramide triangolare



sfera

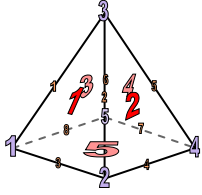
12) Quale forma ha più lati?

- A. piramide triangolare
- B. sfera
- C. Entrambi hanno lo stesso numero di lati.

- 1. \_\_\_\_\_
- 2. \_\_\_\_\_
- 3. \_\_\_\_\_
- 4. \_\_\_\_\_
- 5. \_\_\_\_\_
- 6. \_\_\_\_\_
- 7. \_\_\_\_\_
- 8. \_\_\_\_\_
- 9. \_\_\_\_\_
- 10. \_\_\_\_\_
- 11. \_\_\_\_\_
- 12. \_\_\_\_\_

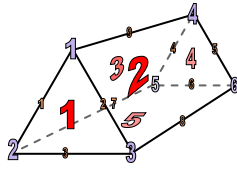


Usa il diagramma per identificare le facce, i vertici e le superfici delle forme



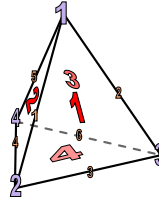
piramide rettangolare

- 1) facce: 5
- 2) vertici: 5
- 3) lati: 8



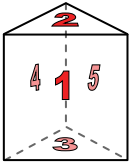
prisma triangolare

- 4) facce: 5
- 5) vertici: 6
- 6) lati: 9

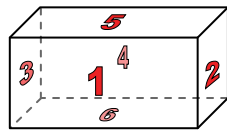


piramide triangolare

- 7) facce: 4
- 8) vertici: 4
- 9) lati: 6



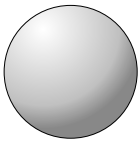
prisma triangolare



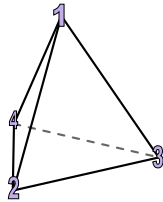
prisma rettangolare

10) Quale forma ha più facce?

- A. prisma triangolare
- B. prisma rettangolare
- C. Entrambi hanno lo stesso numero di facce.



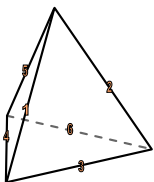
sfera



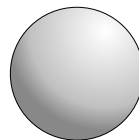
piramide triangolare

11) Quale forma ha più vertici?

- A. sfera
- B. piramide triangolare
- C. Entrambi hanno lo stesso numero di vertici.



piramide triangolare



sfera

12) Quale forma ha più lati?

- A. piramide triangolare
- B. sfera
- C. Entrambi hanno lo stesso numero di lati.

**Risposte**

- 1. 5
- 2. 5
- 3. 8
- 4. 5
- 5. 6
- 6. 9
- 7. 4
- 8. 4
- 9. 6
- 10. B
- 11. B
- 12. A