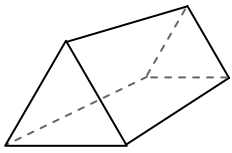




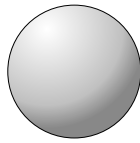
Usa il diagramma per identificare le facce, i vertici e le superfici delle forme

Risposte



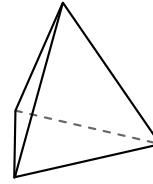
prisma triangolare

- 1) facce: _____
- 2) vertici: _____
- 3) lati: _____



sfera

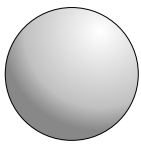
- 4) facce: _____
- 5) vertici: _____
- 6) lati: _____



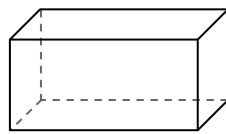
piramide triangolare

- 7) facce: _____
- 8) vertici: _____
- 9) lati: _____

- 1. _____
- 2. _____
- 3. _____
- 4. _____
- 5. _____
- 6. _____
- 7. _____
- 8. _____
- 9. _____
- 10. _____
- 11. _____
- 12. _____



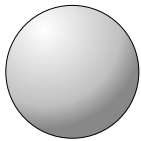
sfera



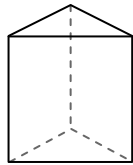
prisma rettangolare

10) Quale forma ha più facce?

- A. sfera
- B. prisma rettangolare
- C. Entrambi hanno lo stesso numero di facce.



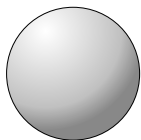
sfera



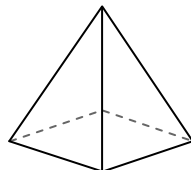
prisma triangolare

11) Quale forma ha più vertici?

- A. sfera
- B. prisma triangolare
- C. Entrambi hanno lo stesso numero di vertici.



sfera



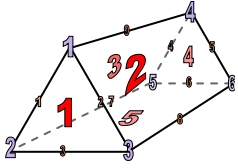
piramide rettangolare

12) Quale forma ha più lati?

- A. sfera
- B. piramide rettangolare
- C. Entrambi hanno lo stesso numero di lati.

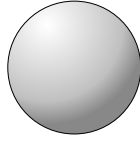


Usa il diagramma per identificare le facce, i vertici e le superfici delle forme



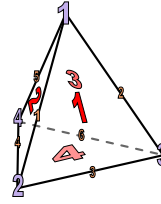
prisma triangolare

- 1) facce: 5
- 2) vertici: 6
- 3) lati: 9



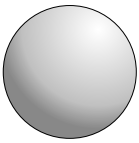
sfera

- 4) facce: 0
- 5) vertici: 0
- 6) lati: 0

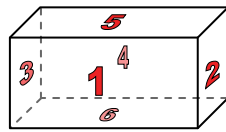


piramide triangolare

- 7) facce: 4
- 8) vertici: 4
- 9) lati: 6

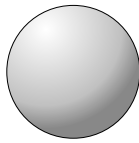


sfera

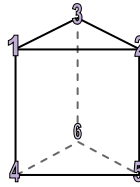


prisma rettangolare

- 10) Quale forma ha più facce?
- A. sfera
 - B. prisma rettangolare
 - C. Entrambi hanno lo stesso numero di facce.

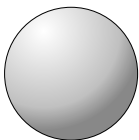


sfera

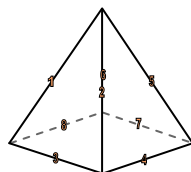


prisma triangolare

- 11) Quale forma ha più vertici?
- A. sfera
 - B. prisma triangolare
 - C. Entrambi hanno lo stesso numero di vertici.



sfera



piramide rettangolare

- 12) Quale forma ha più lati?
- A. sfera
 - B. piramide rettangolare
 - C. Entrambi hanno lo stesso numero di lati.

Risposte

- 1. 5
- 2. 6
- 3. 9
- 4. 0
- 5. 0
- 6. 0
- 7. 4
- 8. 4
- 9. 6
- 10. B
- 11. B
- 12. B