



Usa la linea numerata per arrotondare ogni numero al centinaio più vicino.

Es) 617



Risposte

Es. 600

1) 589



1. _____

2) 421



2. _____

3) 896



3. _____

4) 891



4. _____

5) 8.428



5. _____

6) 9.746



6. _____

7) 9.460



7. _____

8) 9.503



8. _____

9) 59.042



9. _____

10) 45.326



10. _____



Usa la linea numerata per arrotondare ogni numero al centinaio più vicino.

Es) 617



1) 589



2) 421



3) 896



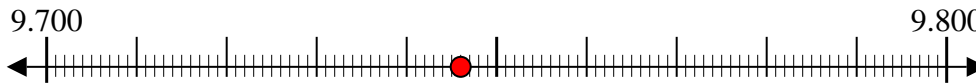
4) 891



5) 8.428



6) 9.746



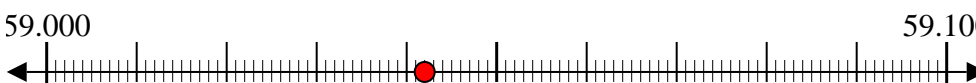
7) 9.460



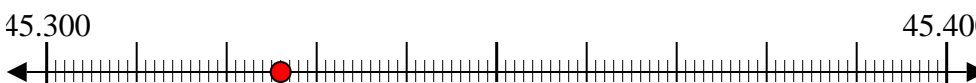
8) 9.503



9) 59.042



10) 45.326



Risposte

Es. 600

1. 600

2. 400

3. 900

4. 900

5. 8.400

6. 9.700

7. 9.500

8. 9.500

9. 59.000

10. 45.300