



Usa la linea numerata per arrotondare ogni numero al centinaio più vicino.

Es) 194



Risposte

Es. 200

1) 745



1. _____

2) 525



2. _____

3) 209



3. _____

4) 295



4. _____

5) 3.165



5. _____

6) 3.600



6. _____

7) 7.317



7. _____

8) 2.469



8. _____

9) 50.534



9. _____

10) 26.578



10. _____

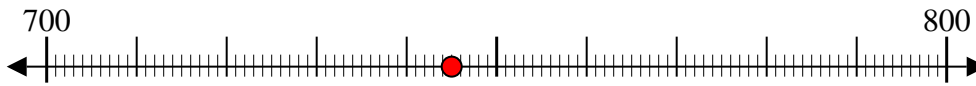


Usa la linea numerata per arrotondare ogni numero al centinaio più vicino.

Es) 194



1) 745



2) 525



3) 209



4) 295



5) 3.165



6) 3.600



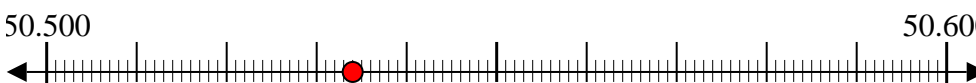
7) 7.317



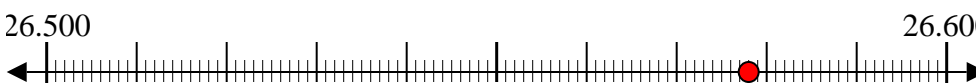
8) 2.469



9) 50.534



10) 26.578



Risposte

Es. 200

1. 700

2. 500

3. 200

4. 300

5. 3.200

6. 3.600

7. 7.300

8. 2.500

9. 50.500

10. 26.600