



Usa la linea numerata per arrotondare ogni numero al centinaio più vicino.

Es) 895



**Risposte**

Es. 900

1) 288



1. \_\_\_\_\_

2) 526



2. \_\_\_\_\_

3) 349



3. \_\_\_\_\_

4) 995



4. \_\_\_\_\_

5) 1.327



5. \_\_\_\_\_

6) 5.796



6. \_\_\_\_\_

7) 5.602



7. \_\_\_\_\_

8) 8.586



8. \_\_\_\_\_

9) 99.302



9. \_\_\_\_\_

10) 79.125



10. \_\_\_\_\_



Usa la linea numerata per arrotondare ogni numero al centinaio più vicino.

Es) 895



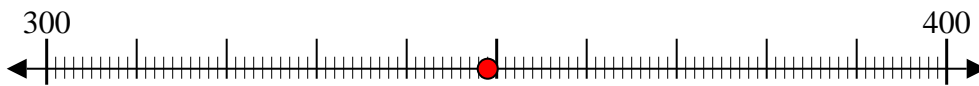
1) 288



2) 526



3) 349



4) 995



5) 1.327



6) 5.796



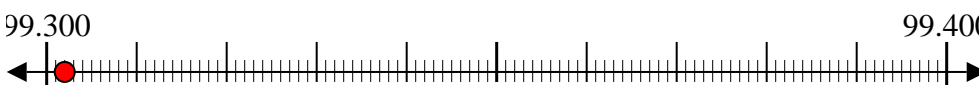
7) 5.602



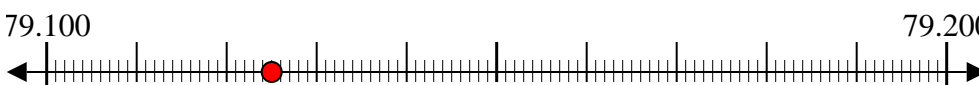
8) 8.586



9) 99.302



10) 79.125



**Risposte**

Es. 900

1. 300

2. 500

3. 300

4. 1.000

5. 1.300

6. 5.800

7. 5.600

8. 8.600

9. 99.300

10. 79.100