



Usa la linea numerata per arrotondare ogni numero al centinaio più vicino.

Es) 405



Risposte

Es. 400

1) 134



1. _____

2) 702



2. _____

3) 635



3. _____

4) 294



4. _____

5) 3.029



5. _____

6) 5.832



6. _____

7) 4.008



7. _____

8) 9.052



8. _____

9) 40.552



9. _____

10) 44.502



10. _____



Usa la linea numerata per arrotondare ogni numero al centinaio più vicino.

Es) 405



1) 134



2) 702



3) 635



4) 294



5) 3.029



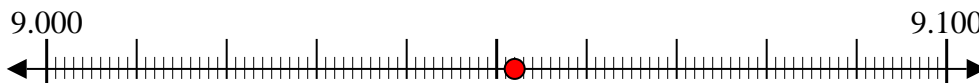
6) 5.832



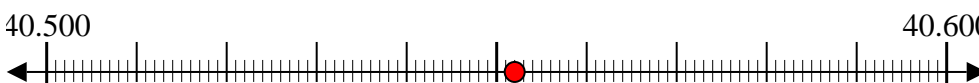
7) 4.008



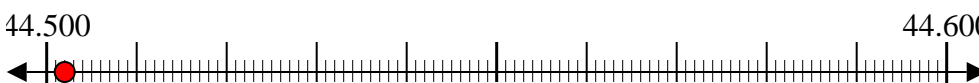
8) 9.052



9) 40.552



10) 44.502

RisposteEs. 4001. 1002. 7003. 6004. 3005. 3.0006. 5.8007. 4.0008. 9.1009. 40.60010. 44.500