



Usa la linea numerata per arrotondare ogni numero al centinaio più vicino.

Es) 988



Risposte

Es. 1.000

1) 455



1. _____

2) 994



2. _____

3) 827



3. _____

4) 276



4. _____

5) 8.291



5. _____

6) 4.550



6. _____

7) 6.413



7. _____

8) 9.344



8. _____

9) 51.511



9. _____

10) 67.370



10. _____



Usa la linea numerata per arrotondare ogni numero al centinaio più vicino.

Es) 988



1) 455



2) 994



3) 827



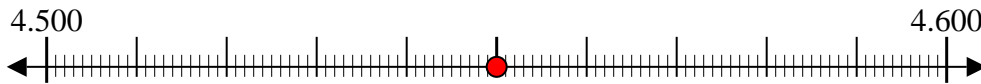
4) 276



5) 8.291



6) 4.550



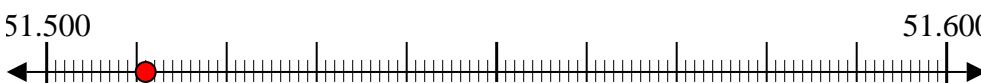
7) 6.413



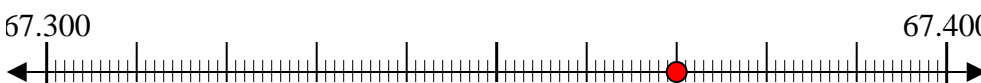
8) 9.344



9) 51.511



10) 67.370



Risposte

Es. 1.000

1. 500

2. 1.000

3. 800

4. 300

5. 8.300

6. 4.600

7. 6.400

8. 9.300

9. 51.500

10. 67.400