



Usa la linea numerata per arrotondare ogni numero al centinaio più vicino.

Es) 110



Risposte

Es. 100

1) 485



1. _____

2) 994



2. _____

3) 535



3. _____

4) 490



4. _____

5) 7.897



5. _____

6) 5.664



6. _____

7) 1.546



7. _____

8) 4.226



8. _____

9) 74.819



9. _____

10) 59.345



10. _____



Usa la linea numerata per arrotondare ogni numero al centinaio più vicino.

Es) 110



1) 485



2) 994



3) 535



4) 490



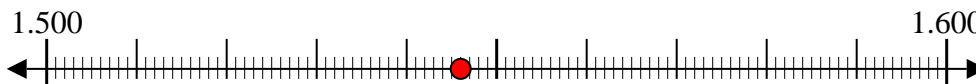
5) 7.897



6) 5.664



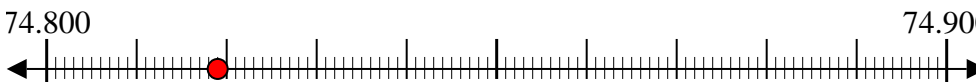
7) 1.546



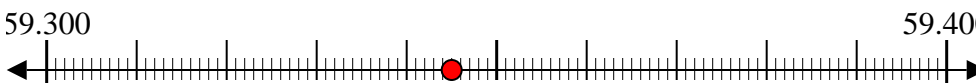
8) 4.226



9) 74.819



10) 59.345



Risposte

Es. 100

1. 500

2. 1.000

3. 500

4. 500

5. 7.900

6. 5.700

7. 1.500

8. 4.200

9. 74.800

10. 59.300