


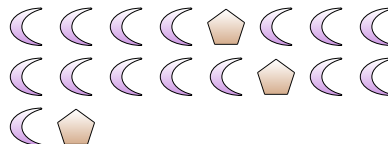


Risolvi ogni problema.

Es) Qual'è il rapporto tra triangoli e cuori?



1) Qual'è il rapporto tra pentagoni e lune?



Risposte

Es. 5:10

1. 3:15

2. 6:2

3. 7:4

4. 14:12

5. 5:4

6. 12:10

7. 14:3

8. 2:4

9. 2:11

10. 12:9

11. 11:6

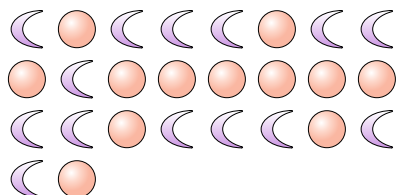
2) Qual'è il rapporto tra stelle e cerchi?



3) Qual'è il rapporto tra cuori e lune?




4) Qual'è il rapporto tra lune e cerchi?



5) Qual'è il rapporto tra stelle e quadrati?



6) Qual'è il rapporto tra cerchi e stelle?



7) Qual'è il rapporto tra stelle e triangoli?



8) Qual'è il rapporto tra cuori e pentagoni?



9) Qual'è il rapporto tra lune e quadrati?



10) Qual'è il rapporto tra stelle e lune?



11) Qual'è il rapporto tra pentagoni e quadrati?

