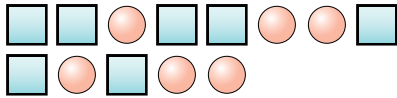


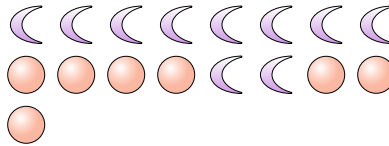


**Risolvi ogni problema.**

Es) Qual'è il rapporto tra cerchi e quadrati?



1) Qual'è il rapporto tra lune e cerchi?



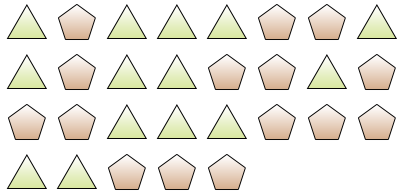
**Risposte**

Es. 6:7

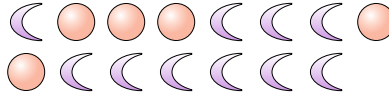
1. \_\_\_\_\_

2. \_\_\_\_\_

2) Qual'è il rapporto tra pentagoni e triangoli?



3) Qual'è il rapporto tra cerchi e lune?

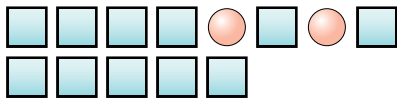


3. \_\_\_\_\_

4. \_\_\_\_\_

5. \_\_\_\_\_

4) Qual'è il rapporto tra cerchi e quadrati?



5) Qual'è il rapporto tra quadrati e cuori?




6. \_\_\_\_\_

7. \_\_\_\_\_

8. \_\_\_\_\_

6) Qual'è il rapporto tra cuori e quadrati?



7) Qual'è il rapporto tra pentagoni e stelle?

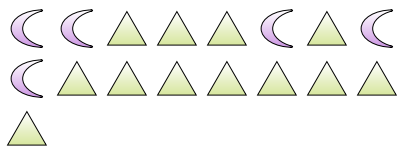


9. \_\_\_\_\_

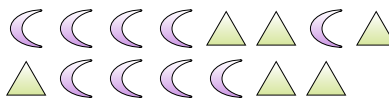
10. \_\_\_\_\_

11. \_\_\_\_\_

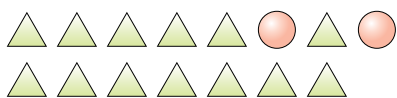
8) Qual'è il rapporto tra triangoli e lune?




9) Qual'è il rapporto tra triangoli e lune?



10) Qual'è il rapporto tra cerchi e triangoli?



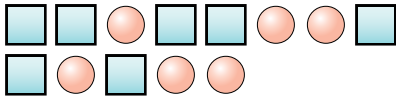
11) Qual'è il rapporto tra lune e triangoli?



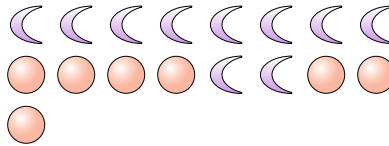


**Risolvi ogni problema.**

Es) Qual'è il rapporto tra cerchi e quadrati?



1) Qual'è il rapporto tra lune e cerchi?



**Risposte**

Es. 6:7

1. 10:7

2. 15:14

3. 5:10

4. 2:11

5. 2:4

6. 6:9

7. 9:6

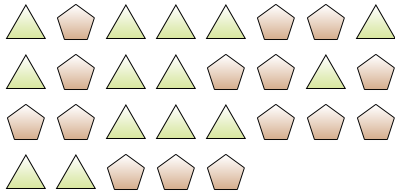
8. 12:5

9. 6:9

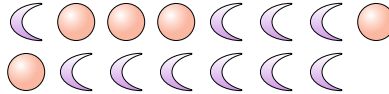
10. 2:13

11. 14:9

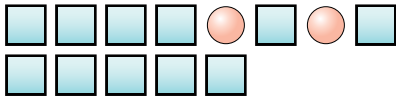
2) Qual'è il rapporto tra pentagoni e triangoli?



3) Qual'è il rapporto tra cerchi e lune?




4) Qual'è il rapporto tra cerchi e quadrati?



5) Qual'è il rapporto tra quadrati e cuori?



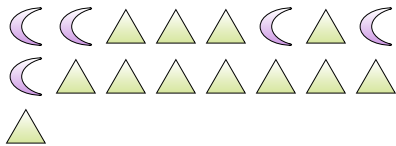
6) Qual'è il rapporto tra cuori e quadrati?



7) Qual'è il rapporto tra pentagoni e stelle?



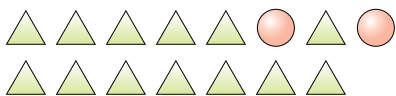
8) Qual'è il rapporto tra triangoli e lune?



9) Qual'è il rapporto tra triangoli e lune?



10) Qual'è il rapporto tra cerchi e triangoli?



11) Qual'è il rapporto tra lune e triangoli?

