

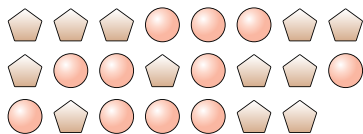


Risolvi ogni problema.

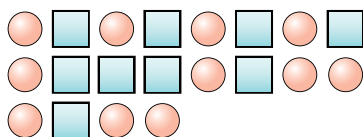
Es) Qual'è il rapporto tra stelle e lune?



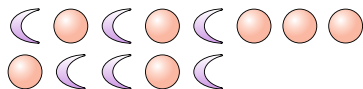
2) Qual'è il rapporto tra cerchi e pentagoni?



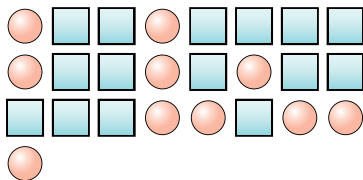
4) Qual'è il rapporto tra quadrati e cerchi?




6) Qual'è il rapporto tra cerchi e lune?



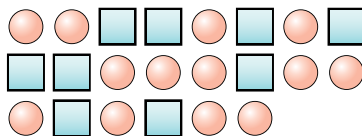
8) Qual'è il rapporto tra cerchi e quadrati?



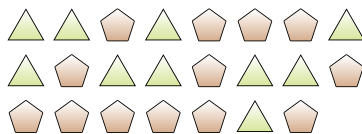
10) Qual'è il rapporto tra cerchi e cuori?



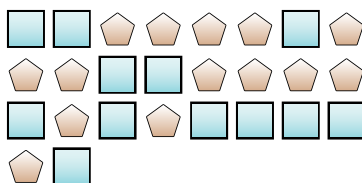
1) Qual'è il rapporto tra quadrati e cerchi?




3) Qual'è il rapporto tra triangoli e pentagoni?




5) Qual'è il rapporto tra quadrati e pentagoni?



7) Qual'è il rapporto tra cerchi e stelle?



9) Qual'è il rapporto tra lune e cuori?



11)

Risposte

Es. 2:14

1. _____

2. _____

3. _____

4. _____

5. _____

6. _____

7. _____

8. _____

9. _____

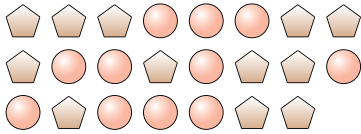
10. _____

**Risolvi ogni problema.**

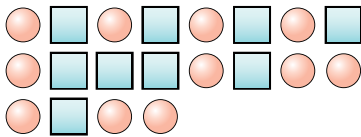
Es) Qual'è il rapporto tra stelle e lune?



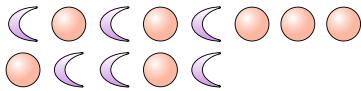
2) Qual'è il rapporto tra cerchi e pentagoni?



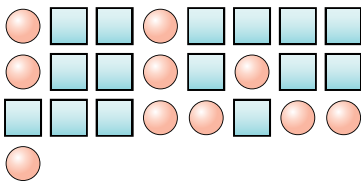
4) Qual'è il rapporto tra quadrati e cerchi?




6) Qual'è il rapporto tra cerchi e lune?



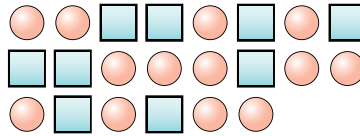
8) Qual'è il rapporto tra cerchi e quadrati?



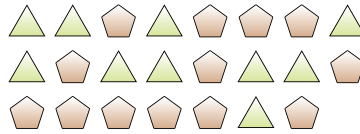
10) Qual'è il rapporto tra cerchi e cuori?



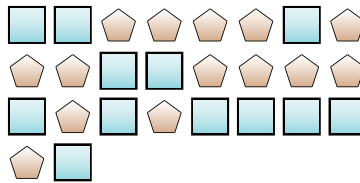
1) Qual'è il rapporto tra quadrati e cerchi?



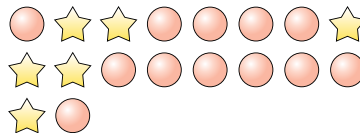
3) Qual'è il rapporto tra triangoli e pentagoni?



5) Qual'è il rapporto tra quadrati e pentagoni?



7) Qual'è il rapporto tra cerchi e stelle?



9) Qual'è il rapporto tra lune e cuori?



11)

RisposteEs. 2:141. 9:132. 11:123. 10:134. 9:115. 12:146. 7:67. 12:68. 10:159. 11:810. 5:14