

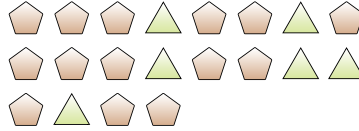


Risolvi ogni problema.

Es) Qual'è il rapporto tra quadrati e cuori?



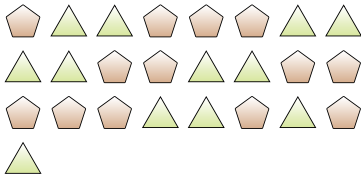
1) Qual'è il rapporto tra triangoli e pentagoni?



Risposte

Es. 2:3

2) Qual'è il rapporto tra pentagoni e triangoli?



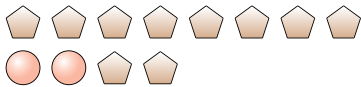
3) Qual'è il rapporto tra stelle e pentagoni?



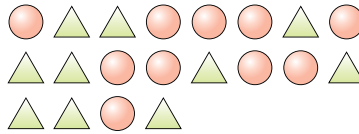
1. _____

2. _____

4) Qual'è il rapporto tra pentagoni e cerchi?



5) Qual'è il rapporto tra cerchi e triangoli?



3. _____

4. _____

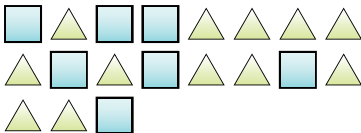
5. _____

6. _____

7. _____

8. _____

6) Qual'è il rapporto tra triangoli e quadrati?



7) Qual'è il rapporto tra triangoli e cuori?



9. _____

10. _____

8) Qual'è il rapporto tra cerchi e lune?



9) Qual'è il rapporto tra stelle e triangoli?



10) Qual'è il rapporto tra stelle e quadrati?



11)

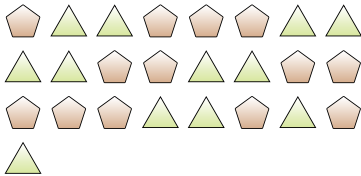


Risolvi ogni problema.

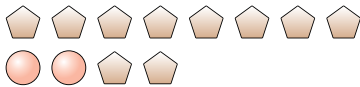
Es) Qual'è il rapporto tra quadrati e cuori?



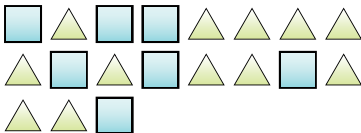
2) Qual'è il rapporto tra pentagoni e triangoli?



4) Qual'è il rapporto tra pentagoni e cerchi?



6) Qual'è il rapporto tra triangoli e quadrati?



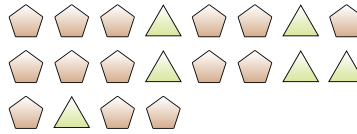
8) Qual'è il rapporto tra cerchi e lune?



10) Qual'è il rapporto tra stelle e quadrati?



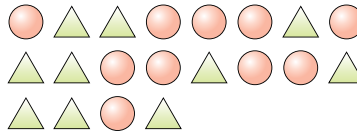
1) Qual'è il rapporto tra triangoli e pentagoni?



3) Qual'è il rapporto tra stelle e pentagoni?



5) Qual'è il rapporto tra cerchi e triangoli?



7) Qual'è il rapporto tra triangoli e cuori?



9) Qual'è il rapporto tra stelle e triangoli?



11)

RisposteEs. 2:31. 6:142. 13:123. 12:34. 10:25. 10:106. 12:77. 4:48. 2:29. 4:310. 13:5