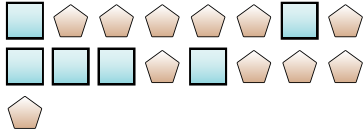





Risolvi ogni problema.

Es) Qual'è il rapporto tra pentagoni e quadrati?



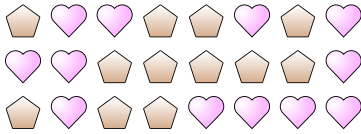
1) Qual'è il rapporto tra pentagoni e cuori?



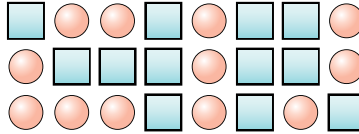
Risposte

Es. 11:6

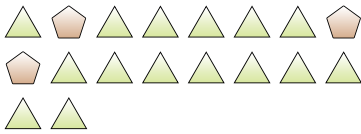
2) Qual'è il rapporto tra cuori e pentagoni?



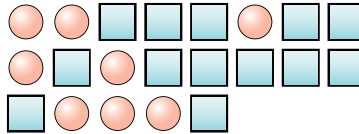
3) Qual'è il rapporto tra cerchi e quadrati?




4) Qual'è il rapporto tra triangoli e pentagoni?



5) Qual'è il rapporto tra cerchi e quadrati?



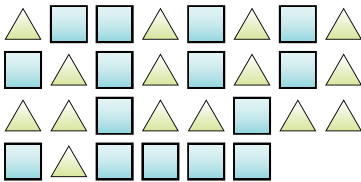
6) Qual'è il rapporto tra pentagoni e cuori?



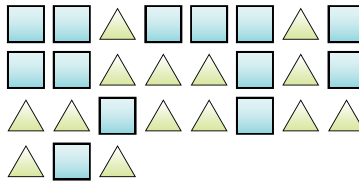
7) Qual'è il rapporto tra cuori e stelle?



8) Qual'è il rapporto tra triangoli e quadrati?



9) Qual'è il rapporto tra triangoli e quadrati?



10) Qual'è il rapporto tra lune e triangoli?



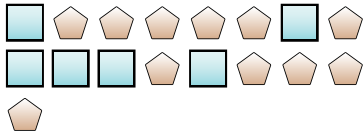
11)

- 1. _____
- 2. _____
- 3. _____
- 4. _____
- 5. _____
- 6. _____
- 7. _____
- 8. _____
- 9. _____
- 10. _____

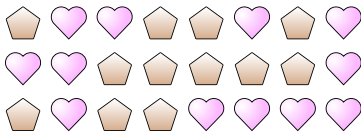


Risolvi ogni problema.

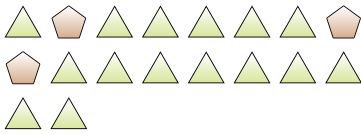
Es) Qual'è il rapporto tra pentagoni e quadrati?




2) Qual'è il rapporto tra cuori e pentagoni?



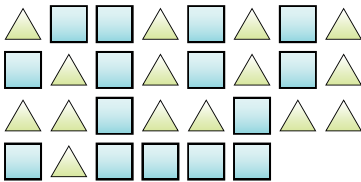
4) Qual'è il rapporto tra triangoli e pentagoni?



6) Qual'è il rapporto tra pentagoni e cuori?




8) Qual'è il rapporto tra triangoli e quadrati?



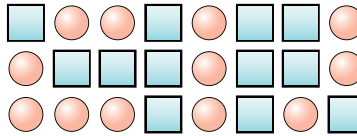
10) Qual'è il rapporto tra lune e triangoli?



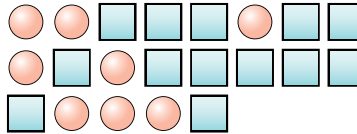
1) Qual'è il rapporto tra pentagoni e cuori?



3) Qual'è il rapporto tra cerchi e quadrati?



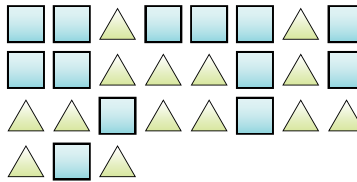
5) Qual'è il rapporto tra cerchi e quadrati?



7) Qual'è il rapporto tra cuori e stelle?



9) Qual'è il rapporto tra triangoli e quadrati?



11)

Risposte

Es. 11:6

1. 15:6

2. 12:12

3. 12:12

4. 15:3

5. 8:13

6. 11:13

7. 15:14

8. 15:15

9. 14:13

10. 9:4