

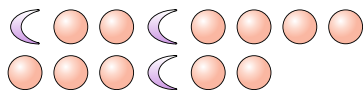


Risolvi ogni problema.

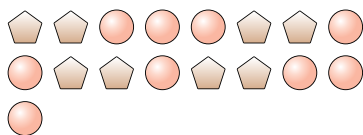
Es) Qual'è il rapporto tra lune e cuori?



2) Qual'è il rapporto tra cerchi e lune?




4) Qual'è il rapporto tra pentagoni e cerchi?



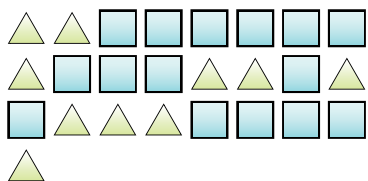
6) Qual'è il rapporto tra cuori e cerchi?



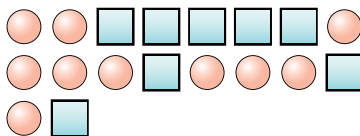
8) Qual'è il rapporto tra lune e triangoli?




10) Qual'è il rapporto tra triangoli e quadrati?



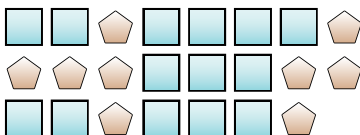
1) Qual'è il rapporto tra cerchi e quadrati?



3) Qual'è il rapporto tra cuori e cerchi?



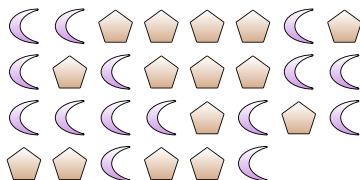
5) Qual'è il rapporto tra pentagoni e quadrati?



7) Qual'è il rapporto tra pentagoni e quadrati?



9) Qual'è il rapporto tra lune e pentagoni?



11)

Risposte

Es. 7:8

1. _____

2. _____

3. _____

4. _____

5. _____

6. _____

7. _____

8. _____

9. _____

10. _____

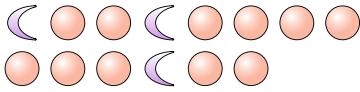


Risolvi ogni problema.

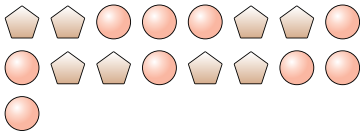
Es) Qual'è il rapporto tra lune e cuori?



2) Qual'è il rapporto tra cerchi e lune?



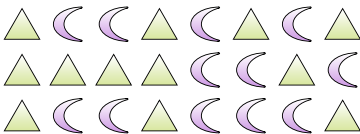
4) Qual'è il rapporto tra pentagoni e cerchi?



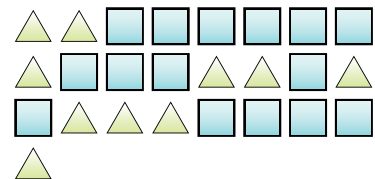
6) Qual'è il rapporto tra cuori e cerchi?



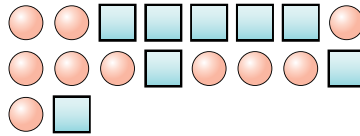
8) Qual'è il rapporto tra lune e triangoli?




10) Qual'è il rapporto tra triangoli e quadrati?



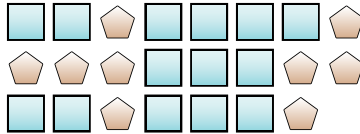
1) Qual'è il rapporto tra cerchi e quadrati?



3) Qual'è il rapporto tra cuori e cerchi?



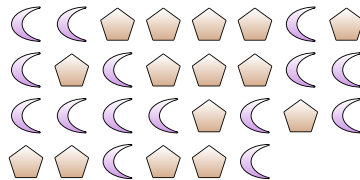
5) Qual'è il rapporto tra pentagoni e quadrati?



7) Qual'è il rapporto tra pentagoni e quadrati?



9) Qual'è il rapporto tra lune e pentagoni?



11)

Risposte

Es. 7:8

1. 10:8

2. 11:3

3. 13:8

4. 8:9

5. 9:14

6. 5:2

7. 2:4

8. 12:12

9. 15:15

10. 10:15