



Risolvi ogni problema.

Es) Qual'è il rapporto tra triangoli e lune?




1) Qual'è il rapporto tra lune e stelle?



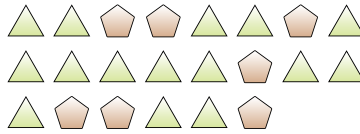
Risposte

Es. 4:11

2) Qual'è il rapporto tra cerchi e stelle?



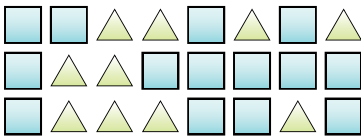
3) Qual'è il rapporto tra pentagoni e triangoli?



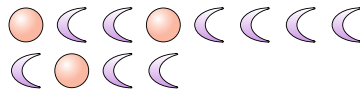
1. _____

2. _____

4) Qual'è il rapporto tra triangoli e quadrati?



5) Qual'è il rapporto tra cerchi e lune?



3. _____


4. _____

5. _____

6) Qual'è il rapporto tra lune e cerchi?



7) Qual'è il rapporto tra lune e triangoli?




6. _____

7. _____

8. _____

8) Qual'è il rapporto tra pentagoni e cuori?



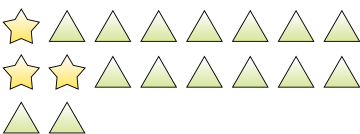
9) Qual'è il rapporto tra cuori e stelle?



9. _____

10. _____

10) Qual'è il rapporto tra triangoli e stelle?




11) _____

**Risolvi ogni problema.**

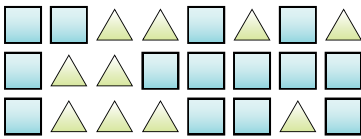
Es) Qual'è il rapporto tra triangoli e lune?



2) Qual'è il rapporto tra cerchi e stelle?




4) Qual'è il rapporto tra triangoli e quadrati?



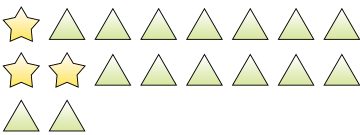
6) Qual'è il rapporto tra lune e cerchi?



8) Qual'è il rapporto tra pentagoni e cuori?



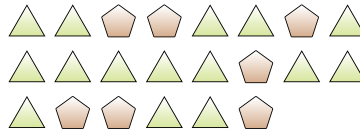
10) Qual'è il rapporto tra triangoli e stelle?



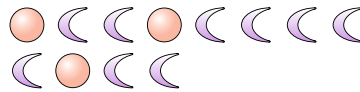
1) Qual'è il rapporto tra lune e stelle?




3) Qual'è il rapporto tra pentagoni e triangoli?



5) Qual'è il rapporto tra cerchi e lune?



7) Qual'è il rapporto tra lune e triangoli?



9) Qual'è il rapporto tra cuori e stelle?



11)

RisposteEs. 4:111. 11:22. 12:53. 7:154. 10:145. 3:96. 6:27. 8:158. 13:89. 13:710. 15:3