





Risolvi ogni problema.

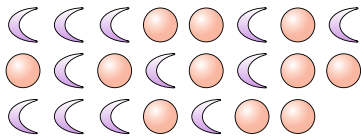
Es) Qual'è il rapporto tra quadrati e stelle?



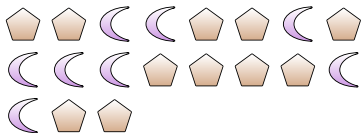
2) Qual'è il rapporto tra cuori e pentagoni?



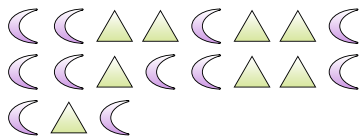
4) Qual'è il rapporto tra cerchi e lune?



6) Qual'è il rapporto tra lune e pentagoni?



8) Qual'è il rapporto tra lune e triangoli?



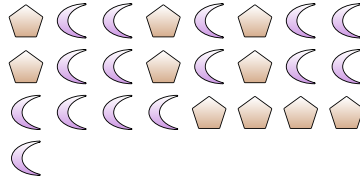
10) Qual'è il rapporto tra stelle e pentagoni?



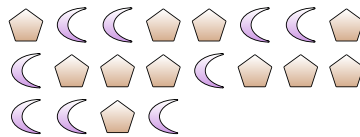
1) Qual'è il rapporto tra lune e cuori?



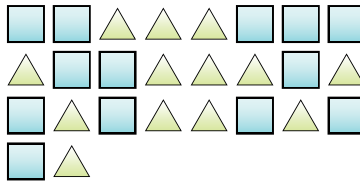
3) Qual'è il rapporto tra pentagoni e lune?



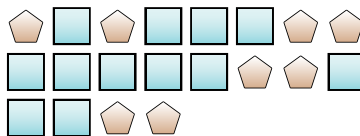
5) Qual'è il rapporto tra pentagoni e lune?



7) Qual'è il rapporto tra quadrati e triangoli?



9) Qual'è il rapporto tra pentagoni e quadrati?



11)

Risposte

Es. 11:10

1. _____

2. _____

3. _____

4. _____

5. _____

6. _____

7. _____

8. _____

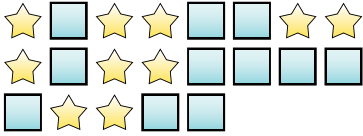
9. _____

10. _____




Risolvi ogni problema.

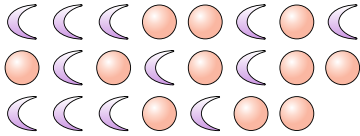
Es) Qual'è il rapporto tra quadrati e stelle?



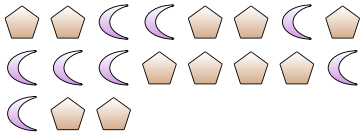
2) Qual'è il rapporto tra cuori e pentagoni?



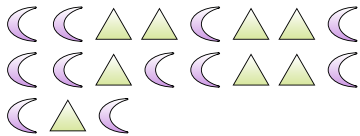
4) Qual'è il rapporto tra cerchi e lune?



6) Qual'è il rapporto tra lune e pentagoni?



8) Qual'è il rapporto tra lune e triangoli?



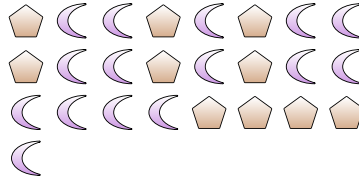
10) Qual'è il rapporto tra stelle e pentagoni?



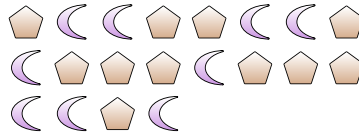
1) Qual'è il rapporto tra lune e cuori?



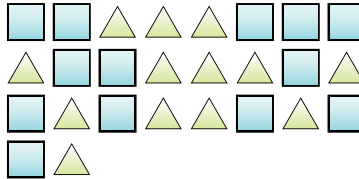
3) Qual'è il rapporto tra pentagoni e lune?



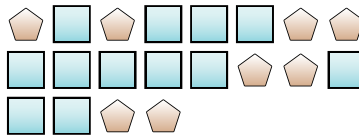
5) Qual'è il rapporto tra pentagoni e lune?



7) Qual'è il rapporto tra quadrati e triangoli?



9) Qual'è il rapporto tra pentagoni e quadrati?



11)

RisposteEs. 11:101. 11:62. 11:83. 10:154. 11:125. 11:96. 8:117. 13:138. 11:89. 8:1210. 5:4