





Risolvi ogni problema.

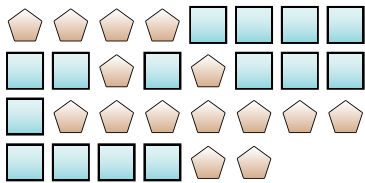
Es) Qual'è il rapporto tra cuori e quadrati?



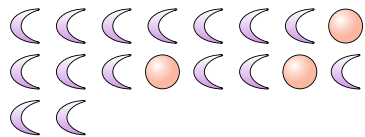
2) Qual'è il rapporto tra quadrati e cuori?




4) Qual'è il rapporto tra pentagoni e quadrati?



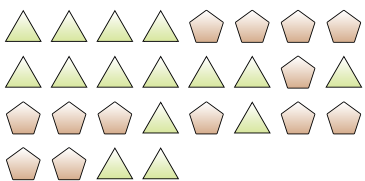
6) Qual'è il rapporto tra lune e cerchi?




8) Qual'è il rapporto tra stelle e quadrati?



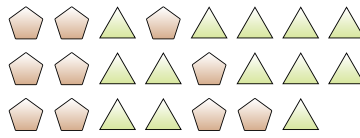
10) Qual'è il rapporto tra pentagoni e triangoli?



1) Qual'è il rapporto tra cuori e pentagoni?



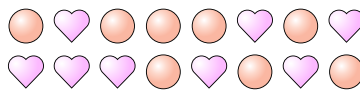
3) Qual'è il rapporto tra pentagoni e triangoli?



5) Qual'è il rapporto tra quadrati e cuori?



7) Qual'è il rapporto tra cuori e cerchi?



9) Qual'è il rapporto tra stelle e triangoli?



11)

Risposte

Es. 15:8

1. _____

2. _____

3. _____

4. _____

5. _____

6. _____

7. _____

8. _____


9. _____

10. _____




Risolvi ogni problema.

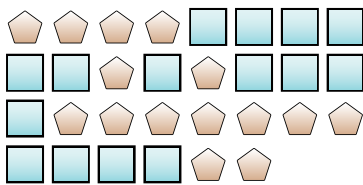
Es) Qual'è il rapporto tra cuori e quadrati?



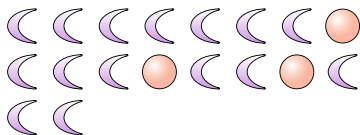
2) Qual'è il rapporto tra quadrati e cuori?




4) Qual'è il rapporto tra pentagoni e quadrati?



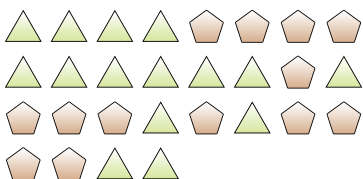
6) Qual'è il rapporto tra lune e cerchi?




8) Qual'è il rapporto tra stelle e quadrati?



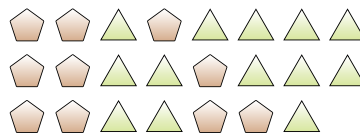
10) Qual'è il rapporto tra pentagoni e triangoli?



1) Qual'è il rapporto tra cuori e pentagoni?



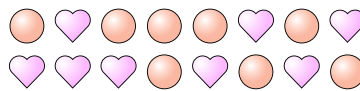
3) Qual'è il rapporto tra pentagoni e triangoli?



5) Qual'è il rapporto tra quadrati e cuori?



7) Qual'è il rapporto tra cuori e cerchi?



9) Qual'è il rapporto tra stelle e triangoli?



11)

RisposteEs. 15:81. 13:42. 6:53. 10:134. 15:155. 2:56. 15:37. 8:88. 15:129. 2:1110. 13:15