




Risolvi ogni problema.

Es) Qual'è il rapporto tra lune e stelle?



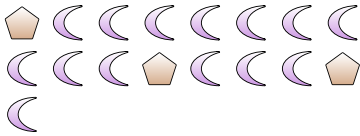
1) Qual'è il rapporto tra triangoli e lune?



Risposte

Es. 6:8

2) Qual'è il rapporto tra pentagoni e lune?



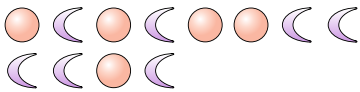
3) Qual'è il rapporto tra lune e cuori?




1. _____

2. _____

4) Qual'è il rapporto tra cerchi e lune?



5) Qual'è il rapporto tra cuori e triangoli?



3. _____

4. _____

5. _____

6) Qual'è il rapporto tra triangoli e stelle?



7) Qual'è il rapporto tra triangoli e stelle?



6. _____


7. _____

8. _____

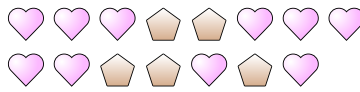
9. _____

10. _____

8) Qual'è il rapporto tra cuori e pentagoni?



9) Qual'è il rapporto tra pentagoni e cuori?



10) Qual'è il rapporto tra lune e stelle?



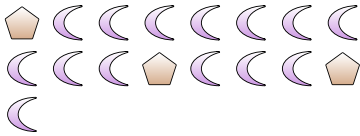
11) _____

**Risolvi ogni problema.**

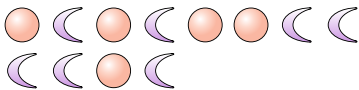
Es) Qual'è il rapporto tra lune e stelle?



2) Qual'è il rapporto tra pentagoni e lune?




4) Qual'è il rapporto tra cerchi e lune?



6) Qual'è il rapporto tra triangoli e stelle?




8) Qual'è il rapporto tra cuori e pentagoni?



10) Qual'è il rapporto tra lune e stelle?




1) Qual'è il rapporto tra triangoli e lune?



3) Qual'è il rapporto tra lune e cuori?



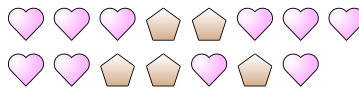
5) Qual'è il rapporto tra cuori e triangoli?



7) Qual'è il rapporto tra triangoli e stelle?



9) Qual'è il rapporto tra pentagoni e cuori?



11)

RisposteEs. 6:81. 5:122. 3:143. 10:44. 5:75. 7:96. 3:57. 4:128. 13:79. 5:1010. 13:2