




Risolvi ogni problema.

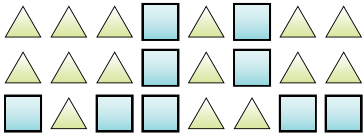
Es) Qual'è il rapporto tra triangoli e stelle?



2) Qual'è il rapporto tra lune e cuori?



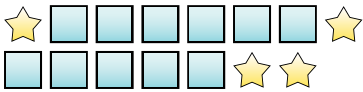
4) Qual'è il rapporto tra quadrati e triangoli?



6) Qual'è il rapporto tra stelle e triangoli?



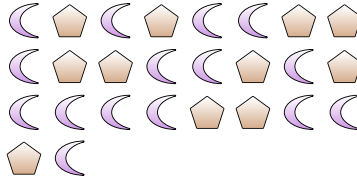
8) Qual'è il rapporto tra quadrati e stelle?



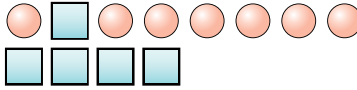
10) Qual'è il rapporto tra cerchi e pentagoni?



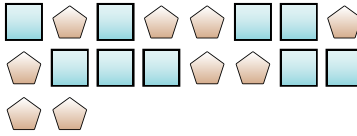
1) Qual'è il rapporto tra lune e pentagoni?



3) Qual'è il rapporto tra quadrati e cerchi?




5) Qual'è il rapporto tra pentagoni e quadrati?



7) Qual'è il rapporto tra stelle e lune?



9) Qual'è il rapporto tra cuori e triangoli?



11)

Risposte

Es. 6:7

1. _____

2. _____

3. _____

4. _____

5. _____

6. _____

7. _____

8. _____

9. _____

10. _____




Risolvi ogni problema.

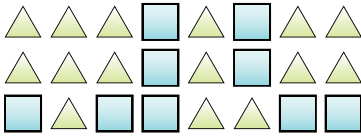
Es) Qual'è il rapporto tra triangoli e stelle?



2) Qual'è il rapporto tra lune e cuori?



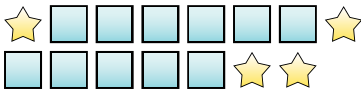
4) Qual'è il rapporto tra quadrati e triangoli?



6) Qual'è il rapporto tra stelle e triangoli?



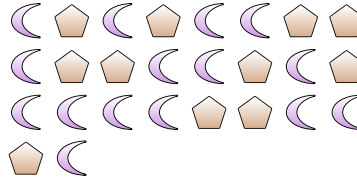
8) Qual'è il rapporto tra quadrati e stelle?



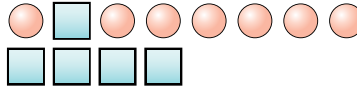
10) Qual'è il rapporto tra cerchi e pentagoni?



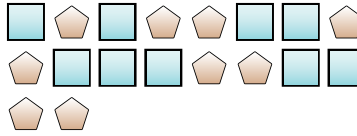
1) Qual'è il rapporto tra lune e pentagoni?



3) Qual'è il rapporto tra quadrati e cerchi?




5) Qual'è il rapporto tra pentagoni e quadrati?



7) Qual'è il rapporto tra stelle e lune?



9) Qual'è il rapporto tra cuori e triangoli?



11)

RisposteEs. 6:71. 15:112. 11:123. 5:74. 9:155. 9:96. 9:27. 11:148. 11:49. 8:1510. 3:4