



**Crea una sequenza poi trova il numero che la completa**

**Risposte**

Ex) Inizia da 20 e crea uno schema aggiungendo 9.

Qual'è il terzo numero nello scema?     20   29   38   47   56   65

Ex.     **38**

1) Inizia da 79 e crea uno schema sottraendo 8.  
Qual'è il terzo numero nello scema?

\_\_\_\_\_

1. \_\_\_\_\_

2) Inizia da 23 e crea uno schema aggiungendo 3.  
Qual'è il sesto numero nello scema?

\_\_\_\_\_

2. \_\_\_\_\_

3) Inizia da 48 e crea uno schema aggiungendo 2.  
Qual'è il quarto numero nello scema?

\_\_\_\_\_

3. \_\_\_\_\_

4) Inizia da 69 e crea uno schema sottraendo 5.  
Qual'è il sesto numero nello scema?

\_\_\_\_\_

4. \_\_\_\_\_

5) Inizia da 66 e crea uno schema sottraendo 3.  
Qual'è il quarto numero nello scema?

\_\_\_\_\_

5. \_\_\_\_\_

6) Inizia da 8 e crea uno schema aggiungendo 4.  
Qual'è il sesto numero nello scema?

\_\_\_\_\_

6. \_\_\_\_\_

7) Inizia da 67 e crea uno schema sottraendo 8.  
Qual'è il sesto numero nello scema?

\_\_\_\_\_

7. \_\_\_\_\_

8) Inizia da 14 e crea uno schema aggiungendo 8.  
Qual'è il sesto numero nello scema?

\_\_\_\_\_

8. \_\_\_\_\_

9) Inizia da 46 e crea uno schema aggiungendo 8.  
Qual'è il quinto numero nello scema?

\_\_\_\_\_

9. \_\_\_\_\_

10) Inizia da 64 e crea uno schema sottraendo 3.  
Qual'è il quinto numero nello scema?

\_\_\_\_\_

10. \_\_\_\_\_

**Crea una sequenza poi trova il numero che la completa**

Ex) Inizia da 20 e crea uno schema aggiungendo 9.

Qual'è il terzo numero nello scema? 20 29 38 47 56 65

1) Inizia da 79 e crea uno schema sottraendo 8.  
Qual'è il terzo numero nello scema?

79 71 63 55 47 39

2) Inizia da 23 e crea uno schema aggiungendo 3.  
Qual'è il sesto numero nello scema?

23 26 29 32 35 38

3) Inizia da 48 e crea uno schema aggiungendo 2.  
Qual'è il quarto numero nello scema?

48 50 52 54 56 58

4) Inizia da 69 e crea uno schema sottraendo 5.  
Qual'è il sesto numero nello scema?

69 64 59 54 49 44

5) Inizia da 66 e crea uno schema sottraendo 3.  
Qual'è il quarto numero nello scema?

66 63 60 57 54 51

6) Inizia da 8 e crea uno schema aggiungendo 4.  
Qual'è il sesto numero nello scema?

8 12 16 20 24 28

7) Inizia da 67 e crea uno schema sottraendo 8.  
Qual'è il sesto numero nello scema?

67 59 51 43 35 27

8) Inizia da 14 e crea uno schema aggiungendo 8.  
Qual'è il sesto numero nello scema?

14 22 30 38 46 54

9) Inizia da 46 e crea uno schema aggiungendo 8.  
Qual'è il quinto numero nello scema?

46 54 62 70 78 86

10) Inizia da 64 e crea uno schema sottraendo 3.  
Qual'è il quinto numero nello scema?

64 61 58 55 52 49

**Risposte**Ex. 381. 632. 383. 544. 445. 576. 287. 278. 549. 7810. 52



**Crea una sequenza poi trova il numero che la completa**

**Risposte**

Ex) Inizia da 27 e crea uno schema aggiungendo 8.

Qual'è il quarto numero nello scema?

27 35 43 51 59 67

Ex. 51

1) Inizia da 35 e crea uno schema aggiungendo 3.

Qual'è il sesto numero nello scema?

\_\_\_\_\_

1. \_\_\_\_\_

2) Inizia da 16 e crea uno schema aggiungendo 4.

Qual'è il sesto numero nello scema?

\_\_\_\_\_

2. \_\_\_\_\_

3) Inizia da 19 e crea uno schema aggiungendo 4.

Qual'è il terzo numero nello scema?

\_\_\_\_\_

3. \_\_\_\_\_

4) Inizia da 17 e crea uno schema aggiungendo 9.

Qual'è il terzo numero nello scema?

\_\_\_\_\_

4. \_\_\_\_\_

5) Inizia da 9 e crea uno schema aggiungendo 10.

Qual'è il sesto numero nello scema?

\_\_\_\_\_

5. \_\_\_\_\_

6) Inizia da 35 e crea uno schema sottraendo 3.

Qual'è il quarto numero nello scema?

\_\_\_\_\_

6. \_\_\_\_\_

7) Inizia da 41 e crea uno schema aggiungendo 7.

Qual'è il sesto numero nello scema?

\_\_\_\_\_

7. \_\_\_\_\_

8) Inizia da 5 e crea uno schema aggiungendo 10.

Qual'è il sesto numero nello scema?

\_\_\_\_\_

8. \_\_\_\_\_

9) Inizia da 29 e crea uno schema sottraendo 4.

Qual'è il sesto numero nello scema?

\_\_\_\_\_

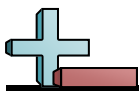
9. \_\_\_\_\_

10) Inizia da 17 e crea uno schema aggiungendo 3.

Qual'è il terzo numero nello scema?

\_\_\_\_\_

10. \_\_\_\_\_

**Crea una sequenza poi trova il numero che la completa**

Ex) Inizia da 27 e crea uno schema aggiungendo 8.

Qual'è il quarto numero nello scema? 27 35 43 51 59 67

1) Inizia da 35 e crea uno schema aggiungendo 3.

Qual'è il sesto numero nello scema? 35 38 41 44 47 50

2) Inizia da 16 e crea uno schema aggiungendo 4.

Qual'è il sesto numero nello scema? 16 20 24 28 32 36

3) Inizia da 19 e crea uno schema aggiungendo 4.

Qual'è il terzo numero nello scema? 19 23 27 31 35 39

4) Inizia da 17 e crea uno schema aggiungendo 9.

Qual'è il terzo numero nello scema? 17 26 35 44 53 62

5) Inizia da 9 e crea uno schema aggiungendo 10.

Qual'è il sesto numero nello scema? 9 19 29 39 49 59

6) Inizia da 35 e crea uno schema sottraendo 3.

Qual'è il quarto numero nello scema? 35 32 29 26 23 20

7) Inizia da 41 e crea uno schema aggiungendo 7.

Qual'è il sesto numero nello scema? 41 48 55 62 69 76

8) Inizia da 5 e crea uno schema aggiungendo 10.

Qual'è il sesto numero nello scema? 5 15 25 35 45 55

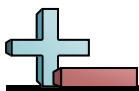
9) Inizia da 29 e crea uno schema sottraendo 4.

Qual'è il sesto numero nello scema? 29 25 21 17 13 9

10) Inizia da 17 e crea uno schema aggiungendo 3.

Qual'è il terzo numero nello scema? 17 20 23 26 29 32

**Risposte**Ex. 511. 502. 363. 274. 355. 596. 267. 768. 559. 910. 23



**Crea una sequenza poi trova il numero che la completa**

**Risposte**

**Ex)** Inizia da 10 e crea uno schema aggiungendo 3.

Qual'è il terzo numero nello scema?      10   13   16   19   22   25

Ex. 16

**1)** Inizia da 75 e crea uno schema sottraendo 10.

Qual'è il terzo numero nello scema?      \_\_\_\_\_

1. \_\_\_\_\_

**2)** Inizia da 46 e crea uno schema sottraendo 3.  
Qual'è il sesto numero nello scema?

\_\_\_\_\_

2. \_\_\_\_\_

**3)** Inizia da 66 e crea uno schema sottraendo 8.  
Qual'è il quinto numero nello scema?

\_\_\_\_\_

3. \_\_\_\_\_

**4)** Inizia da 26 e crea uno schema aggiungendo 2.  
Qual'è il sesto numero nello scema?

\_\_\_\_\_

4. \_\_\_\_\_

**5)** Inizia da 44 e crea uno schema sottraendo 4.  
Qual'è il quinto numero nello scema?

\_\_\_\_\_

5. \_\_\_\_\_

**6)** Inizia da 40 e crea uno schema aggiungendo 8.  
Qual'è il quinto numero nello scema?

\_\_\_\_\_

6. \_\_\_\_\_

**7)** Inizia da 7 e crea uno schema aggiungendo 6.  
Qual'è il sesto numero nello scema?

\_\_\_\_\_

7. \_\_\_\_\_

**8)** Inizia da 10 e crea uno schema aggiungendo 10.  
Qual'è il terzo numero nello scema?

\_\_\_\_\_

8. \_\_\_\_\_

**9)** Inizia da 29 e crea uno schema sottraendo 2.  
Qual'è il terzo numero nello scema?

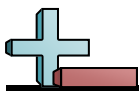
\_\_\_\_\_

9. \_\_\_\_\_

**10)** Inizia da 50 e crea uno schema sottraendo 5.  
Qual'è il terzo numero nello scema?

\_\_\_\_\_

10. \_\_\_\_\_

**Crea una sequenza poi trova il numero che la completa**

Ex) Inizia da 10 e crea uno schema aggiungendo 3.

Qual'è il terzo numero nello scema?

10 13 16 19 22 25

**Risposte**

Ex. 16

1) Inizia da 75 e crea uno schema sottraendo 10.

Qual'è il terzo numero nello scema?

75 65 55 45 35 25

1. 55

2) Inizia da 46 e crea uno schema sottraendo 3.  
Qual'è il sesto numero nello scema?

46 43 40 37 34 31

2. 31

3) Inizia da 66 e crea uno schema sottraendo 8.  
Qual'è il quinto numero nello scema?

66 58 50 42 34 26

3. 34

4) Inizia da 26 e crea uno schema aggiungendo 2.  
Qual'è il sesto numero nello scema?

26 28 30 32 34 36

4. 36

5) Inizia da 44 e crea uno schema sottraendo 4.  
Qual'è il quinto numero nello scema?

44 40 36 32 28 24

5. 28

6) Inizia da 40 e crea uno schema aggiungendo 8.  
Qual'è il quinto numero nello scema?

40 48 56 64 72 80

6. 72

7) Inizia da 7 e crea uno schema aggiungendo 6.  
Qual'è il sesto numero nello scema?

7 13 19 25 31 37

7. 37

8) Inizia da 10 e crea uno schema aggiungendo 10.  
Qual'è il terzo numero nello scema?

10 20 30 40 50 60

8. 30

9) Inizia da 29 e crea uno schema sottraendo 2.  
Qual'è il terzo numero nello scema?

29 27 25 23 21 19

9. 25

10) Inizia da 50 e crea uno schema sottraendo 5.  
Qual'è il terzo numero nello scema?

50 45 40 35 30 25

10. 40



**Crea una sequenza poi trova il numero che la completa**

**Risposte**

Ex) Inizia da 21 e crea uno schema aggiungendo 7.

Qual'è il quinto numero nello scema?

21 28 35 42 49 56

Ex. 49

1) Inizia da 75 e crea uno schema sottraendo 6.  
Qual'è il quarto numero nello scema?

\_\_\_\_\_

1. \_\_\_\_\_

2) Inizia da 61 e crea uno schema sottraendo 4.  
Qual'è il quarto numero nello scema?

\_\_\_\_\_

2. \_\_\_\_\_

3) Inizia da 45 e crea uno schema sottraendo 3.  
Qual'è il sesto numero nello scema?

\_\_\_\_\_

3. \_\_\_\_\_

4) Inizia da 44 e crea uno schema aggiungendo 3.  
Qual'è il quarto numero nello scema?

\_\_\_\_\_

4. \_\_\_\_\_

5) Inizia da 49 e crea uno schema aggiungendo 7.  
Qual'è il terzo numero nello scema?

\_\_\_\_\_

5. \_\_\_\_\_

6) Inizia da 53 e crea uno schema sottraendo 4.  
Qual'è il sesto numero nello scema?

\_\_\_\_\_

6. \_\_\_\_\_

7) Inizia da 43 e crea uno schema aggiungendo 6.  
Qual'è il quarto numero nello scema?

\_\_\_\_\_

7. \_\_\_\_\_

8) Inizia da 47 e crea uno schema sottraendo 3.  
Qual'è il quinto numero nello scema?

\_\_\_\_\_

8. \_\_\_\_\_

9) Inizia da 88 e crea uno schema sottraendo 7.  
Qual'è il sesto numero nello scema?

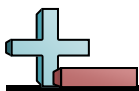
\_\_\_\_\_

9. \_\_\_\_\_

10) Inizia da 74 e crea uno schema sottraendo 7.  
Qual'è il terzo numero nello scema?

\_\_\_\_\_

10. \_\_\_\_\_

**Crea una sequenza poi trova il numero che la completa**

Ex) Inizia da 21 e crea uno schema aggiungendo 7.

Qual'è il quinto numero nello scema?

21 28 35 42 49 56

**Risposte**

Ex. 49

1) Inizia da 75 e crea uno schema sottraendo 6.  
Qual'è il quarto numero nello scema?

75 69 63 57 51 45

1. 57

2) Inizia da 61 e crea uno schema sottraendo 4.  
Qual'è il quarto numero nello scema?

61 57 53 49 45 41

2. 49

3) Inizia da 45 e crea uno schema sottraendo 3.  
Qual'è il sesto numero nello scema?

45 42 39 36 33 30

3. 30

4) Inizia da 44 e crea uno schema aggiungendo 3.  
Qual'è il quarto numero nello scema?

44 47 50 53 56 59

4. 53

5) Inizia da 49 e crea uno schema aggiungendo 7.  
Qual'è il terzo numero nello scema?

49 56 63 70 77 84

5. 63

6) Inizia da 53 e crea uno schema sottraendo 4.  
Qual'è il sesto numero nello scema?

53 49 45 41 37 33

6. 33

7) Inizia da 43 e crea uno schema aggiungendo 6.  
Qual'è il quarto numero nello scema?

43 49 55 61 67 73

7. 61

8) Inizia da 47 e crea uno schema sottraendo 3.  
Qual'è il quinto numero nello scema?

47 44 41 38 35 32

8. 35

9) Inizia da 88 e crea uno schema sottraendo 7.  
Qual'è il sesto numero nello scema?

88 81 74 67 60 53

9. 53

10) Inizia da 74 e crea uno schema sottraendo 7.  
Qual'è il terzo numero nello scema?

74 67 60 53 46 39

10. 60





**Crea una sequenza poi trova il numero che la completa**

**Risposte**

Ex) Inizia da 35 e crea uno schema sottraendo 5.  
Qual'è il quinto numero nello scema?

35 30 25 20 15 10

Ex. 15

1) Inizia da 65 e crea uno schema sottraendo 3.  
Qual'è il terzo numero nello scema?

\_\_\_\_\_

1. \_\_\_\_\_

2) Inizia da 106 e crea uno schema sottraendo 10.  
Qual'è il quinto numero nello scema?

\_\_\_\_\_

2. \_\_\_\_\_

3) Inizia da 32 e crea uno schema aggiungendo 2.  
Qual'è il sesto numero nello scema?

\_\_\_\_\_

3. \_\_\_\_\_

4) Inizia da 9 e crea uno schema aggiungendo 2.  
Qual'è il terzo numero nello scema?

\_\_\_\_\_

4. \_\_\_\_\_

5) Inizia da 37 e crea uno schema sottraendo 5.  
Qual'è il quarto numero nello scema?

\_\_\_\_\_

5. \_\_\_\_\_

6) Inizia da 29 e crea uno schema aggiungendo 6.  
Qual'è il sesto numero nello scema?

\_\_\_\_\_

6. \_\_\_\_\_

7) Inizia da 6 e crea uno schema aggiungendo 9.  
Qual'è il quinto numero nello scema?

\_\_\_\_\_

7. \_\_\_\_\_

8) Inizia da 43 e crea uno schema aggiungendo 2.  
Qual'è il quinto numero nello scema?

\_\_\_\_\_

8. \_\_\_\_\_

9) Inizia da 20 e crea uno schema aggiungendo 4.  
Qual'è il terzo numero nello scema?

\_\_\_\_\_

9. \_\_\_\_\_

10) Inizia da 64 e crea uno schema sottraendo 4.  
Qual'è il terzo numero nello scema?

\_\_\_\_\_

10. \_\_\_\_\_

**Crea una sequenza poi trova il numero che la completa**

Ex) Inizia da 35 e crea uno schema sottraendo 5.

Qual'è il quinto numero nello scema?

35 30 25 20 15 10**Risposte**Ex. 15

1) Inizia da 65 e crea uno schema sottraendo 3.

Qual'è il terzo numero nello scema?

65 62 59 56 53 501. 59

2) Inizia da 106 e crea uno schema sottraendo 10.

Qual'è il quinto numero nello scema?

106 96 86 76 66 562. 66

3) Inizia da 32 e crea uno schema aggiungendo 2.

Qual'è il sesto numero nello scema?

32 34 36 38 40 423. 42

4) Inizia da 9 e crea uno schema aggiungendo 2.

Qual'è il terzo numero nello scema?

9 11 13 15 17 194. 13

5) Inizia da 37 e crea uno schema sottraendo 5.

Qual'è il quarto numero nello scema?

37 32 27 22 17 125. 22

6) Inizia da 29 e crea uno schema aggiungendo 6.

Qual'è il sesto numero nello scema?

29 35 41 47 53 596. 59

7) Inizia da 6 e crea uno schema aggiungendo 9.

Qual'è il quinto numero nello scema?

6 15 24 33 42 517. 42

8) Inizia da 43 e crea uno schema aggiungendo 2.

Qual'è il quinto numero nello scema?

43 45 47 49 51 538. 51

9) Inizia da 20 e crea uno schema aggiungendo 4.

Qual'è il terzo numero nello scema?

20 24 28 32 36 409. 28

10) Inizia da 64 e crea uno schema sottraendo 4.

Qual'è il terzo numero nello scema?

64 60 56 52 48 4410. 56



**Crea una sequenza poi trova il numero che la completa**

**Ex)** Inizia da 21 e crea uno schema sottraendo 2.  
Qual'è il quinto numero nello scema?

21 19 17 15 13 11

**Risposte**

Ex. 13

**1)** Inizia da 6 e crea uno schema aggiungendo 2.  
Qual'è il terzo numero nello scema?

\_\_\_\_\_

1. \_\_\_\_\_

**2)** Inizia da 34 e crea uno schema aggiungendo 6.  
Qual'è il quarto numero nello scema?

\_\_\_\_\_

2. \_\_\_\_\_

**3)** Inizia da 65 e crea uno schema sottraendo 8.  
Qual'è il sesto numero nello scema?

\_\_\_\_\_

3. \_\_\_\_\_

**4)** Inizia da 3 e crea uno schema aggiungendo 2.  
Qual'è il quarto numero nello scema?

\_\_\_\_\_

4. \_\_\_\_\_

**5)** Inizia da 15 e crea uno schema aggiungendo 10.  
Qual'è il sesto numero nello scema?

\_\_\_\_\_

5. \_\_\_\_\_

**6)** Inizia da 3 e crea uno schema aggiungendo 6.  
Qual'è il terzo numero nello scema?

\_\_\_\_\_

6. \_\_\_\_\_

**7)** Inizia da 38 e crea uno schema aggiungendo 5.  
Qual'è il quinto numero nello scema?

\_\_\_\_\_

7. \_\_\_\_\_

**8)** Inizia da 63 e crea uno schema sottraendo 7.  
Qual'è il quinto numero nello scema?

\_\_\_\_\_

8. \_\_\_\_\_

**9)** Inizia da 23 e crea uno schema aggiungendo 9.  
Qual'è il sesto numero nello scema?

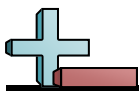
\_\_\_\_\_

9. \_\_\_\_\_

**10)** Inizia da 62 e crea uno schema sottraendo 3.  
Qual'è il quinto numero nello scema?

\_\_\_\_\_

10. \_\_\_\_\_

**Crea una sequenza poi trova il numero che la completa****Ex)** Inizia da 21 e crea uno schema sottraendo 2.

Qual'è il quinto numero nello scema?

21 19 17 15 13 11**Risposte**Ex. 13**1)** Inizia da 6 e crea uno schema aggiungendo 2.

Qual'è il terzo numero nello scema?

6 8 10 12 14 161. 10**2)** Inizia da 34 e crea uno schema aggiungendo 6.

Qual'è il quarto numero nello scema?

34 40 46 52 58 642. 52**3)** Inizia da 65 e crea uno schema sottraendo 8.

Qual'è il sesto numero nello scema?

65 57 49 41 33 253. 25**4)** Inizia da 3 e crea uno schema aggiungendo 2.

Qual'è il quarto numero nello scema?

3 5 7 9 11 134. 9**5)** Inizia da 15 e crea uno schema aggiungendo 10.

Qual'è il sesto numero nello scema?

15 25 35 45 55 655. 65**6)** Inizia da 3 e crea uno schema aggiungendo 6.

Qual'è il terzo numero nello scema?

3 9 15 21 27 336. 15**7)** Inizia da 38 e crea uno schema aggiungendo 5.

Qual'è il quinto numero nello scema?

38 43 48 53 58 637. 58**8)** Inizia da 63 e crea uno schema sottraendo 7.

Qual'è il quinto numero nello scema?

63 56 49 42 35 288. 35**9)** Inizia da 23 e crea uno schema aggiungendo 9.

Qual'è il sesto numero nello scema?

23 32 41 50 59 689. 68**10)** Inizia da 62 e crea uno schema sottraendo 3.

Qual'è il quinto numero nello scema?

62 59 56 53 50 4710. 50

**Crea una sequenza poi trova il numero che la completa**

**Ex)** Inizia da 73 e crea uno schema sottraendo 10.

Qual'è il sesto numero nello scema?

73 63 53 43 33 23

**Risposte**

Ex. 23

**1)** Inizia da 5 e crea uno schema aggiungendo 9.

Qual'è il terzo numero nello scema?

\_\_\_\_\_

1. \_\_\_\_\_

**2)** Inizia da 19 e crea uno schema aggiungendo 4.

Qual'è il quarto numero nello scema?

\_\_\_\_\_

2. \_\_\_\_\_

**3)** Inizia da 96 e crea uno schema sottraendo 8.

Qual'è il quinto numero nello scema?

\_\_\_\_\_

3. \_\_\_\_\_

**4)** Inizia da 29 e crea uno schema sottraendo 3.

Qual'è il sesto numero nello scema?

\_\_\_\_\_

4. \_\_\_\_\_

**5)** Inizia da 65 e crea uno schema sottraendo 3.

Qual'è il terzo numero nello scema?

\_\_\_\_\_

5. \_\_\_\_\_

**6)** Inizia da 26 e crea uno schema aggiungendo 6.

Qual'è il quinto numero nello scema?

\_\_\_\_\_

6. \_\_\_\_\_

**7)** Inizia da 85 e crea uno schema sottraendo 8.

Qual'è il quinto numero nello scema?

\_\_\_\_\_

7. \_\_\_\_\_

**8)** Inizia da 50 e crea uno schema aggiungendo 10.

Qual'è il terzo numero nello scema?

\_\_\_\_\_

8. \_\_\_\_\_

**9)** Inizia da 38 e crea uno schema sottraendo 5.

Qual'è il quinto numero nello scema?

\_\_\_\_\_

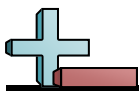
9. \_\_\_\_\_

**10)** Inizia da 24 e crea uno schema aggiungendo 3.

Qual'è il sesto numero nello scema?

\_\_\_\_\_

10. \_\_\_\_\_

**Crea una sequenza poi trova il numero che la completa**

Ex) Inizia da 73 e crea uno schema sottraendo 10.

Qual'è il sesto numero nello scema? 73 63 53 43 33 23

**Risposte**

Ex. 23

1) Inizia da 5 e crea uno schema aggiungendo 9.

Qual'è il terzo numero nello scema? 5 14 23 32 41 50

1. 23

2) Inizia da 19 e crea uno schema aggiungendo 4.

Qual'è il quarto numero nello scema? 19 23 27 31 35 39

2. 31

3) Inizia da 96 e crea uno schema sottraendo 8.

Qual'è il quinto numero nello scema? 96 88 80 72 64 56

3. 64

4) Inizia da 29 e crea uno schema sottraendo 3.

Qual'è il sesto numero nello scema? 29 26 23 20 17 14

4. 14

5) Inizia da 65 e crea uno schema sottraendo 3.

Qual'è il terzo numero nello scema? 65 62 59 56 53 50

5. 59

6) Inizia da 26 e crea uno schema aggiungendo 6.

Qual'è il quinto numero nello scema? 26 32 38 44 50 56

6. 50

7) Inizia da 85 e crea uno schema sottraendo 8.

Qual'è il quinto numero nello scema? 85 77 69 61 53 45

7. 53

8) Inizia da 50 e crea uno schema aggiungendo 10.

Qual'è il terzo numero nello scema? 50 60 70 80 90 100

8. 70

9) Inizia da 38 e crea uno schema sottraendo 5.

Qual'è il quinto numero nello scema? 38 33 28 23 18 13

9. 18

10) Inizia da 24 e crea uno schema aggiungendo 3.

Qual'è il sesto numero nello scema? 24 27 30 33 36 39

10. 39



**Crea una sequenza poi trova il numero che la completa**

**Risposte**

Ex) Inizia da 21 e crea uno schema aggiungendo 10.

Qual'è il quinto numero nello scema?

21 31 41 51 61 71

Ex. 61

1) Inizia da 61 e crea uno schema sottraendo 3.  
Qual'è il sesto numero nello scema?

\_\_\_\_\_

1. \_\_\_\_\_

2) Inizia da 77 e crea uno schema sottraendo 6.  
Qual'è il terzo numero nello scema?

\_\_\_\_\_

2. \_\_\_\_\_

3) Inizia da 50 e crea uno schema sottraendo 8.  
Qual'è il terzo numero nello scema?

\_\_\_\_\_

3. \_\_\_\_\_

4) Inizia da 64 e crea uno schema sottraendo 5.  
Qual'è il quinto numero nello scema?

\_\_\_\_\_

4. \_\_\_\_\_

5) Inizia da 25 e crea uno schema aggiungendo 4.  
Qual'è il quarto numero nello scema?

\_\_\_\_\_

5. \_\_\_\_\_

6) Inizia da 77 e crea uno schema sottraendo 7.  
Qual'è il terzo numero nello scema?

\_\_\_\_\_

6. \_\_\_\_\_

7) Inizia da 32 e crea uno schema sottraendo 5.  
Qual'è il quinto numero nello scema?

\_\_\_\_\_

7. \_\_\_\_\_

8) Inizia da 87 e crea uno schema sottraendo 9.  
Qual'è il quarto numero nello scema?

\_\_\_\_\_

8. \_\_\_\_\_

9) Inizia da 18 e crea uno schema aggiungendo 8.  
Qual'è il quinto numero nello scema?

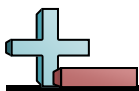
\_\_\_\_\_

9. \_\_\_\_\_

10) Inizia da 15 e crea uno schema aggiungendo 7.  
Qual'è il quarto numero nello scema?

\_\_\_\_\_

10. \_\_\_\_\_

**Crea una sequenza poi trova il numero che la completa**

Ex) Inizia da 21 e crea uno schema aggiungendo 10.

Qual'è il quinto numero nello scema?

21 31 41 51 61 71

**Risposte**

Ex. 61

1) Inizia da 61 e crea uno schema sottraendo 3.

Qual'è il sesto numero nello scema?

61 58 55 52 49 46

1. 46

2) Inizia da 77 e crea uno schema sottraendo 6.

Qual'è il terzo numero nello scema?

77 71 65 59 53 47

2. 65

3) Inizia da 50 e crea uno schema sottraendo 8.

Qual'è il terzo numero nello scema?

50 42 34 26 18 10

3. 34

4) Inizia da 64 e crea uno schema sottraendo 5.

Qual'è il quinto numero nello scema?

64 59 54 49 44 39

4. 44

5) Inizia da 25 e crea uno schema aggiungendo 4.

Qual'è il quarto numero nello scema?

25 29 33 37 41 45

5. 37

6) Inizia da 77 e crea uno schema sottraendo 7.

Qual'è il terzo numero nello scema?

77 70 63 56 49 42

6. 63

7) Inizia da 32 e crea uno schema sottraendo 5.

Qual'è il quinto numero nello scema?

32 27 22 17 12 7

7. 12

8) Inizia da 87 e crea uno schema sottraendo 9.

Qual'è il quarto numero nello scema?

87 78 69 60 51 42

8. 60

9) Inizia da 18 e crea uno schema aggiungendo 8.

Qual'è il quinto numero nello scema?

18 26 34 42 50 58

9. 50

10) Inizia da 15 e crea uno schema aggiungendo 7.

Qual'è il quarto numero nello scema?

15 22 29 36 43 50

10. 36





**Crea una sequenza poi trova il numero che la completa**

**Risposte**

Ex) Inizia da 26 e crea uno schema aggiungendo 7.

Qual'è il terzo numero nello scema?

26 33 40 47 54 61

Ex. 40

1) Inizia da 42 e crea uno schema sottraendo 4.  
Qual'è il sesto numero nello scema?

\_\_\_\_\_

1. \_\_\_\_\_

2) Inizia da 77 e crea uno schema sottraendo 10.  
Qual'è il quarto numero nello scema?

\_\_\_\_\_

2. \_\_\_\_\_

3) Inizia da 29 e crea uno schema aggiungendo 3.  
Qual'è il sesto numero nello scema?

\_\_\_\_\_

3. \_\_\_\_\_

4) Inizia da 64 e crea uno schema sottraendo 5.  
Qual'è il terzo numero nello scema?

\_\_\_\_\_

4. \_\_\_\_\_

5) Inizia da 54 e crea uno schema sottraendo 3.  
Qual'è il quinto numero nello scema?

\_\_\_\_\_

5. \_\_\_\_\_

6) Inizia da 15 e crea uno schema aggiungendo 8.  
Qual'è il terzo numero nello scema?

\_\_\_\_\_

6. \_\_\_\_\_

7) Inizia da 26 e crea uno schema aggiungendo 10.  
Qual'è il terzo numero nello scema?

\_\_\_\_\_

7. \_\_\_\_\_

8) Inizia da 101 e crea uno schema sottraendo 9.  
Qual'è il quarto numero nello scema?

\_\_\_\_\_

8. \_\_\_\_\_

9) Inizia da 34 e crea uno schema aggiungendo 4.  
Qual'è il terzo numero nello scema?

\_\_\_\_\_

9. \_\_\_\_\_

10) Inizia da 48 e crea uno schema sottraendo 5.  
Qual'è il quarto numero nello scema?

\_\_\_\_\_

10. \_\_\_\_\_

**Crea una sequenza poi trova il numero che la completa**

Ex) Inizia da 26 e crea uno schema aggiungendo 7.

Qual'è il terzo numero nello scema?

26 33 40 47 54 61

**Risposte**

Ex. 40

1) Inizia da 42 e crea uno schema sottraendo 4.  
Qual'è il sesto numero nello scema?

42 38 34 30 26 22

1. 22

2) Inizia da 77 e crea uno schema sottraendo 10.  
Qual'è il quarto numero nello scema?

77 67 57 47 37 27

2. 47

3) Inizia da 29 e crea uno schema aggiungendo 3.  
Qual'è il sesto numero nello scema?

29 32 35 38 41 44

3. 44

4) Inizia da 64 e crea uno schema sottraendo 5.  
Qual'è il terzo numero nello scema?

64 59 54 49 44 39

4. 54

5) Inizia da 54 e crea uno schema sottraendo 3.  
Qual'è il quinto numero nello scema?

54 51 48 45 42 39

5. 42

6) Inizia da 15 e crea uno schema aggiungendo 8.  
Qual'è il terzo numero nello scema?

15 23 31 39 47 55

6. 31

7) Inizia da 26 e crea uno schema aggiungendo 10.  
Qual'è il terzo numero nello scema?

26 36 46 56 66 76

7. 46

8) Inizia da 101 e crea uno schema sottraendo 9.  
Qual'è il quarto numero nello scema?

101 92 83 74 65 56

8. 74

9) Inizia da 34 e crea uno schema aggiungendo 4.  
Qual'è il terzo numero nello scema?

34 38 42 46 50 54

9. 42

10) Inizia da 48 e crea uno schema sottraendo 5.  
Qual'è il quarto numero nello scema?

48 43 38 33 28 23

10. 33



**Crea una sequenza poi trova il numero che la completa**

**Risposte**

**Ex)** Inizia da 11 e crea uno schema aggiungendo 8.

Qual'è il quarto numero nello scema?

11   19   27   35   43   51

Ex. 35

**1)** Inizia da 9 e crea uno schema aggiungendo 9.

Qual'è il quinto numero nello scema?

\_\_\_\_\_

1. \_\_\_\_\_

**2)** Inizia da 44 e crea uno schema sottraendo 4.  
Qual'è il sesto numero nello scema?

\_\_\_\_\_

2. \_\_\_\_\_

**3)** Inizia da 44 e crea uno schema aggiungendo 3.

Qual'è il quarto numero nello scema?

\_\_\_\_\_

3. \_\_\_\_\_

**4)** Inizia da 4 e crea uno schema aggiungendo 2.

Qual'è il terzo numero nello scema?

\_\_\_\_\_

4. \_\_\_\_\_

**5)** Inizia da 59 e crea uno schema sottraendo 2.  
Qual'è il sesto numero nello scema?

\_\_\_\_\_

5. \_\_\_\_\_

**6)** Inizia da 103 e crea uno schema sottraendo 9.  
Qual'è il sesto numero nello scema?

\_\_\_\_\_

6. \_\_\_\_\_

**7)** Inizia da 44 e crea uno schema sottraendo 6.  
Qual'è il sesto numero nello scema?

\_\_\_\_\_

7. \_\_\_\_\_

**8)** Inizia da 81 e crea uno schema sottraendo 6.  
Qual'è il sesto numero nello scema?

\_\_\_\_\_

8. \_\_\_\_\_

**9)** Inizia da 71 e crea uno schema sottraendo 10.

Qual'è il sesto numero nello scema?

\_\_\_\_\_

9. \_\_\_\_\_

**10)** Inizia da 70 e crea uno schema sottraendo 7.  
Qual'è il sesto numero nello scema?

\_\_\_\_\_

10. \_\_\_\_\_

**Crea una sequenza poi trova il numero che la completa**

Ex) Inizia da 11 e crea uno schema aggiungendo 8.

Qual'è il quarto numero nello scema? 11 19 27 35 43 51

1) Inizia da 9 e crea uno schema aggiungendo 9.

Qual'è il quinto numero nello scema? 9 18 27 36 45 54

2) Inizia da 44 e crea uno schema sottraendo 4.

Qual'è il sesto numero nello scema? 44 40 36 32 28 24

3) Inizia da 44 e crea uno schema aggiungendo 3.

Qual'è il quarto numero nello scema? 44 47 50 53 56 59

4) Inizia da 4 e crea uno schema aggiungendo 2.

Qual'è il terzo numero nello scema? 4 6 8 10 12 14

5) Inizia da 59 e crea uno schema sottraendo 2.

Qual'è il sesto numero nello scema? 59 57 55 53 51 49

6) Inizia da 103 e crea uno schema sottraendo 9.

Qual'è il sesto numero nello scema? 103 94 85 76 67 58

7) Inizia da 44 e crea uno schema sottraendo 6.

Qual'è il sesto numero nello scema? 44 38 32 26 20 14

8) Inizia da 81 e crea uno schema sottraendo 6.

Qual'è il sesto numero nello scema? 81 75 69 63 57 51

9) Inizia da 71 e crea uno schema sottraendo 10.

Qual'è il sesto numero nello scema? 71 61 51 41 31 21

10) Inizia da 70 e crea uno schema sottraendo 7.

Qual'è il sesto numero nello scema? 70 63 56 49 42 35

**Risposte**Ex. 351. 452. 243. 534. 85. 496. 587. 148. 519. 2110. 35