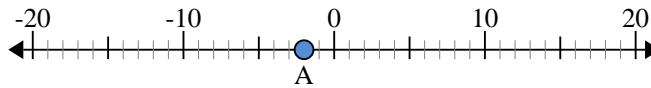


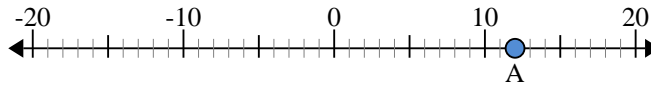


Usa la linea numerata per trovare il valore assoluto.

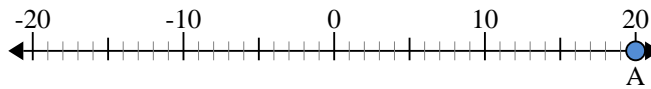
- 1) a. Qual'è il valore di 'A'?
b. Quanto è distante 'A' dallo 0 (valore assoluto)?



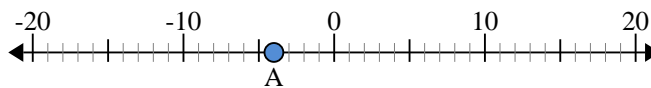
- 2) a. Qual'è il valore di 'A'?
b. Quanto è distante 'A' dallo 0 (valore assoluto)?



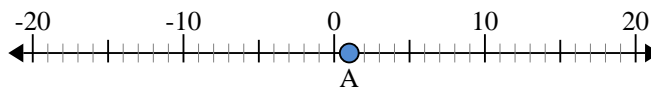
- 3) a. Qual'è il valore di 'A'?
b. Quanto è distante 'A' dallo 0 (valore assoluto)?



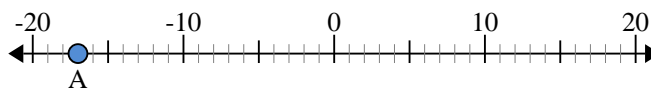
- 4) a. Qual'è il valore di 'A'?
b. Quanto è distante 'A' dallo 0 (valore assoluto)?



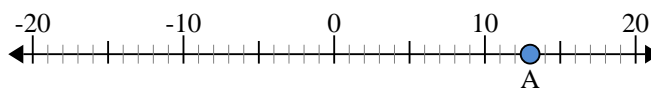
- 5) a. Qual'è il valore di 'A'?
b. Quanto è distante 'A' dallo 0 (valore assoluto)?



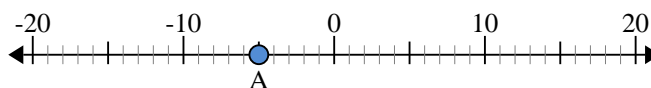
- 6) a. Qual'è il valore di 'A'?
b. Quanto è distante 'A' dallo 0 (valore assoluto)?



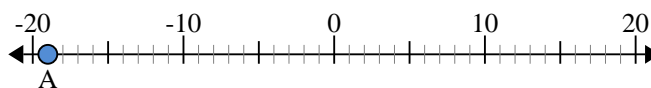
- 7) a. Qual'è il valore di 'A'?
b. Quanto è distante 'A' dallo 0 (valore assoluto)?



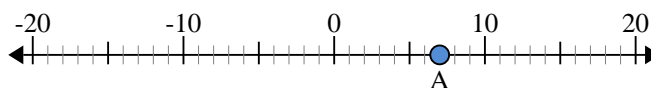
- 8) a. Qual'è il valore di 'A'?
b. Quanto è distante 'A' dallo 0 (valore assoluto)?



- 9) a. Qual'è il valore di 'A'?
b. Quanto è distante 'A' dallo 0 (valore assoluto)?



- 10) a. Qual'è il valore di 'A'?
b. Quanto è distante 'A' dallo 0 (valore assoluto)?



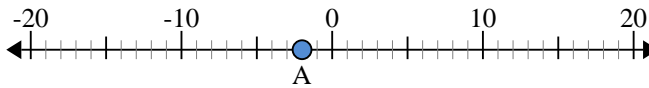
Risposte

1. _____
2. _____
3. _____
4. _____
5. _____
6. _____
7. _____
8. _____
9. _____
10. _____

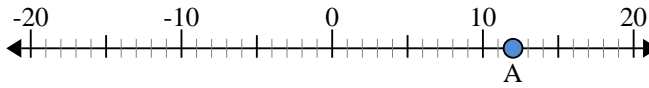


Usa la linea numerata per trovare il valore assoluto.

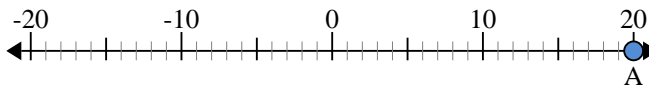
- 1) a. Qual'è il valore di 'A'?
b. Quanto è distante 'A' dallo 0 (valore assoluto)?



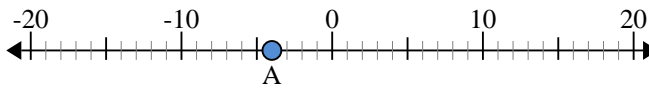
- 2) a. Qual'è il valore di 'A'?
b. Quanto è distante 'A' dallo 0 (valore assoluto)?



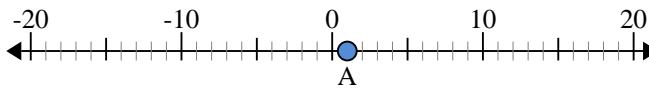
- 3) a. Qual'è il valore di 'A'?
b. Quanto è distante 'A' dallo 0 (valore assoluto)?



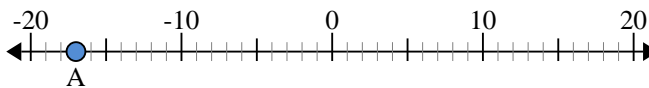
- 4) a. Qual'è il valore di 'A'?
b. Quanto è distante 'A' dallo 0 (valore assoluto)?



- 5) a. Qual'è il valore di 'A'?
b. Quanto è distante 'A' dallo 0 (valore assoluto)?



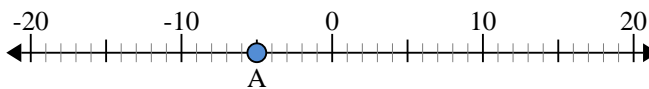
- 6) a. Qual'è il valore di 'A'?
b. Quanto è distante 'A' dallo 0 (valore assoluto)?



- 7) a. Qual'è il valore di 'A'?
b. Quanto è distante 'A' dallo 0 (valore assoluto)?



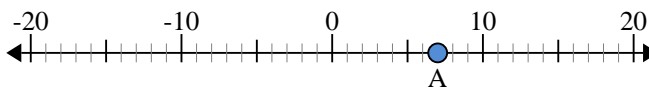
- 8) a. Qual'è il valore di 'A'?
b. Quanto è distante 'A' dallo 0 (valore assoluto)?



- 9) a. Qual'è il valore di 'A'?
b. Quanto è distante 'A' dallo 0 (valore assoluto)?



- 10) a. Qual'è il valore di 'A'?
b. Quanto è distante 'A' dallo 0 (valore assoluto)?



Risposte

1.	<u>-2</u>	<u>2</u>
2.	<u>12</u>	<u>12</u>
3.	<u>20</u>	<u>20</u>
4.	<u>-4</u>	<u>4</u>
5.	<u>1</u>	<u>1</u>
6.	<u>-17</u>	<u>17</u>
7.	<u>13</u>	<u>13</u>
8.	<u>-5</u>	<u>5</u>
9.	<u>-19</u>	<u>19</u>
10.	<u>7</u>	<u>7</u>