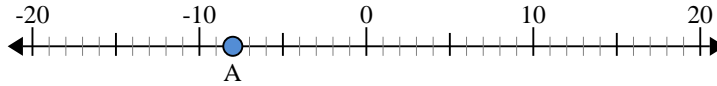


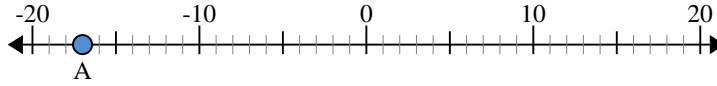


Usa la linea numerata per trovare il valore assoluto.

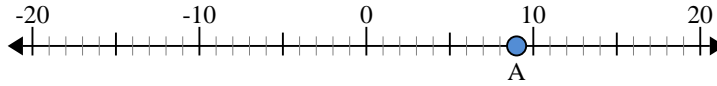
- 1) a. Qual'è il valore di 'A'?
- b. Quanto è distante 'A' dallo 0 (valore assoluto)?



- 2) a. Qual'è il valore di 'A'?
- b. Quanto è distante 'A' dallo 0 (valore assoluto)?



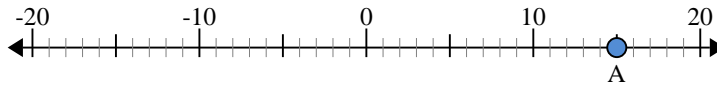
- 3) a. Qual'è il valore di 'A'?
- b. Quanto è distante 'A' dallo 0 (valore assoluto)?



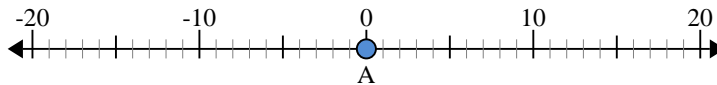
- 4) a. Qual'è il valore di 'A'?
- b. Quanto è distante 'A' dallo 0 (valore assoluto)?



- 5) a. Qual'è il valore di 'A'?
- b. Quanto è distante 'A' dallo 0 (valore assoluto)?



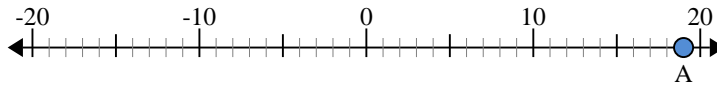
- 6) a. Qual'è il valore di 'A'?
- b. Quanto è distante 'A' dallo 0 (valore assoluto)?



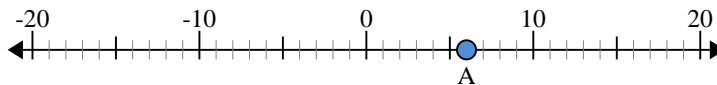
- 7) a. Qual'è il valore di 'A'?
- b. Quanto è distante 'A' dallo 0 (valore assoluto)?



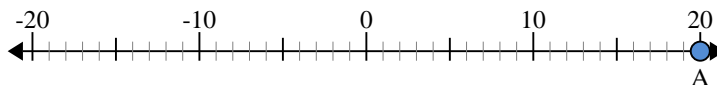
- 8) a. Qual'è il valore di 'A'?
- b. Quanto è distante 'A' dallo 0 (valore assoluto)?



- 9) a. Qual'è il valore di 'A'?
- b. Quanto è distante 'A' dallo 0 (valore assoluto)?



- 10) a. Qual'è il valore di 'A'?
- b. Quanto è distante 'A' dallo 0 (valore assoluto)?



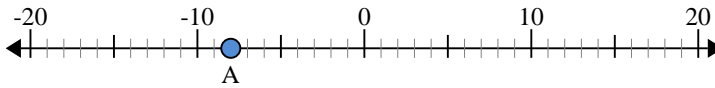
Risposte

1. _____
2. _____
3. _____
4. _____
5. _____
6. _____
7. _____
8. _____
9. _____
10. _____

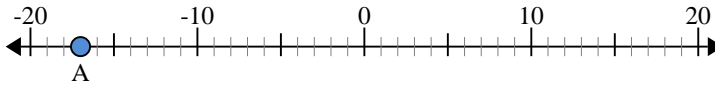


Usa la linea numerata per trovare il valore assoluto.

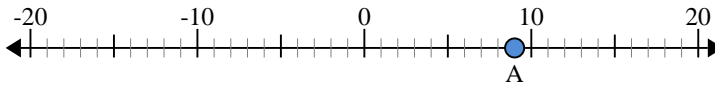
- 1) a. Qual'è il valore di 'A'?
- b. Quanto è distante 'A' dallo 0 (valore assoluto)?



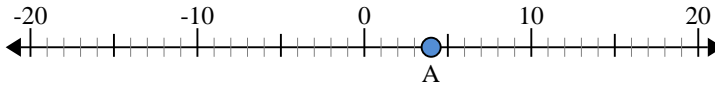
- 2) a. Qual'è il valore di 'A'?
- b. Quanto è distante 'A' dallo 0 (valore assoluto)?



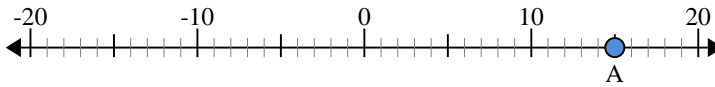
- 3) a. Qual'è il valore di 'A'?
- b. Quanto è distante 'A' dallo 0 (valore assoluto)?



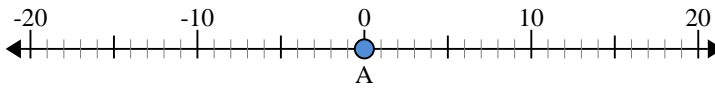
- 4) a. Qual'è il valore di 'A'?
- b. Quanto è distante 'A' dallo 0 (valore assoluto)?



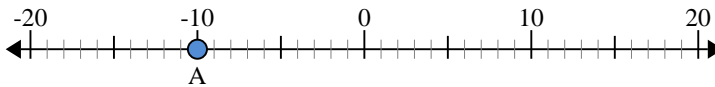
- 5) a. Qual'è il valore di 'A'?
- b. Quanto è distante 'A' dallo 0 (valore assoluto)?



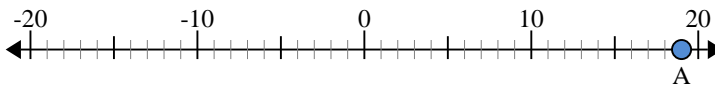
- 6) a. Qual'è il valore di 'A'?
- b. Quanto è distante 'A' dallo 0 (valore assoluto)?



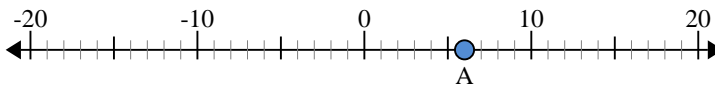
- 7) a. Qual'è il valore di 'A'?
- b. Quanto è distante 'A' dallo 0 (valore assoluto)?



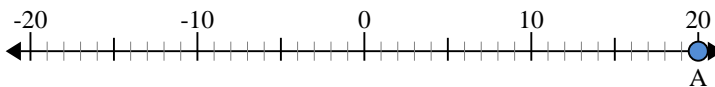
- 8) a. Qual'è il valore di 'A'?
- b. Quanto è distante 'A' dallo 0 (valore assoluto)?



- 9) a. Qual'è il valore di 'A'?
- b. Quanto è distante 'A' dallo 0 (valore assoluto)?



- 10) a. Qual'è il valore di 'A'?
- b. Quanto è distante 'A' dallo 0 (valore assoluto)?



Risposte

| | | |
|-----|------------|-----------|
| 1. | <u>-8</u> | <u>8</u> |
| 2. | <u>-17</u> | <u>17</u> |
| 3. | <u>9</u> | <u>9</u> |
| 4. | <u>4</u> | <u>4</u> |
| 5. | <u>15</u> | <u>15</u> |
| 6. | <u>0</u> | <u>0</u> |
| 7. | <u>-10</u> | <u>10</u> |
| 8. | <u>19</u> | <u>19</u> |
| 9. | <u>6</u> | <u>6</u> |
| 10. | <u>20</u> | <u>20</u> |