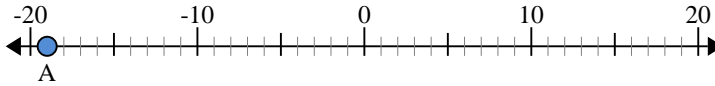


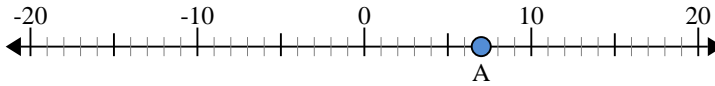


Usa la linea numerata per trovare il valore assoluto.

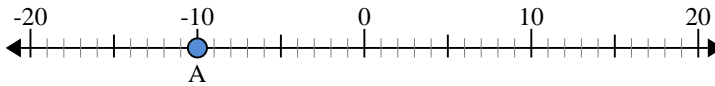
- 1) a. Qual'è il valore di 'A'?
- b. Quanto è distante 'A' dallo 0 (valore assoluto)?



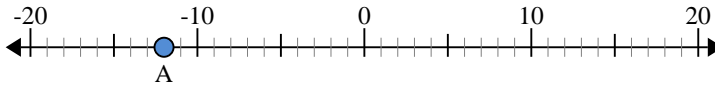
- 2) a. Qual'è il valore di 'A'?
- b. Quanto è distante 'A' dallo 0 (valore assoluto)?



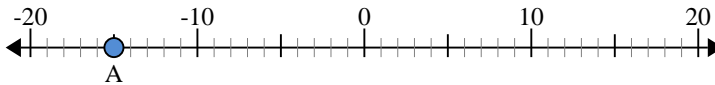
- 3) a. Qual'è il valore di 'A'?
- b. Quanto è distante 'A' dallo 0 (valore assoluto)?



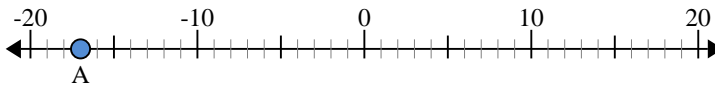
- 4) a. Qual'è il valore di 'A'?
- b. Quanto è distante 'A' dallo 0 (valore assoluto)?



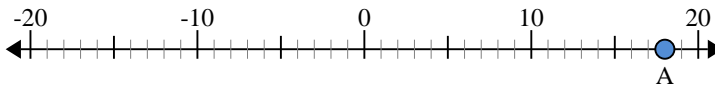
- 5) a. Qual'è il valore di 'A'?
- b. Quanto è distante 'A' dallo 0 (valore assoluto)?



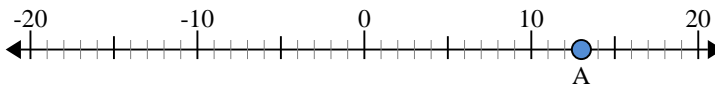
- 6) a. Qual'è il valore di 'A'?
- b. Quanto è distante 'A' dallo 0 (valore assoluto)?



- 7) a. Qual'è il valore di 'A'?
- b. Quanto è distante 'A' dallo 0 (valore assoluto)?



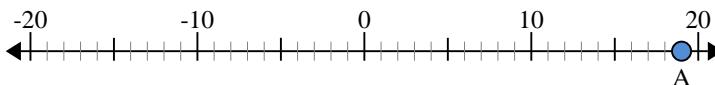
- 8) a. Qual'è il valore di 'A'?
- b. Quanto è distante 'A' dallo 0 (valore assoluto)?



- 9) a. Qual'è il valore di 'A'?
- b. Quanto è distante 'A' dallo 0 (valore assoluto)?



- 10) a. Qual'è il valore di 'A'?
- b. Quanto è distante 'A' dallo 0 (valore assoluto)?


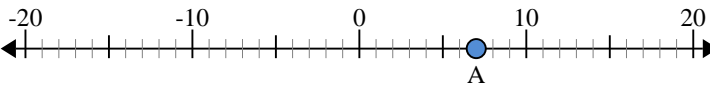
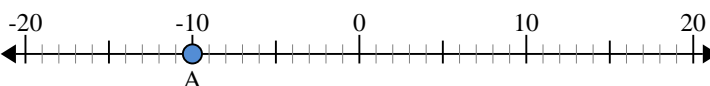


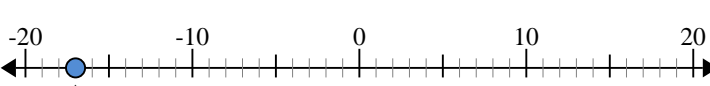
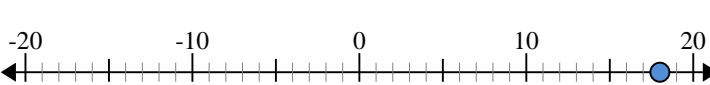
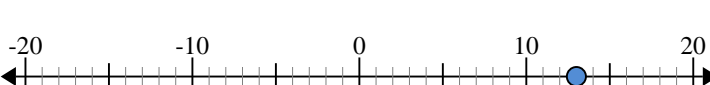

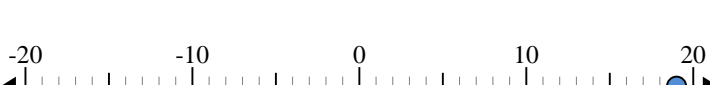


Risposte

1. _____
2. _____
3. _____
4. _____
5. _____
6. _____
7. _____
8. _____
9. _____
10. _____



Usa la linea numerata per trovare il valore assoluto.

- 1) a. Qual'è il valore di 'A'? 
 b. Quanto è distante 'A' dallo 0 (valore assoluto)?
- 2) a. Qual'è il valore di 'A'? 
 b. Quanto è distante 'A' dallo 0 (valore assoluto)?
- 3) a. Qual'è il valore di 'A'? 
 b. Quanto è distante 'A' dallo 0 (valore assoluto)?
- 4) a. Qual'è il valore di 'A'? 
 b. Quanto è distante 'A' dallo 0 (valore assoluto)?
- 5) a. Qual'è il valore di 'A'? 
 b. Quanto è distante 'A' dallo 0 (valore assoluto)?
- 6) a. Qual'è il valore di 'A'? 
 b. Quanto è distante 'A' dallo 0 (valore assoluto)?
- 7) a. Qual'è il valore di 'A'? 
 b. Quanto è distante 'A' dallo 0 (valore assoluto)?
- 8) a. Qual'è il valore di 'A'? 
 b. Quanto è distante 'A' dallo 0 (valore assoluto)?
- 9) a. Qual'è il valore di 'A'? 
 b. Quanto è distante 'A' dallo 0 (valore assoluto)?
- 10) a. Qual'è il valore di 'A'? 
 b. Quanto è distante 'A' dallo 0 (valore assoluto)?

Risposte

1. -19 19
2. 7 7
3. -10 10
4. -12 12
5. -15 15
6. -17 17
7. 18 18
8. 13 13
9. 8 8
10. 19 19